

Министерство образования Республики Беларусь
Учреждение образования
«Белорусский государственный университет
информатики и радиоэлектроники»

Библиотека БГУИР



000367893

Кафедра высшей математики

СБОРНИК ЗАДАЧ ПО ВЫСШЕЙ МАТЕМАТИКЕ

для студентов радиотехнических
специальностей БГУИР


В 10-ти частях

А. А. Карпук, Р. М. Жевняк, В. В. Цегельник, И. А. Смирнова

Часть 6

***ИНТЕГРАЛЬНОЕ ИСЧИСЛЕНИЕ
ФУНКЦИЙ ОДНОЙ ПЕРЕМЕННОЙ***

8-5558/007



Минск 2006

УДК 517 + 517.3 (075.8)

ББК 22. 161. я 73

С 23

Рецензент:

зав. кафедрой информационных технологий
автоматизированных систем БГУИР,
доктор технических наук, профессор В. С. Муха

С 23 **Сборник задач по высшей математике для студ. радиотехнич. спец. В 10 ч. Ч.6: Интегральное исчисление функций одной переменной / А. А. Карпук, Р. М. Жевняк, В. В. Цегельник, И. А. Смирнова. – Мн.: БГУИР, 2006. – 148 с. : ил. ISBN 985-444-935-1 (ч.6)**

В части 6 сборника приводятся задачи по интегральному исчислению функций одной переменной.

УДК 517 + 517.3 (075.8)

ББК 22. 161. я 73

Ч. 1: Сборник задач по высшей математике: Учеб. пособие. В 10 ч. Ч.1: Аналитическая геометрия / А.А. Карпук, Р.М. Жевняк. – Мн.: БГУИР, 2002. – 112 с.: ил.; 2-е изд. – 2003, 3-е изд. – 2004.

Ч. 2: Сборник задач по высшей математике. В 10 ч. Ч. 2: Линейная алгебра (с решениями и комментариями) / А.А. Карпук, Р.М. Жевняк, В.В. Цегельник. – Мн.: БГУИР, 2004. – 154 с.

Ч. 3: Сборник задач по высшей математике. Ч. 3: Введение в анализ / Н.Н. Третьякова, Т.М. Пушкарева, О.Н. Малышева. – Мн.: БГУИР, 2005. – 116 с.

Ч. 4: Сборник задач по высшей математике для студ. радиотехнич. спец. БГУИР. В 10 ч. Ч. 4: Дифференциальное исчисление функций одной переменной / А.А. Карпук, В.В. Цегельник, Р.М. Жевняк, И.В. Назарова. – Мн.: БГУИР, 2006. – 107 с.

Ч. 5: Сборник задач по высшей математике для студ. радиотехнич. спец. В 10 ч. Ч. 5: Функции многих переменных / А.А. Карпук, Р.М. Жевняк, В.В. Цегельник и др. – Мн.: БГУИР, 2004. – 64 с.

Введение

Настоящее пособие является шестой частью «Сборника задач по высшей математике в десяти частях», издаваемого кафедрой высшей математики БГУИР. В ч. 6 приводятся в концентрированной форме задачи и упражнения по интегральному исчислению функций одной переменной: неопределённый и определённый интегралы, несобственные интегралы, а также их приложения, физические и геометрические. Пособие будет полезным не только студентам вузов, но и преподавателям, ведущим занятия в студенческих группах.

В конце пособия приводятся 15 вариантов самостоятельной работы по интегральному исчислению функций одной переменной.

В пособии знаком (*) отмечены наиболее трудные задачи, требующие для их решения определённой смекалки и изобретательности. Начало решения задачи отмечено знаком Δ , конец решения — знаком \blacktriangle , указание — знаком \bullet .

1. Неопределённый интеграл

1.1. Первообразная и неопределённый интеграл

Свойства первообразной и неопределённого интеграла. Таблица основных неопределённых интегралов. Непосредственное интегрирование. Интегрирование подстановкой (замена переменной интегрирования). Интегрирование по частям.

Функция $F(x)$ называется *первообразной* функции $f(x)$ на интервале (a, b) , если $F(x)$ непрерывна на (a, b) , дифференцируема в каждой внутренней точке этого интервала и $F'(x) = f(x), \forall x \in (a, b)$.

Для каждой непрерывной функции $f(x)$ первообразная существует.

Две первообразные $F_1(x)$ и $F_2(x)$ одной и той же функции $f(x)$ отличаются на константу C , т.е. $F_1(x) = F_2(x) + C$.

Совокупность всех первообразных функции $f(x)$ называется *неопределённым интегралом* от функции $f(x)$ и обозначается

$$\int f(x) dx.$$

Итак, по определению

$$\int f(x) dx = F(x) + C, \quad (1.1)$$

где $F(x)$ — любая первообразная функции $f(x)$

Символ \int называется *знаком интеграла*, $f(x)$ — *подынтегральной функцией*, $f(x) dx$ — *подынтегральным выражением*, x — *переменной интегрирования*.

1.1. Найти любую первообразную функции $f(x) = \cos x$, $x \in \mathbb{R}$, и её неопределенный интеграл.

Δ Так как $(\sin x)' = \cos x$, $x \in \mathbb{R}$, то $F(x) = \sin x$, и, значит $\int \cos x dx = \sin x + C$. ▲

Неопределенный интеграл обладает следующими свойствами:

$$1^\circ \int f'(x) dx = f(x); \quad 2^\circ d\left(\int f(x) dx\right) = f(x) dx;$$

$$3^\circ \int f'(x) dx = f(x) + C; \quad 4^\circ \int df(x) = f(x) + C;$$

5° (Линейность неопределенного интеграла). Если $f(x)$ и $g(x)$ имеют первообразные $F(x)$ и $G(x)$, то для любых α и β из \mathbb{R}

$$\int (\alpha f(x) + \beta g(x)) dx = \alpha \int f(x) dx + \beta \int g(x) dx = \alpha F(x) + \beta G(x) + C.$$

6° Если $F(x)$ — первообразная функции $f(x)$, то для любых $a \neq 0$, $b \in \mathbb{R}$

$$\int f(ax + b) dx = \frac{1}{a} F(ax + b) + C.$$

Приведем теперь таблицу основных неопределенных интегралов.

Каждая из нижеприведенных формул справедлива на промежутке, определена подынтегральная функция.

$$1. \int x^\alpha dx = \frac{x^{\alpha+1}}{\alpha+1} + C, \alpha \neq -1.$$

$$2. \int \frac{dx}{ax + b} = \frac{1}{a} \ln|ax + b| + C, a \neq 0.$$

$$3. \int a^x dx = \frac{a^x}{\ln a} + C, 0 < a \neq 1.$$

$$4. \int e^x dx = e^x + C.$$

$$5. \int \sin x dx = -\cos x + C.$$

$$6. \int \cos x dx = \sin x + C.$$

$$7. \int \frac{dx}{\cos^2 x} = \operatorname{tg} x + C.$$

$$8. \int \frac{dx}{\sin^2 x} = -\operatorname{ctg} x + C.$$

$$9. \int \frac{dx}{\sqrt{1-x^2}} = \begin{cases} \arcsin x + C; \\ -\arccos x + C. \end{cases}$$

$$10. \int \operatorname{sh} x dx = \operatorname{ch} x + C.$$

$$11. \int \operatorname{ch} x dx = \operatorname{sh} x + C.$$

$$12. \int \frac{dx}{\operatorname{ch}^2 x} = \operatorname{th} x + C.$$

$$13. \int \frac{dx}{\operatorname{sh}^2 x} = -\operatorname{cth} x + C.$$

$$14. \int \frac{dx}{x^2 + a^2} = \frac{1}{a} \operatorname{arctg} \frac{x}{a}, a \neq 0.$$

$$15. \int \frac{dx}{x^2 - a^2} = \frac{1}{2a} \ln \left| \frac{x-a}{x+a} \right|, a \neq 0$$

$$16. \int \frac{dx}{\sqrt{a^2 - x^2}} = \arcsin \frac{x}{|a|} + C, a \neq 0$$

$$17. \int \frac{dx}{\sqrt{x^2 \pm a^2}} = \ln(x + \sqrt{x^2 \pm a^2}), a \neq 0.$$

Свойства неопределенного интеграла и таблица основных интегралов позволяют вычислить некоторые интегралы так называемым *методом непосредственного интегрирования*.

1.2. Найти интегралы:

$$а) I_1 = \int \frac{\sqrt{4+x^2} + 2\sqrt{4-x^2}}{\sqrt{16-x^4}} dx; \quad б) I_2 = \int ctg^2 x dx.$$

Δ а) Проведем очевидные преобразования в подынтегральном выражении для $x \neq \pm 4$:

$$I_1 = \int \frac{dx}{\sqrt{4-x^2}} + 2 \int \frac{dx}{\sqrt{4+x^2}} = \arcsin \frac{x}{2} + 2 \ln(x + \sqrt{4+x^2}) + C.$$

б) Так как $ctg^2 x = \frac{1}{\sin^2 x} - 1$, то

$$I_2 = \int \frac{dx}{\sin^2 x} - \int dx = -ctgx - x + C. \blacktriangle$$

1.3. Найти интегралы:

$$1) \int \sqrt{x} \sqrt{x} \sqrt{x} dx; \quad 2) \int \frac{dx}{3x^2 - 5};$$

$$3) \int 2^{2x} e^x dx; \quad 4) \int \sin^2 \frac{x}{2} dx.$$

$$\text{Отв.: } 1) \frac{8}{15} x^8 \sqrt{x^7} + C; \quad 2) \frac{1}{2\sqrt{15}} \ln \left| \frac{x\sqrt{3} - \sqrt{5}}{x\sqrt{3} + \sqrt{5}} \right| + C;$$

$$3) \frac{2^{2x} e^x}{1 + 2 \ln 2} + C; \quad 4) \frac{x - \sin x}{2} + C.$$

1.4.* Верны ли следующие утверждения: а) если $f(x)$ – периодическая функция, то и $F(x)$ – периодическая функция; б) если $f(x)$ – нечетная функция, то $F(x)$ – четная функция.

Отв.: а) неверно; б) верно.

В вычислении неопределенных интегралов большую роль играет *метод интегрирования подстановкой* (заменой переменной интегрирования), суть которого раскрывает следующая теорема.

Теорема 1.1. Пусть на (a, b) определена сложная функция $f(\varphi(x))$, функция $t = \varphi(x)$ непрерывна на интервале (a, b) и дифференцируема во всех внутренних точках этого интервала. Тогда если существует интеграл $\int f(t) dt$, то существует интеграл $\int f(\varphi(x)) \varphi'(x) dx$, причем

$$\int f(\varphi(x)) \varphi'(x) dx = \int f(t) dt \Big|_{t=\varphi(x)}. \quad (1.2)$$

Формула (1.2) называется *формулой интегрирования подстановкой*.

Если на (a, b) для функции $t = \varphi(x)$ существует обратная функция $x = \varphi^{-1}(t)$, то формулу (1.2) можно переписать в виде

$$\int f(t) dt = \int f(\varphi(x)) \varphi'(x) dx \Big|_{x = \varphi^{-1}(t)},$$

или, поменяв местами t и x ,

$$\int f(x) dx = \int f(\varphi(x)) \varphi'(t) dt \Big|_{t = \varphi^{-1}(x)}. \quad (1.3)$$

Формула (1.3) называется *формулой замены переменной в неопределённом интеграле*.

1.5. Найти интегралы:

а) $\int x^3 \sqrt[6]{3x^4 - 1} dx$; б) $\int \frac{dx}{x^2 \sqrt{1+x^2}}$; в) $\int \frac{3x-1}{x^2-x+1} dx$; г) $\int \frac{dx}{\cos x}$

Δ а) По формуле (1.2), положив в ней $t = \varphi(x) = 3x^4 - 1$, $f(t) = \sqrt[6]{t}$, получим

$$\int x^3 \sqrt[6]{3x^4 - 1} dx = \frac{1}{12} \int \sqrt[6]{3x^4 - 1} (3x^4 - 1)' dx = \frac{1}{12} \int \sqrt[6]{3x^4 - 1} d(3x^4 - 1) = \frac{1}{12} \int \sqrt[6]{t} dt = \frac{1}{14} \sqrt[6]{t^7} + C = \frac{1}{14} (3x^4 - 1) \sqrt[6]{3x^4 - 1} + C.$$

б) Введем замену переменной по формуле $x = 1/t$, тогда $dx = -dt/t^2$. Значит,

$$\begin{aligned} \int \frac{dx}{x^2 \sqrt{1+x^2}} &= - \int \frac{t^2 dt}{t^2 \sqrt{1+\frac{1}{t^2}}} = - \int \frac{t dt}{\sqrt{t^2+1}} = - \int d(\sqrt{t^2+1}) = -\sqrt{t^2+1} + C = \\ &= -\sqrt{\frac{1}{x^2}+1} + C. \end{aligned}$$

в) Выделим в числителе производную $2x-1$ знаменателя x^2-x+1 . Дальнейшие преобразования следующие:

$$\begin{aligned} \int \frac{3x-1}{x^2-x+1} dx &= 3 \int \frac{x-1/3}{x^2-x+1} dx = \frac{3}{2} \int \frac{(2x-1) + \frac{1}{3}}{x^2-x+1} dx = \frac{3}{2} \int \frac{(2x-1) dx}{x^2-x+1} + \frac{1}{2} \int \frac{dx}{(x-1/2)^2 + \frac{3}{4}} \\ &= \frac{3}{2} \int \frac{d(x^2-x+1)}{x^2-x+1} + \frac{1}{2} \int \frac{d(x-1/2)}{(x-1/2)^2 + (\sqrt{3}/2)^2} = \frac{3}{2} \ln(x^2-x+1) + \frac{1}{\sqrt{3}} \operatorname{arctg} \frac{2x-1}{\sqrt{3}} + C. \end{aligned}$$

г) Имеем

$$\int \frac{dx}{\cos x} = 2 \int \frac{d\left(\frac{x}{2}\right)}{\cos^2 \frac{x}{2} - \sin^2 \frac{x}{2}} = \left| \frac{x}{2} = t \right| = 2 \int \frac{dt}{\cos^2 t - \sin^2 t} = 2 \int \frac{dt}{\cos^2 t(1 - \operatorname{tg}^2 t)} = 2 \int \frac{d(\operatorname{tg} t)}{1 - \operatorname{tg}^2 t} =$$

$$= -2 \int \frac{d \operatorname{tg} t}{\operatorname{tg}^2 t - 1} = -\ln \left| \frac{\operatorname{tg} t - 1}{\operatorname{tg} t + 1} \right| = \ln \left| \frac{\operatorname{tg}(x/2) + 1}{\operatorname{tg}(x/2) - 1} \right| + C. \quad \blacktriangle$$

1.6. Вычислить интегралы:

1. $\int \frac{dx}{\sin x}$.
2. $\int \frac{dx}{\sqrt{e^x + 1}}$.
3. $\int \frac{dx}{15x^2 - 34x + 15}$.
4. $\int \frac{dx}{\sqrt{17 - 4x - x^2}}$.
5. $\int \sin^2(ax + b) dx$.
6. $\int \frac{(3x - 2) dx}{2 - 3x + 5x^2}$.
7. $\int \frac{dx}{(x - 1)\sqrt{x^2 - 3x + 2}}, x > 2$.
8. $\int x^3 \sqrt{x^2 - 1} dx$.
9. $\int \frac{\sin^3 x dx}{\sqrt{\cos x}}$.
10. $\int \frac{\cos \ln x}{x} dx$.

Отв.: 1. $\frac{1}{2} \ln \frac{1 - \cos x}{1 + \cos x} + C$. 2. $\ln \frac{\sqrt{e^x + 1} - 1}{\sqrt{e^x + 1} + 1} + C$. 3. $\frac{1}{16} \ln \left| \frac{3x - 5}{5x - 3} \right| + C$.

4. $\arcsin \frac{x + 2}{\sqrt{21}} + C$. 5. $\frac{x}{2} - \frac{1}{4a} \sin 2(ax + b) + C$.

6. $\frac{3}{10} \ln(2 - 3x + 5x^2) - \frac{11}{5\sqrt{31}} \operatorname{arctg} \frac{10x - 3}{\sqrt{31}} + C$.

7. $2\sqrt{\frac{x - 2}{x - 1}} + C$. 8. $\frac{1}{5} \sqrt{(x^2 - 1)^5} + \frac{1}{3} \sqrt{(x^2 - 1)^3} + C$.

9. $\frac{2}{5} \sqrt{\cos^5 x} - 2\sqrt{\cos x} + C$. 10. $\sin \ln x + C$.

1.7. Доказать равенство

$$\int (\varphi(x))^\alpha \varphi'(x) dx = \begin{cases} \frac{\varphi(x)^{\alpha+1}}{\alpha+1} + C, \alpha \neq -1, \\ \ln(\varphi(x)) + C, \alpha = -1. \end{cases}$$

Другим эффективным методом вычисления неопределенных интегралов является *метод интегрирования по частям*. Суть его в следующем.

Если $u = u(x)$ и $v = v(x)$ непрерывны на (a, b) и дифференцируема во всех внутренних точках этого интервала и если существует интеграл $\int v u' dx$, тогда существует и интеграл $\int u v' dx$, причем

$$\int u dv = uv - \int v du. \quad (1.4)$$

Формула (1.4) называется *формулой интегрирования по частям*.

Часто интеграл $\int v du$ вычислить проще, чем исходный интеграл $\int u dv$.

1.8. Вычислить интегралы:

$$\text{а) } I_1 = \int x \cos x dx; \quad \text{б) } I_2 = \int \arcsin^2 x dx.$$

Δ а) Положим $u = x \Rightarrow du = dx$; $dv = \cos x dx \Rightarrow v = \sin x$.

По формуле (1.4.) получаем

$$I_1 = x \sin x - \int \sin x dx = x \sin x + \cos x + C.$$

б) Для вычисления этого интеграла придется применить интегрирование по частям дважды. Имеем.

$$I_2 = \int \arcsin^2 x dx = \left. \begin{array}{l} u = \arcsin^2 x, \\ du = (2 \arcsin x) / \sqrt{1-x^2}, \\ dv = dx \Rightarrow v = x. \end{array} \right| = x \arcsin^2 x - 2 \int \frac{x \arcsin x dx}{\sqrt{1-x^2}} =$$

$$= \left. \begin{array}{l} u = \arcsin x, du = dx / \sqrt{1-x^2}, \\ dv = x dx / \sqrt{1-x^2} \Rightarrow v = -\sqrt{1-x^2} \end{array} \right| = x \arcsin^2 x + 2\sqrt{1-x^2} \arcsin x -$$

$$- 2 \int dx + C = x \arcsin^2 x + 2\sqrt{1-x^2} \arcsin x - 2x + C. \blacktriangle$$

1.9.* Для интеграла

$$I_n = \int \frac{dx}{(x^2 + a^2)^n}, n \in N, a \neq 0$$

получить *рекуррентную формулу*

$$I_{n+1} = \frac{1}{2na^2} \left(\frac{x}{(x^2 + a^2)^n} + (2n-1)I_n \right). \quad (1.5)$$

Δ Проинтегрируем I_n по частям:

$$I_n = \int \frac{dx}{(x^2 + a^2)^n} = \left. \begin{array}{l} u = \frac{1}{(x^2 + a^2)^n}, du = \frac{-2nxdx}{(x^2 + a^2)^{n+1}} \\ dv = dx \Rightarrow v = x \end{array} \right|$$

Тогда

$$I_n = \frac{x}{(x^2 + a^2)^n} + 2n \int \frac{x^2 dx}{(x^2 + a^2)^{n+1}} = \left| \begin{array}{l} \text{В интеграле справа в числи-} \\ \text{теле подынтегральной функции прибавим и вычтем } a^2. \end{array} \right| =$$

$$= \frac{x}{(x^2 + a^2)^n} + 2n \int \frac{(x^2 + a^2) - a^2}{(x^2 + a^2)^{n+1}} dx = \frac{x}{(x^2 + a^2)^n} + 2nI_n - 2na^2 \int \frac{dx}{(x^2 + a^2)^{n+1}},$$

т. е.

$$I_n = \frac{x}{(x^2 + a^2)^n} + 2nI_n - 2na^2 I_{n+1}.$$

Отсюда и вытекает формула (1.5).

Так как $I_1 = \int \frac{dx}{x^2 + a^2} = \frac{1}{a} \operatorname{arctg} \frac{x}{a} + C$, то, положив в (1.5) $n=1$, можно

найти I_2 , а зная I_2 , можно найти I_3 и т.д. ▲

Замечание. При интегрировании по частям возникает вопрос: что выбрать в качестве u , а что отнести к dv в исходном интеграле? Здесь можно рекомендовать следующее.

Если подынтегральное выражение имеет вид $P_n(x)e^x dx$, то в качестве u выбирается многочлен cx (n -й степени). Если в подынтегральном выражении имеется трансцендентная функция (к таковым относятся логарифмическая функция, обратные тригонометрические функции), то эта функция (или её степень) и выбирается в качестве $u = u(x)$.

1.10. Найти интегралы:

1. $\int x \operatorname{tg}^2 2x dx.$

2. $\int \sin x \operatorname{Intg} x dx.$

3. $\int x^2 \operatorname{arcsin} 2x dx.$

4. $\int (x^2 - 6x + 2)e^{3x} dx.$

5. $\int (x^2 + 1)^2 \cos x dx.$

6. $\int \frac{\ln^2 x}{x\sqrt{x}} dx.$

7. $\int \left(\frac{\ln x}{x} \right)^3 dx.$

8. $\int e^{ax} \sin bxdx, a^2 + b^2 \neq 0.$

9. $\int \sin \ln x dx.$

10. $\int e^{\operatorname{arccos} x} dx.$

- Отв.: 1. $\frac{x}{2} \operatorname{tg} 2x + \frac{1}{4} \ln |\cos 2x| - \frac{x^2}{a} + C$. 2. $\ln \left| \operatorname{tg} \frac{x}{a} \right| - \cos x \ln \operatorname{tg} x + C$.
3. $\frac{x^3}{3} \arcsin 2x + \frac{2x^2 + 1}{36} \sqrt{1 - 4x^2} + C$. 4. $\left(x^2 - \frac{20}{3}x + \frac{38}{9} \right) \frac{e^{3x}}{3} + C$.
5. $(x^4 - 10x^2 + 21) \sin x + 4x(x^2 - 5) \cos x + C$.
6. $-\frac{8}{27} x^{-3/2} \left(\frac{9}{4} \ln^2 x + 3 \ln x + 2 \right) + C$.
7. $-\frac{1}{2x^2} \left(\ln^3 x + \frac{3}{2} \ln^2 x + \frac{3}{2} \ln x + \frac{3}{4} \right) + C$.
8. $t = x + p/2$
9. $\frac{\sin \ln x - \cos \ln x}{2} + C$.
10. $\frac{x - \sqrt{1 - x^2}}{2} e^{\arccos x} + C$.

1.11. Для интеграла I_n , $n \in N$, получить рекуррентную формулу:

а) $I_n = \int \ln^n x dx$; б) $I_n = \int \sin^n x dx$, $n > 2$.

Отв.: а) $I_n = x \ln^n x - n I_{n-1}$. б) $I_n = -\frac{\cos x - \sin^{n-1} x}{n} + \frac{n-1}{n} I_{n-2}$.

1.12. Найти интегралы:

а) $\int \ln^4 x dx$; б) $\int \sin^6 x dx$.

Отв.: а) $x(\ln^4 x - 4 \ln^3 x + 12 \ln^2 x - 24 \ln x + 24) + C$;

б) $-\frac{8 \sin^4 x + 10 \sin^2 x + 15}{96} \sin 2x + \frac{5x}{16} + C$.

1.2. Интегрирование рациональных функций

Простейшие дроби и их интегрирование. Разложение рациональных функций на сумму простейших дробей. Метод Остроградского.

Рациональной называется функция вида $P_n(x)/Q_m(x)$, где $P_n(x)$ и $Q_m(x)$ — многочлены степени n и m , соответственно, $n, m \in N$. При $n < m$ эта функция, или дробь, называется *правильной*, при $n \geq m$ — *неправильной*. В случае неправильной дроби делением (уголком) у нее всегда можно выделить целую часть, т.е. дробь представить в виде

$$\frac{P_n(x)}{Q_m(x)} = S_k(x) + \frac{R_l(x)}{Q_m(x)}$$

Здесь $S_k(x)$ — целая часть дроби, а $R_l(x)$ — остаток от деления $P_n(x)$ на $Q_m(x)$, причем ясно, что $l < m$.

Простейшими, или элементарными, дробями называются дроби следующих четырех типов:

$$I. \frac{A}{x-a} \quad II. \frac{A}{(x-a)^n}, n \neq 1. \quad III. \frac{Mx+N}{x^2+px+q}, p^2-4q < 0.$$

$$IV. \frac{Mx+N}{(x^2+px+q)^n}, n > 1, p^2-4q < 0.$$

В I - IV A, M, N - постоянные, $n \in N$.

Интегрирование простейших дробей производится следующим образом:

$$I. \int \frac{A dx}{x-a} = \ln|x-a| + C.$$

$$II. \int \frac{A dx}{(x-a)^n} = -\frac{A}{(n-1)(x-a)^{n-1}} + C, n \neq 1.$$

$$III. \int \frac{Mx+N}{x^2+px+q} dx = \left| \begin{array}{l} \text{В числителе сначала выделяется производная зна-} \\ \text{менателя} \end{array} \right. = \frac{M}{2} \int \frac{(2x+p) dx}{x^2+px+q} - \left(N - \frac{Mp}{2} \right) \int \frac{dx}{x^2+px+q} = \left| \begin{array}{l} \text{Во втором инте-} \\ \text{грале в знаменателе подынтегральной функции выделяем полный квадрат} \end{array} \right.$$

$$= \frac{M}{2} \ln(x^2+px+q) + \left(N - \frac{Mp}{2} \right) \int \frac{d\left(x + \frac{p}{2}\right)}{\left(x + \frac{p}{2}\right)^2 + \left(\sqrt{q - \frac{p^2}{4}}\right)^2} = \frac{M}{2} \ln(x^2+px+q) +$$

$$+ \frac{N - Mp/2}{\sqrt{q - \frac{p^2}{4}}} \operatorname{arctg} \frac{x + p/2}{\sqrt{q - \frac{p^2}{4}}} + C.$$

IV.

$$\int \frac{(Mx+N) dx}{(x^2+px+q)^n} = \frac{M}{2} \int \frac{(2x+p) dx}{(x^2+px+q)^n} + \left(N - \frac{Mp}{2} \right) \int \frac{dx}{(x^2+px+q)^n} = \frac{M(x^2+px+q)^{1-n}}{2(1-n)} + \left(N - \frac{Mp}{2} \right) \int \frac{d(x+p/2)}{\left((x+p/2)^2 + q - p^2/4\right)^n}, n > 1.$$

Последний интеграл подстановкой $t = x + p/2$ приводится к интегралу

I_n , для которого в примере 1.9 получена рекуррентная формула.

Интегрирование рациональных функций сводится к разложению рациональной функции на простейшие дроби (см. [1]) и дальнейшему интегрированию этих простейших дробей.

1.13. Найти интегралы:

а) $\int \frac{x^2 dx}{(x-1)(x-2)(x-3)}$;

б) $\int \frac{2x^3 + x^2 + 5x + 1}{(x^2 + 3)(x^2 - x + 1)} dx$;

в) $\int \frac{(x^4 + 1) dx}{x^5 + x^4 - x^3 - x^2}$;

г) $\int \frac{(4x^2 - 8x) dx}{(x-1)^2(x^2 + 1)^2}$.

Δ а) Знаменатель рациональной дроби имеет простые корни $x_1 = 1$, $x_2 = 2$, $x_3 = 3$.

Поэтому разложение на простые дроби имеет вид

$$\frac{x^2}{(x-1)(x-2)(x-3)} = \frac{A}{x-1} + \frac{B}{x-2} + \frac{C}{x-3}.$$

Отсюда следует равенство многочленов:

$$x^2 = A(x-2)(x-3) + B(x-1)(x-3) + C(x-1)(x-2).$$

Полагая здесь последовательно $x = 1$, $x = 2$, $x = 3$, получаем $A = 1/4$, $B = -4$, $C = 9/2$.

Следовательно,

$$\int \frac{x^2 dx}{(x-1)(x-2)(x-3)} = \frac{1}{4} \ln|x-1| - 4 \ln|x-2| + \frac{9}{2} \ln|x-3| + C.$$

б) Разложение подынтегральных функций на простейшие дроби имеет вид

$$\frac{2x^3 + x^2 + 5x + 1}{(x^2 + 3)(x^2 - x + 1)} = \frac{Ax + B}{x^2 + 3} + \frac{Cx + D}{x^2 - x + 1}$$

и, значит,

$$2x^3 + x^2 + 5x + 1 = (Ax + B)(x^2 - x + 1) + (Cx + D)(x^2 + 3).$$

Приравняв коэффициенты при одинаковых степенях x слева и справа, получим систему

$$\begin{array}{l} x^3 \left| \begin{array}{l} A + C = 2, \\ x^2 \left| \begin{array}{l} -A + B + C = 1, \\ x^1 \left| \begin{array}{l} A - B + 3C = 5, \\ 1 \left| \begin{array}{l} B + 3D = 1. \end{array} \right. \end{array} \right. \end{array} \right. \end{array} \right.$$

Решением этой системы являются числа $A = 0$, $B = 1$, $C = 2$, $D = 0$. Значит,

$$\begin{aligned} \int \frac{2x^3 + x^2 + 5x + 1}{(x^2 + 3)(x^2 - x + 1)} dx &= \int \frac{dx}{x^2 + 3} + \int \frac{2x dx}{x^2 - x + 1} = \frac{1}{\sqrt{3}} \operatorname{arctg} \frac{x}{\sqrt{3}} + \\ &+ \ln(x^2 - x + 1) + \frac{2}{\sqrt{3}} \operatorname{arctg} \frac{2x - 1}{\sqrt{3}} + C. \end{aligned}$$

в) Знаменатель подынтегральной функции имеет разложение:

$$x^5 + x^4 - x^3 - x^2 = x^2(x+1)^2(x-1).$$

Следовательно,

$$\frac{x^4 + 1}{x^2(x+1)^2(x-1)} = \frac{A}{x} + \frac{B}{x^2} + \frac{C}{x-1} + \frac{D}{x+1} + \frac{E}{(x+1)^2}.$$

Отсюда

$$x^4 + 1 = Ax(x-1)(x+1) + B(x-1)(x+1)^2 + Cx^2(x+1)^2 + Dx^2(x^2-1) + Ex^2(x-1). \quad (1.6)$$

Положив в этом равенстве последовательно $x=0$, $x=1$, $x=-1$, получим $B=-1$, $C=1/2$, $E=-1$. Для нахождения коэффициента A продифференцируем обе части равенства (1.6) и затем положим в нем $x=0$. При дифференцировании правой части выпишем только те слагаемые, которые не обращаются в нуль при $x=0$:

$$4x^3 = A(x-1)(x+1)^2 + B(x+1)^2 + 2B(x^2-1) + \dots$$

Отсюда при $x=0$ имеем $0 = -A - B \Rightarrow A=1$. Для определения D поступим аналогично: дифференцируем обе части равенства (1.6) и выписываем только те слагаемые правой части, которые не обращаются в нуль при $x=-1$.

Получим равенство

$$4x^3 = Dx^2(x-1) + 2Ex(x-1) + Ex^2 \dots$$

Отсюда при $x=1$ имеем

$$-4 = -3D + 4E + E \Rightarrow D = -1/2.$$

Следовательно,

$$\int \frac{(x^4 + 1)dx}{x^5 + x^4 - x^3 - x^2} = \ln|x| + \frac{1}{x} + \frac{1}{2} \ln|x-1| - \frac{1}{2} \ln|x+1| + \frac{1}{x+1} + C.$$

г) Здесь разложение подынтегральной функции на простейшие дроби имеет вид

$$\frac{4x^2 - 8x}{(x-1)^2(x^2+1)^2} = \frac{A}{x-1} + \frac{B}{(x-1)^2} + \frac{Cx+D}{x^2+1} + \frac{Ex+F}{(x^2+1)^2}.$$

Значит,

$$4x^2 - 8x = A(x-1)(x^2+1)^2 + B(x^2+1)^2 + (Cx+D)(x-1)^2(x^2+1) + (Ex+F)(x-1)^2. \quad (1.7)$$

Положим в равенстве (1.7) $x=1$, получим $B=-1$. Теперь положим $x=i$, будем иметь $-4 - 8i = (Ei+F)(i-1)^2 = 2E - 2iF$. Приравняв действительные и мнимые части, получим $-4 = 2E$, $-8 = -2F \Rightarrow E = -2$, $F = 4$. Продифференцируем обе части равенства (1.7), причем выпишем только те слагаемые, не обращающиеся в нуль при $x=-1$:

$$8x - 8 = A(x^2+1)^2 + 2B(x^2+1)2x + \dots$$

Отсюда при $x=1$ получаем $0=4A+8B \Rightarrow A=2$. Теперь продифференцируем обе части равенства (1.7) и оставим только слагаемые, не обращающиеся в нуль при $x=i$:

$$8x - 8 = (Cx + D)(x-1)^2 2x + E(x-1)^2 + (Ex + F)2(x-1) + \dots$$

Отсюда при $x=i$ находим $C=-2, D=-1$.

Итак,

$$\int \frac{(4x^2 - 8x)dx}{(x-1)^2(x^2+1)^2} = 2\ln|x-1| + \frac{1}{x-1} - \int \frac{(2x+1)dx}{x^2+1} - \int \frac{(2x-4)dx}{(x^2+1)^2} =$$

$$2\ln|x-1| + \frac{1}{x-1} - \ln(x^2+1) - \operatorname{arctg}x + \frac{1}{x^2+1} + 4 \int \frac{dx}{(x^2+1)^2}.$$

По рекуррентной формуле (1.5)

$$I_2 = \int \frac{dx}{(x^2+1)^2} = \frac{1}{2} \left(\frac{x}{x^2+1} + \operatorname{arctg}x \right) + C.$$

Таким образом, окончательно,

$$\int \frac{(4x^2 - 8x)dx}{(x-1)^2(x^2+1)^2} = \ln \frac{(x-1)^2}{x^2+1} + \operatorname{arctg}x + \frac{1}{x-1} + \frac{1+2x}{x^2+1} + C. \blacktriangle$$

1.14. Вычислить интегралы:

1. $\int \frac{dx}{(x+1)(x-2)}$
2. $\int \frac{(2x+3)dx}{(x-2)^3}$
3. $\int \frac{(x^2+3)dx}{x^3-x^2-6x}$
4. $\int \frac{dx}{x^4+x^2}$
5. $\int \frac{dx}{1+x^3}$
6. $\int \frac{(x^3+1)dx}{x(x^2+x+1)^2}$

Отв.: 1. $\frac{1}{3} \ln \left| \frac{x-2}{x+1} \right| + C$ 2. $-\frac{7}{2(x-2)^2} - \frac{2}{x-2} + C$

3. $-\frac{1}{2} \ln|x| + \frac{7}{10} \ln|x+2| + \frac{4}{5} \ln|x-3| + C$ 4. $-\frac{1}{x} - \operatorname{arctg}x + C$

5. $\frac{1}{3} \ln|x+1| - \frac{1}{6} \ln(x^2-x+1) + \frac{1}{\sqrt{3}} \operatorname{arctg} \frac{2x-1}{\sqrt{3}} + C$

6. $\frac{2(1-x)}{3(x^2+x+1)} + \ln|x| - \frac{1}{2} \ln(x^2+x+1) - \frac{1}{3\sqrt{3}} \operatorname{arctg} \frac{2x+1}{\sqrt{3}} + C$

Распространенным методом интегрирования рациональных функций является *метод Остроградского*. Он полезен, когда знаменатель правильной рациональной дроби $P(x)/Q(x)$ имеет кратные корни, особенно комплексные.

Метод основан на формуле Остроградского:

$$\int \frac{P(x)}{Q(x)} dx = \frac{P_1(x)}{Q_1(x)} + \int \frac{P_2(x)}{Q_2(x)} dx. \quad (1.7)$$

В формуле (1.7) $Q_2(x)$ — многочлен, имеющий те же корни, что и многочлен $Q(x)$, но все корни $Q_2(x)$ — простые. Многочлен же $Q_1(x)$ есть частное от деления $Q(x)$ на $Q_2(x)$. Другими словами, $Q_1(x) = Q(x)/Q_2(x)$. $P_1(x)$ и $P_2(x)$ — некоторые многочлены, степени которых соответственно меньше степеней многочленов $Q_1(x)$ и $Q_2(x)$. Если корни $Q(x)$ известны, то тем самым известны многочлены $Q_1(x)$ и $Q_2(x)$. Для отыскания многочленов $P_1(x)$ и $P_2(x)$ их записывают с неопределенными коэффициентами, которые находят после дифференцирования обеих частей формулы Остроградского (1.7). Если $P_2(x) \neq 0$, то, так как корни $Q_2(x)$ простые, интеграл $\int \frac{P_2(x)}{Q_2(x)} dx$ является трансцендентной функцией. Поэтому второе слагаемое справа в (1.7) называется *трансцендентной частью* левого интеграла в (1.7), а первое — *рациональной частью*.

1.15. Методом Остроградского вычислить интеграл 1.13, г.

Δ Здесь $Q(x) = (x-1)^2(x^2+1)^2$, и, следовательно,

$Q_2(x) = (x-1)(x^2+1)$, $Q_1(x) = Q(x)/Q_2(x) = (x-1)(x^2+1)$. Значит, существуют многочлены второй степени.

$$P_1(x) = Ax^2 + Bx + C \quad \text{и} \quad P_2(x) = ax^2 + bx + c,$$

для которых справедливо равенство

$$\int \frac{4x^2 - 8x}{(x-1)^2(x^2+1)^2} dx = \frac{Ax^2 + Bx + C}{(x-1)(x^2+1)} + \int \frac{ax^2 + bx + c}{(x-1)(x^2+1)} dx.$$

Рациональную дробь $\frac{ax^2 + bx + c}{(x-1)(x^2+1)}$ представим в виде суммы простейших дробей, и тогда

$$\int \frac{(4x^2 - 8x)dx}{(x-1)^2(x^2+1)^2} = \frac{Ax^2 + Bx + C}{(x-1)(x^2+1)} + \int \left(\frac{D}{x-1} + \frac{Ex + F}{x^2+1} \right) dx.$$

Дифференцируя обе части этого равенства, получаем

$$\frac{4x^2 - 8x}{(x-1)^2(x^2+1)^2} = \frac{(x-1)(x^2+1)(2Ax+B) - (Ax^2+Bx+C)(3x^2-2x+1)}{(x-1)^2(x^2+1)^2} + \frac{D}{x-1} + \frac{Ex+F}{x^2+1}.$$

Отсюда

$$4x^2 - 8x = -4x^2 - 2Bx^3 + (A+B-3C)x^2 + 2(C-A)x - B - C + D(x-1)(x^2+1)^2 + (Ex+F)(x-1)^2(x^2+1).$$

Приравняв коэффициенты при одинаковых степенях, получаем систему

$$\begin{array}{l|l} x^5 & 0 = D + E, \\ x^4 & 0 = -A - D + F - 2E, \\ x^3 & 0 = -2B + 2D + 2E - 2F, \\ x^2 & 4 = A + B - 3C - 2D - 2E + 2F, \\ x^1 & -8 = -2A + 2C + D + E - 2F, \\ 1 & 0 = -B - C - D + F. \end{array}$$

Решением этой системы являются величины $A=3$, $B=-1$, $C=0$, $D=2$, $E=-2$, $F=1$.

Таким образом,

$$\int \frac{(4x^2 - 8x)dx}{(x-1)^2(x^2+1)^2} = \frac{3x^2 - x}{(x-1)(x^2+1)} + 2\ln|x-1| - \ln(x^2+1) + \operatorname{arctg}x + C. \blacktriangle$$

1.16.* Методом Остроградского вычислить следующие интегралы:

$$1. \int \frac{(x+1)dx}{(x^2+x-2)^2}. \quad 2. \int \frac{(x^6+1)dx}{(x^2+x+1)^2}. \quad 3. \int \frac{dx}{(x^4-1)^2}.$$

$$4. \int \frac{-2x^5 + 11x^4 - 28x^3 + 37x^2 - 30x + 14}{(x^2 - 2x + 2)^2} dx.$$

$$5. \int \frac{2x^4 - 4x^3 + 24x^2 - 40x + 20}{(x-1)(x^2 - 2x + 2)^3} dx$$

$$6. \int \frac{(-4x^3 - 4x^2 + 2x)dx}{(x-1)^2(x^2+x+1)^3}.$$

Отв.:

$$1. \frac{x+5}{9(x^2+x-2)} - \frac{1}{27} \ln \left| \frac{x-1}{x+2} \right| + C.$$

$$2. \frac{1}{3}(x-1)^3 + \frac{4x+2}{3(x^2+x+1)} + \ln(x^2+x+1) - \frac{10}{3\sqrt{3}} \operatorname{arctg} \frac{2x+1}{\sqrt{3}} + C.$$

$$3. \frac{3}{8} \operatorname{arctg}x - \frac{x}{4(x^4-1)} - \frac{3}{16} \ln \left| \frac{x-1}{x+1} \right| + C.$$

4. $\frac{x}{(x^2 - 2x + 2)^2} + \ln \frac{1}{x^2 - 2x + 2} + \operatorname{arctg}(x - 1) + C.$
5. $\frac{2x^3 - 6x^2 + 8x - 9}{(x^2 - 2x + 2)^2} + \ln \frac{(x-1)^2}{x^2 - 2x + 2} + 2\operatorname{arctg}(x - 1) + C.$
6. $\frac{x + 1}{(x - 1)(x^2 + x + 1)^2} + C.$

1.3. Интегрирование иррациональных функций

Интегралы вида

$$\int R \left(x, \left(\frac{ax + b}{cx + d} \right)^{p_1}, \dots, \left(\frac{ax + b}{cx + d} \right)^{p_n} \right) dx.$$

Интегрирование дифференциального бинома (подстановки Чебышева).

Интегралы вида $\int R(x, \sqrt{ax^2 + bx + c}) dx$ (подстановки Эйлера). Другие методы интегрирования иррациональных выражений.

Некоторые интегралы от иррациональных функций вычисляются *методом рационализации* подынтегральной функции. Он заключается в отыскании такой подстановки, которая преобразует интеграл от иррациональной функции в интеграл от рациональной функции. В этом случае говорят, что такая подстановка *рационализирует* данный, исходный интеграл.

Ниже через $R(x_1, x_2, \dots, x_n)$ обозначается рациональная функция относительно каждой из переменных x_1, x_2, \dots, x_n . Например,

$$\frac{x^3 - \sqrt[3]{x}}{1 - \sqrt{x^3 + 1}} = R(x, \sqrt[3]{x}, \sqrt{x^3 + 1}).$$

Здесь $x_1 = x$, $x_2 = \sqrt[3]{x}$, $x_3 = \sqrt{x^3 + 1}$.

Интегралы вида $R \left(x, \left(\frac{ax + b}{cx + d} \right)^{p_1}, \dots, \left(\frac{ax + b}{cx + d} \right)^{p_n} \right) dx$, где $n \in \mathbf{N}$,

$p_1, p_2, \dots, p_n \in \mathbf{Q}$, $a, b, c, d \in \mathbf{R}$, $ad - bc \neq 0$, рационализируются подстановкой

$$\frac{ax + b}{cx + d} = t^m,$$

где m — общий знаменатель рациональных чисел (дробей) p_1, p_2, \dots, p_n .

1.17. Найти интегралы:

$$а) I = \int \frac{x + \sqrt[3]{x^2} + \sqrt[6]{x}}{x(1 + \sqrt[3]{x})} dx;$$

$$б) I = \int \frac{dx}{\sqrt[4]{(x-1)^3(x+2)^5}}.$$

Δ а) Наименьшее общее кратное чисел 3 и 6 равно 6. Поэтому вводим подстановку $x = t^6, dx = 6t^5 dt$, откуда

$$\begin{aligned} I &= 6 \int \frac{(t^6 + t^4 + t)t^5}{t^6(1+t^2)} dt = 6 \int \frac{t^5 + t^3 + 1}{t^2 + 1} dt = 6 \int t^3 dt + 6 \int \frac{dt}{1+t^2} = \left(\frac{3}{2}t^4 + 6 \operatorname{arctg} t \right) \Big|_{t=\sqrt[6]{x}} = \\ &= \sqrt[6]{x} + C = \frac{3}{2} \sqrt[3]{x^2} + 6 \operatorname{arctg} \sqrt[6]{x} + C. \end{aligned}$$

б) Так как

$$\sqrt[4]{(x-1)^3(x+2)^5} = (x-1)(x+2) \sqrt[4]{\frac{x+2}{x-1}},$$

то подынтегральная функция является рациональной от x и $\sqrt[4]{\frac{x+2}{x-1}}$. Поэтому

вводим подстановку

$$\frac{x+2}{x-1} = t^4 \Rightarrow x = \frac{t^4 + 2}{t^4 - 1}, dx = \frac{-12t^3 dt}{(t^4 - 1)^2}; \quad x-1 = \frac{3}{t^4 - 1}, \quad x+2 = \frac{3t^4}{t^4 - 1}.$$

В итоге

$$I = - \int \frac{(t^4 - 1)(t^4 - 1)12t^3 dt}{3 \cdot 3t^4(t^4 - 1)^2} = - \frac{4}{3} \int \frac{dt}{t^2} = \frac{4}{3t} + C = \frac{4}{3} \sqrt[4]{\frac{x-1}{x+2}} + C. \blacktriangle$$

1.18. Найти интегралы:

$$1.* \int \frac{2x + \sqrt[3]{x^2} + \sqrt[5]{x^4}}{\sqrt[3]{x^2} + \sqrt[5]{x^4}} dx.$$

$$2. \int \frac{\sqrt{x} dx}{3x + \sqrt[3]{x^2}}.$$

$$3.* \int \frac{dx}{-2\sqrt{x} + \sqrt[3]{x} + \sqrt[4]{x}}.$$

$$4.* \int \frac{dx}{\sqrt{x} + 2\sqrt[5]{x^2} + \sqrt[10]{x^3}}.$$

$$5. \int \frac{\sqrt{x+1} + 1}{\sqrt{x+1} - 1} dx.$$

$$6.* \int \frac{1}{(1-2x)\sqrt[3]{1-2x}} dx.$$

$$7. \int \sqrt[3]{\frac{(x+1)^2}{(x-1)^5}} dx.$$

$$8. \int \frac{dx}{\sqrt[3]{(x-1)^2(x+1)}}.$$

$$9. \int \frac{dx}{\sqrt{(x-1)^2(x-2)}}.$$

$$10. \int \frac{dx}{(x+1)^{2/3} - (x+1)^{1/2}}.$$

Отв.:

$$1. x + 15 \left[\frac{1}{9} \sqrt[5]{x^6} - \frac{1}{8} \sqrt[15]{x^{16}} + \frac{1}{7} \sqrt[15]{x^{14}} - \frac{1}{6} \sqrt[5]{x^4} + \frac{1}{5} \sqrt[3]{x^2} - \frac{1}{4} \sqrt[15]{x^8} + \right. \\ \left. + \frac{1}{3} \sqrt[5]{x^2} - \frac{1}{2} \sqrt[15]{x^4} + \sqrt[15]{x^2} - \ln(\sqrt[15]{x^2} + 1) \right] + C.$$

$$2. \frac{2}{3} (\sqrt{x} - \sqrt[6]{x} + \frac{1}{\sqrt{3}} \operatorname{arctg} \sqrt[6]{27x}) + C.$$

3.

$$-\sqrt{x} - \frac{3}{4} \sqrt[3]{x} - \sqrt[4]{x} - \frac{3}{4} \sqrt[6]{x} - 3 \sqrt[12]{x} - \frac{12}{5} \ln |\sqrt[12]{x} - 1| + \\ + \frac{3}{40} \ln(2 \sqrt[6]{x} + 2 \sqrt[12]{x} + 1) + \frac{9}{20} \operatorname{arctg}(2 \sqrt[12]{x} + 1) + C.$$

4.

$$-\frac{10}{1 + \sqrt[10]{x}} + 150(\sqrt[10]{x} + 1) - 60 \ln(\sqrt[10]{x} + 1) - 100(\sqrt[10]{x} + 1)^2 + \\ + 50(\sqrt[10]{x} + 1)^3 - 15(\sqrt[10]{x} + 1)^4 + 2(\sqrt[10]{x} + 1)^5 + C.$$

$$5. x + 4\sqrt{x+1} + 4 \ln |\sqrt{x+1} - 1| + C.$$

6.

$$\frac{3}{2} \sqrt{\frac{1+2x}{1-2x}} - \frac{1}{2} \ln \left| \sqrt{\frac{1+2x}{1-2x}} + 1 \right| + \frac{1}{4} \ln \left(\sqrt[3]{\left(\frac{1+2x}{1-2x}\right)^2} - \sqrt[3]{\frac{1+2x}{1-2x}} + 1 \right) \\ - \frac{\sqrt{3}}{2} \operatorname{arctg} \frac{2 \sqrt[3]{\frac{1+2x}{1-2x}} - 1}{\sqrt{3}} + C.$$

$$7. -\frac{3}{2} t^2 + \ln |t - 1| + \frac{1}{2} \ln(t^2 + t + 1) - \frac{\sqrt{3}}{3} \operatorname{arctg} \frac{2t+1}{\sqrt{3}} + C.$$

$$8. \frac{1}{2} \ln \left(\frac{t^2 + t + 1}{t^2 - 2t + 1} \right) - \sqrt{3} \operatorname{arctg} \frac{2t+1}{\sqrt{3}} + C.$$

$$9. 2 \sqrt{\frac{x-2}{x-1}} + C.$$

$$10. 3 \sqrt[3]{x+1} + 6 \sqrt[6]{x+1} + 6 \ln |\sqrt[6]{x+1} - 1| + C.$$

Выражение $x^m(a+bx^n)^p dx$ называется *дифференциальным биномом*.

Здесь $a, b \in \mathbf{R}, a \neq 0, b \neq 0; m, n, p$ — рациональные числа, $n \neq 0, p \neq 0$. Интегралы от дифференциального бинома рационализируются только в следующих трех случаях:

$$p \text{ — целое число; } \frac{m+1}{n} \text{ — целое число; } \frac{m+1}{n} + p \text{ — целое число.}$$

В первом случае применяется подстановка $x = t^N$, где N — общий знаменатель дробей m и n . Во втором случае — подстановка $a + bx^n = t^s$, где s — знаменатель дроби p . В третьем случае — подстановка $ax^{-n} + b = t^s \Leftrightarrow a + bx^n = x^n t^s$, где s — знаменатель дроби p .

Указанные подстановки называются *подстановками Чебышева*.

1.19. Найти интеграл

$$I = \int \frac{dx}{x^{11} \sqrt{1+x^4}} = \int x^{-11} (1+x^4)^{-1/2} dx.$$

△ Здесь $m = -11, n = 4, p = -1/2$. Здесь имеет место третий случай, так как $\frac{m+1}{n} + p = -3$ — целое число. Полагаем $1+x^4 = x^4 t^2$. Отсюда $x = \frac{1}{(t^2-1)^{1/4}}, dx = -\frac{tdt}{2(t^2-1)^{5/4}}$.

Подставив эти выражения в интеграл I , получим

$$I = -\frac{1}{2} \int (t^2-1)^{11/4} \left(\frac{t^2}{t^2-1} \right)^{-1/2} \frac{tdt}{(t^2-1)^{5/4}} = -\frac{1}{2} \int (t^2-1)^2 dt = -\frac{t^5}{10} + \frac{t^3}{3} - \frac{t}{2} + C.$$

Возвращаясь к переменной x , получаем

$$I = -\frac{1}{10x^{10}} \sqrt{(1+x^4)^5} + \frac{1}{3x^6} \sqrt{(1+x^4)^3} - \frac{1}{2x^2} \sqrt{1+x^4} + C. \blacktriangle$$

1.20. Найти интегралы:

- | | |
|--|--|
| 1. $\int \sqrt[3]{x}(2+\sqrt{x})^2 dx.$ | 2. $\int x^{-2/3}(1+x^{2/3})^{-1} dx.$ |
| 3. $\int x^{1/3}(2+x^{2/3})^{1/4} dx.$ | 4. $\int x^5(1+x^2)^{2/3} dx.$ |
| 5. $\int \frac{\sqrt[3]{1+\sqrt[4]{x}}}{\sqrt{x}} dx.$ | 6. $\int \frac{dx}{x(1+\sqrt[3]{x})^2}.$ |
| 7. $\int x^3(1+x^2)^{1/2} dx.$ | 8. $\int \frac{dx}{x^4 \sqrt{1+x^4}}.$ |
| 9. $\int \sqrt[3]{x} \sqrt{1+\sqrt[3]{x^4}} dx.$ | 10. $\int \frac{dx}{x^3 \sqrt[5]{1+1/x}}.$ |

Отв.:

- | | |
|--|--------------------------------|
| 1. $\frac{3}{7} x^{7/3} + \frac{24}{11} x^{11/6} + 3x^{4/3} + C.$ | 2. $3 \arctg \sqrt[3]{x} + C.$ |
| 3. $\frac{2}{3} (2+x^{2/3})^{9/4} - \frac{12}{5} (2+x^{2/3})^{5/4} + C.$ | |

$$4. \frac{3}{22}(1+x^2)^{11/3} - \frac{3}{8}(1+x^2)^{8/3} + \frac{3}{10}(1+x^2)^{5/3} + C.$$

$$5. \frac{12}{7} \sqrt[3]{(1+\sqrt[4]{x})^7} - 3\sqrt[3]{(1+\sqrt[4]{x})^4} + C.$$

$$6. \frac{3}{1+\sqrt[3]{x}} + 3\ln \frac{\sqrt[3]{x}}{1+\sqrt[3]{x}} + C.$$

$$7. (1+x^2)^{3/2}(3x^2-2)/15 + C.$$

$$8. \sqrt{1+x^2}(2x^2-1)/(3x^3) + C.$$

$$9. \frac{21}{32} \sqrt[7]{(1+\sqrt[3]{x^4})^8} + C.$$

$$10. \frac{5}{4} \left(1 + \frac{1}{x}\right)^{4/5} - \frac{5}{9} \left(1 + \frac{1}{x}\right)^{9/5} + C.$$

В интеграле вида

$$\int R(x, \sqrt{ax^2 + bx + c}) dx, a \neq 0, b^2 - 4ac \neq 0, \quad (1.8)$$

рационализация подынтегрального выражения достигается одной из трех подстановок Эйлера:

1) если $a > 0$, то полагаем

$$\sqrt{ax^2 + bx + c} = \pm x\sqrt{a} \pm t; \quad (1.9)$$

2) если $c > 0$, то полагаем

$$\sqrt{ax^2 + bx + c} = \pm \sqrt{c} \pm xt; \quad (1.10)$$

3) если x_1 и x_2 - действительные корни трехчлена $ax^2 + bx + c$, т.е. $ax^2 + bx + c = a(x - x_1)(x - x_2)$, то в этом случае полагаем

$$\sqrt{ax^2 + bx + c} = \pm t(x - x_0), \quad (1.11)$$

где $x_0 = x_1$ или $x_0 = x_2$.

Заметим, что знаки в подстановках (1.9) - (1.11) можно брать в любой комбинации, но следует иметь в виду, что выбор знака (как и выбор самой подстановки) влияет на сложность вычисления интеграла (1.8).

1.21. Найти интегралы:

$$a) I = \int \frac{dx}{1 + \sqrt{x^2 + 2x + 2}};$$

$$б) I = \int \frac{dx}{\sqrt{(7x - 10 - x^2)^3}}.$$

Δ а) Так как $a = 1 > 0$, то применим первую подстановку в виде

$$\sqrt{x^2 + 2x + 2} = t - x.$$

Возведя в квадрат обе части этого равенства, после приведения подобных членов получим

$$2x + 2tx = t^2 - 2 \Rightarrow x = \frac{t^2 - 2}{2(1+t)}, \quad dx = \frac{t^2 + 2t + 2}{2(1+t)^2} dt;$$

$$1 + \sqrt{x^2 + 2x + 2} = \frac{t^2 + 4t + 4}{2(1+t)}.$$

Подставим в исходный интеграл I:

$$I = \int \frac{2(1+t)(t^2 + 2t + 2)}{(t^2 + 4t + 4)2(1+t)^2} dt = \int \frac{t^2 + 2t + 2}{(1+t)(t+2)^2} dt.$$

Разложим полученную дробь на простейшие дроби:

$$\frac{t^2 + 2t + 2}{(1+t)(t+2)^2} = \frac{A}{t+1} + \frac{B}{t+2} + \frac{D}{(t+2)^2}.$$

Методом неопределенных коэффициентов находим $A=1, B=0, D=-2$.

Следовательно,

$$I = \int \frac{dt}{t+1} - 2 \int \frac{dt}{(t+2)^2} = \ln|t+1| + \frac{2}{t+2} + C.$$

Возвращаясь к переменной x , получаем

$$I = \ln(x+1 + \sqrt{x^2 + 2x + 2}) + \frac{2}{x+2 + \sqrt{x^2 + 2x + 2}} + C.$$

б) В данном случае ни первая, ни вторая подстановка Эйлера неприменимы, так как $a < 0$ и $c < 0$. Но трехчлен $7x - 10 - x^2$ имеет действительные корни $x_1 = 2$ и $x_2 = 5$. Применяя третью подстановку Эйлера, получаем

$$\begin{aligned} \sqrt{7x - 10 - x^2} &= \sqrt{(x-2)(5-x)} = (x-2)t \Rightarrow 5-x = (x-2)t^2 \Rightarrow \\ \Rightarrow x &= \frac{5+2t^2}{1+t^2}, \quad dx = -\frac{6tdt}{(1+t^2)^2}; \end{aligned}$$

$$(x-2)t = \frac{3t}{1+t^2}.$$

$$\text{Тогда } I = -\frac{6}{27} \int \frac{5+t^2}{t^2} dt = -\frac{2}{9} \int \left(\frac{5}{t^2} + 2 \right) dt = -\frac{2}{9} \left(-\frac{5}{t} + 2t \right) + C, \quad \text{где}$$

$$t = \frac{\sqrt{7x - 10 - x^2}}{x-2}. \quad \blacktriangle$$

1.22. Вычислить интегралы:

$$1. \int \frac{dx}{x + \sqrt{x^2 - x + 1}}.$$

$$2. \int \frac{dx}{(1+x)\sqrt{1+x-x^2}}.$$

$$3.* \int \frac{dx}{x - \sqrt{x^2 + 2x + 4}}.$$

$$4. \int \frac{dx}{\sqrt{1-x^2} - 1}.$$

$$5. \int \frac{dx}{\sqrt{(2x-x^2)^3}}$$

$$6. \int \frac{(x+\sqrt{1+x^2})^{15}}{\sqrt{1+x^2}} dx$$

$$7. \int \frac{dx}{(1+x)\sqrt{x^2+x+1}}$$

$$8. \int \frac{dx}{\sqrt{1+x-x^2}}$$

$$9. \int \frac{dx}{\sqrt{4+2x-x^2}}$$

$$10. \int \frac{dx}{\sqrt{-2x^2+5x-2}}$$

Отв.:

$$1. \quad 2\ln|t| - \frac{1}{2}\ln|t-1| + \frac{3}{t+1} - \frac{3}{2}\ln|t+1| + C, \text{ где } t = (\sqrt{x^2-x+1}+1)/x.$$

$$2. \quad -2\operatorname{arctg}\left(\frac{\sqrt{1+x+x^2}+1}{x}\right) + C.$$

$$3. \quad 2\ln|\sqrt{x^2+2x+4}-x| - \frac{3}{2(\sqrt{x^2+2x+4}-x-1)}$$

$$-\frac{3}{2}\ln|\sqrt{x^2+2x+4}-x-1| + C.$$

$$4. \quad \frac{1+\sqrt{1-x^2}}{x} + 2\operatorname{arctg}\sqrt{\frac{1+x}{1-x}} + C.$$

$$5. \quad (x-1)/\sqrt{2x-x^2} + C.$$

$$6. \quad (x+\sqrt{1+x^2})^{1/15}/15 + C.$$

$$7. \quad \ln\left|\frac{\sqrt{x^2+x+1}+x}{\sqrt{x^2+x+1}+x+2}\right| + C.$$

$$8. \quad -2\operatorname{arctg}\frac{2+\sqrt{4+2x-x^2}}{x} + C.$$

$$9. \quad \ln\left|\frac{\sqrt{-3+4x-x^2}+x-3}{\sqrt{-3+4x-x^2}-x+3}\right| + C.$$

$$10. \quad -\sqrt{2}\operatorname{arctg}\frac{\sqrt{-2x^2+5x-2}}{\sqrt{2(x-2)}} + C.$$

Подстановки Эйлера зачастую приводят к громоздким выкладкам, поэтому они применяются лишь тогда, когда трудно подыскать другой способ для вычисления данного интеграла. Для вычисления многих интегралов типа (1.8) существуют более простые приемы.

1. Интегралы вида

$$I = \int \frac{Mx+N}{\sqrt{ax^2+bx+c}} dx$$

подстановкой $x+b/(2a)=t$ приводятся к виду

$$I = M_1 \int \frac{tdt}{\sqrt{at^2+K}} + N_1 \frac{dt}{\sqrt{at^2+K}},$$

где M_1, N_1, K – новые коэффициенты.

Первый интеграл сводится к интегралу от степенной функции, а второй — табличный и сводится к логарифму (при $a > 0$) или к арксинусу (при $a < 0, K > 0$).

2. Интегралы вида

$$\int \frac{P_m(x)}{\sqrt{ax^2 + bx + c}} dx,$$

где $P_m(x)$ — многочлен степени m , вычисляются по формуле приведения:

$$\int \frac{P_m(x)}{\sqrt{ax^2 + bx + c}} = P_{m-1}(x)\sqrt{ax^2 + bx + c} + K \int \frac{dx}{\sqrt{ax^2 + bx + c}}, \quad (1.12)$$

где коэффициенты многочлена $P_{m-1}(x)$ степени $m-1$ и число K находятся методом неопределенных коэффициентов.

3. Интегралы вида

$$\int \frac{dx}{(x-a_1)^m \sqrt{ax^2 + bx + c}}$$

сводятся к предыдущему типу подстановкой $x - a_1 = 1/t$.

4. Тригонометрические и гиперболические подстановки (см. п. 1.4.)

1.23. Найти интегралы:

$$\text{а) } I = \int \frac{(x+3)dx}{\sqrt{4x^2 + 4x - 3}}; \quad \text{б)* } I = \int \frac{x^3 - x - 1}{\sqrt{x^2 + 2x + 2}} dx;$$

$$\text{в)* } I = \int \frac{(x+4)dx}{(x-1)(x+2)^2 \sqrt{x^2 + 2x + 2}} dx.$$

Δ а) Подстановкой $2x+1=t \Rightarrow x=(t-1)/2, dx=dt/2$ интеграл I сводится к интегралу

$$I = \frac{1}{4} \int \frac{(t+5)dt}{\sqrt{t^2 - 4}} = \frac{1}{4} \sqrt{t^2 - 4} + \frac{5}{4} \ln |t + \sqrt{t^2 - 4}| + C.$$

Возвращаясь к переменной x , получаем

$$I = \frac{1}{4} \sqrt{4x^2 + 4x - 3} + \frac{5}{4} \ln |2x+1 + \sqrt{4x^2 + 4x - 3}| + C.$$

б) Здесь $P_m(x) = P_3(x) = x^3 - x - 1$. Следовательно, $P_{m-1}(x) = P_2(x) = Ax^2 + Bx + D$. Интеграл I ищем в виде

$$I = (Ax^2 + Bx + D)\sqrt{x^2 + 2x + 2} + K \int \frac{dx}{\sqrt{x^2 + 2x + 2}}.$$

Продифференцируем это равенство:

$$F = \frac{x^3 - x - 1}{\sqrt{x^2 + 2x + 2}} = (2Ax + B)\sqrt{x^2 + 2x + 2} + (Ax^2 + Bx + D)\frac{x+1}{\sqrt{x^2 + 2x + 2}} + \frac{K}{\sqrt{x^2 + 2x + 2}}$$

Приводим к общему знаменателю и приравниваем числители:

$$x^3 - x - 1 = (2Ax + B)(x^2 + 2x + 2) + (Ax^2 + Bx + D)(x+1) + K.$$

Отсюда получаем систему:

$$\left. \begin{array}{l} x^3 \quad 2A + A = 1, \\ x^2 \quad B + 4A + B + A = 0, \\ x \quad 2B + 4A + D + B = -1, \\ 1 \quad 2B + D + K = -1 \end{array} \right\} \Rightarrow \left\{ \begin{array}{l} A = 1/3, \\ B = -5/6, \\ D = 1/6, \\ K = 1/2. \end{array} \right.$$

Таким образом,

$$I = \left(\frac{1}{3}x^2 - \frac{5}{6}x + \frac{1}{6} \right) \sqrt{x^2 + 2x + 2} + \frac{1}{2} \int \frac{dx}{\sqrt{x^2 + 2x + 1}}$$

Интеграл же

$$\int \frac{dx}{\sqrt{x^2 + 2x + 2}} = \int \frac{d(x+1)}{\sqrt{(x+1)^2 + 1}} = \ln \left| x+1 + \sqrt{x^2 + 2x + 2} \right|.$$

в) Представим интеграл следующим образом:

$$I = \int \frac{x+4}{(x-1)(x+2)^2} \cdot \frac{dx}{\sqrt{x^2 + x + 1}}$$

Дробь $\frac{x+4}{(x-1)(x+2)^2}$ разложим на простейшие дроби:

$$\frac{x+4}{(x-1)(x+2)^2} = \frac{5/9}{x-1} - \frac{2/3}{(x+2)^2} - \frac{5/9}{x+2}.$$

Тогда

$$I = \frac{5}{9} \int \frac{dx}{(x-1)\sqrt{x^2 + x + 1}} - \frac{2}{3} \int \frac{dx}{(x+2)2\sqrt{x^2 + x + 1}} - \frac{5}{9} \int \frac{dx}{(x+2)\sqrt{x^2 + x + 1}}.$$

Первый интеграл вычисляется подстановкой $x-1=1/t$, второй и третий — подстановкой $x+2=1/t$ (все преобразования представляем читателю сделать самостоятельно).

1.24. Вычислить интегралы:

1. $\int \frac{(5x+4)dx}{\sqrt{x^2+2x+5}}$

2.* $\int \sqrt{4x^2-4x+3}dx.$

3. $\int \frac{9x^3-3x^2+2}{\sqrt{3x^2-2x+1}}dx.$

4. $\int \sqrt{x^2+x+1}dx.$

$$5. \int \frac{x^3 - 6x^2 + 11x - 6}{\sqrt{x^2 + 4x + 3}} dx.$$

$$6.* \int \frac{3x^3 + 5x^2 - 7x + 9}{\sqrt{2x^2 + 5x + 7}} dx.$$

$$7. \int \frac{dx}{(x+1)^5 \sqrt{x^2 + 2x}}.$$

$$8. \int \frac{xdx}{(x^2 - 3x + 2)\sqrt{x^2 - 4x + 3}}.$$

$$9. \int \frac{dx}{(x+1)^3 \sqrt{x^2 + 3x + 2}}.$$

$$10.* \int \frac{(x^2 - 1)dx}{x\sqrt{1 + 3x^2 + x^4}}.$$

Отв.:

$$1. 5\sqrt{x^2 + 2x + 5} - \ln(x+1) + \sqrt{x^2 + 2x + 5} + C.$$

$$2. \left(\frac{x}{2} - \frac{1}{4}\right)\sqrt{4x^2 - 4x + 3} + \frac{1}{2}\ln(2x - 1 + \sqrt{4x^2 - 4x + 3}) + C.$$

$$3. \frac{3x^2 + x - 1}{3}\sqrt{3x^2 - 2x + 1} + C.$$

$$4. \frac{2x+1}{4}\sqrt{x^2 + x + 1} + \frac{3}{8}\ln|2x+1 + 2\sqrt{x^2 + x + 1}| + C.$$

$$5. \frac{1}{3}(x^2 - 14x + 11)\sqrt{x^2 + 4x + 3} - 66\ln|x + 2 + \sqrt{x^2 + 4x + 3}| + C.$$

$$6. \frac{1}{64}(32x^2 - 20x - 373)\sqrt{2x^2 + 5x + 7} + \frac{3297}{128\sqrt{2}}\ln|4x + 5 + 2\sqrt{4x^2 + 10x + 14}| + C.$$

$$7. \frac{3x+5}{8(x+1)^2}\sqrt{x^2 + 2x} - \frac{3}{8}\arcsin\frac{1}{x+1} + C.$$

$$8. \frac{\sqrt{x^2 - 4x + 3}}{x-1} - 2\arcsin\frac{1}{x-2} + C.$$

$$9. -\frac{2}{15}\sqrt{\frac{x+2}{x+1}} \cdot \frac{8x^2 + 12x + 7}{(x+1)^2} + C.$$

$$10. \ln\left|\frac{x^2 + 1 + \sqrt{x^4 + 3x^2 + 1}}{x}\right| + C.$$

Указание. Сначала сделать подстановку $x^2 = t$.

1.4. Интегрирование тригонометрических выражений

Рассмотрим интеграл вида

$$\int R(\sin x, \cos x) dx, \quad (1.1)$$

где R — рациональная функция переменных $x_1 = \sin x$, $x_2 = \cos x$.

Он рационализируется так называемой универсальной тригонометрической

подстановкой $\operatorname{tg} \frac{x}{2} = t$.

При этой подстановке

$$\sin x = \frac{2t}{1+t^2}, \quad \cos x = \frac{1-t^2}{1+t^2}, \quad x = 2 \operatorname{arctg} t, \quad dx = \frac{2dt}{1+t^2}. \quad (1.14)$$

1.25. Найти интеграл

$$I = \int \frac{dx}{5 - 4 \sin x + 3 \cos x}.$$

Δ Используя подстановку $\operatorname{tg} \frac{x}{2} = t$, с учетом соотношений (1.14) полу-

чаем

$$I = \int \frac{2dt}{(1+t^2) \left(5 - 4 \frac{2t}{1+t^2} + 3 \frac{1-t^2}{1+t^2} \right)} = \int \frac{dt}{(t-2)^2} = \frac{1}{2-t} + C = \frac{1}{2 - \operatorname{tg}(x/2)} + C. \blacktriangle$$

Универсальная подстановка часто ведет к громоздким преобразованиям. Ниже указаны случаи, когда цель может быть достигнута с помощью более простых подстановок:

1) Функция $R(\sin x, \cos x)$ — нечетная относительно $\sin x$, т.е. $R(-\sin x, \cos x) \equiv -R(\sin x, \cos x)$. В этом случае выгоднее применить подстановку $\cos x = t$.

2) Функция $R(\sin x, \cos x)$ — нечетная относительно $\cos x$, т.е. $R(\sin x, -\cos x) \equiv -R(\sin x, \cos x)$.

В этом случае рекомендуется применить подстановку $\sin x = t$.

3) Функция $R(\sin x, \cos x)$ — четная относительно $\sin x$ и $\cos x$, т.е. $R(-\sin x, -\cos x) \equiv R(\sin x, \cos x)$.

В этом случае вводится подстановка $\operatorname{tg} x = t$.

1.26. Вычислить интегралы:

$$\text{а) } I = \frac{dx}{\sin x \sin 2x}; \quad \text{б) } I = \int \frac{\sin^2 x \cos x}{\sin x + \cos x} dx.$$

$$\Delta \text{ а) Здесь } R(\sin x, \cos x) = \frac{1}{\sin^2 x \cos x} \text{ и}$$

$R(\sin x, -\cos x) \equiv -R(\sin x, \cos x)$. Вводим подстановку $\sin x = t$. Имеем

$$\begin{aligned} I &= \int \frac{\cos x dx}{2 \sin^2 x \cos^2 x} = \int \frac{d(\sin x)}{2 \sin^2 x (1 - \sin^2 x)} = \frac{1}{2} \int \frac{dt}{t^2 (1 - t^2)} = \\ &= \frac{1}{2} \int \left(\frac{1}{t^2} + \frac{1}{1 - t^2} \right) dt = -\frac{1}{2t} + \frac{1}{4} \ln \left| \frac{1+t}{1-t} \right| + C = -\frac{1}{2 \sin x} + \frac{1}{4} \ln \left| \frac{1 + \sin x}{1 - \sin x} \right| + C. \end{aligned}$$

б) Так как при изменении знаков у $\sin x$ и $\cos x$ подынтегральное выражение не меняет знака, то вводим подстановку $\operatorname{tg} x = t$.

Следовательно,

$$I = \int \frac{tg^2 x \cos^4 x}{tgx + 1} \cdot \frac{dx}{\cos^2 x} = \int \frac{t^2 dt}{(t+1)(t^2+1)^2}.$$

Разложим на простейшие дроби:

$$\frac{t^2}{(t+1)(t^2+1)^2} = \frac{A}{t+1} + \frac{Bt+D}{t^2+1} + \frac{Et+F}{(t^2+1)^2}.$$

Методом неопределенных коэффициентов находим

$$A = 1/4, B = -1/4, D = 1/4, E = 1/2, F = -1/2.$$

Тогда

$$\begin{aligned} I &= \frac{1}{4} \int \frac{dt}{t+1} - \frac{1}{4} \int \frac{t-1}{t^2+1} dt + \frac{1}{2} \int \frac{t-1}{(t^2+1)^2} dt = \frac{1}{4} \ln \frac{1+t}{\sqrt{1+t^2}} - \frac{1}{4} \cdot \frac{1+t}{1+t^2} + C \\ &= \frac{1}{4} \ln |\sin x + \cos x| - \\ &\quad - \frac{1}{4} \cos x (\sin x + \cos x) + C. \quad \blacktriangle \end{aligned}$$

1.27. Найти интегралы:

1. $\int \frac{dx}{\sin x(2 + \cos x - 2 \sin x)}$

2. $\int \frac{dx}{5 + \sin x + 3 \cos x}$

3. $\int \frac{\sin x}{1 + \sin x} dx$

4.* $\int \frac{dx}{1 + 4 \cos x}$

5. $\int \frac{dx}{6 - 5 \sin x + \sin^2 x}$

6. $\int \frac{(2 \sin x + 3 \cos x) dx}{\sin^2 x \cos x + 9 \cos^3 x}$

7. $\int \frac{\sin x + \sin^3 x}{\cos 2x} dx$

8. $\int \frac{\sin 2x dx}{3 + 4 \sin^2 x}$

9. $\int \frac{\cos^5 x + \cos^3 x}{\sin^4 x + \sin^2 x} dx$

10. $\int \frac{\cos x - \sin x}{\cos x + \sin x} dx$

11. $\int \frac{\cos^5 x}{\sin^3 x} dx$

Отв.:

1. $\frac{1}{3} \ln \left| \frac{x}{2} \right| + \frac{5}{3} \ln \left| \frac{x}{2} - 3 \right| - \ln \left| \frac{x}{2} - 1 \right| + C.$

2. $\frac{2}{\sqrt{15}} \operatorname{arctg} \frac{1 + 2 \operatorname{tg}(x/2)}{\sqrt{15}} + C.$ 3. $\frac{1}{\cos x} - \operatorname{tg} x + x + C.$

4. $\frac{1}{\sqrt{15}} \ln \left| \frac{\sqrt{3} \operatorname{tg}(x/2) + \sqrt{5}}{\sqrt{3} \operatorname{tg}(x/2) - \sqrt{5}} \right| + C.$

$$5. \frac{2}{\sqrt{3}} \operatorname{arctg} \frac{2\operatorname{tg}(x/2)-1}{\sqrt{3}} - \frac{1}{\sqrt{2}} \operatorname{arctg} \frac{3\operatorname{tg}(x/2)-1}{2\sqrt{2}} + C.$$

$$6. \ln(\operatorname{tg}^2 x + 9) + \operatorname{arctg} \frac{\operatorname{tg} x}{3} + C.$$

$$7. \frac{1}{2} \cos x - \frac{3\sqrt{2}}{4} \ln \left| \frac{1 - \sqrt{2} \cos x}{1 + \sqrt{2} \cos x} \right| + C.$$

$$8. \frac{1}{4} \ln(3 + 4 \sin^2 x) + C.$$

$$9. \sin x - \frac{2}{\sin x} - 6 \operatorname{arctg} \sin x + C.$$

$$10. \ln |\sin x + \cos x| + C.$$

$$11. \frac{\sin^2 x}{2} - \frac{1}{2 \sin^2 x} - 2 \ln |\sin x| + C.$$

Интегралы вида

$$I = \int \sin^m x \cos^n x dx, \quad m, n \in \mathbf{Q},$$

приводятся к интегралу от дифференциального бинома

$$I = \int t^m (1-t^2)^{\frac{n-1}{2}} dt, \quad t = \sin x,$$

и поэтому интегрируется в элементарных функциях только в трех случаях:

- 1) n - нечетное ($(n-1)/2$ - целое);
- 2) m - нечетное ($\frac{m+1}{2}$ - целое);
- 3) $m+n$ - четное ($\frac{m+1}{2} + \frac{n-1}{2}$ - целое).

Если n нечетно, применяется подстановка $\sin x = t$.

Если m нечетно, применяется подстановка $\cos x = t$.

Если сумма $m+n$ четна, применяется подстановка $\operatorname{tg} x = t$ или $\operatorname{ctg} x = t$.

В частности, такая подстановка удобна для интегралов

$$\int \operatorname{tg}^n x dx \text{ или } \int \operatorname{ctg}^n x dx$$

при n целом положительном. Но последняя подстановка неудобна, если оба числа m и n положительны. Если m и n - неотрицательные четные числа, то применяется метод понижения степени с помощью формул

$$\cos^2 x = \frac{1 + \cos 2x}{2}, \quad \sin^2 x = \frac{1 - \cos 2x}{2} \text{ или } \sin x \cos x = \frac{1}{2} \sin 2x.$$

1.28. Найти интегралы:

а) $I = \int \frac{\sin^3 x dx}{\sqrt{\cos^2 x}}$;

б) $I = \sin^4 x \cos^6 x dx$;

$$\text{в) } I = \int \frac{dx}{\sqrt[3]{\sin^{11} x \cos x}}; \quad \text{г) } I = \frac{dx}{\sqrt[3]{\sin^5 x \cos x}}.$$

Δ а) Так как $m = 3$ нечетно, то полагаем $\cos x = t, \sin x dx = -dt \Rightarrow$

$$I = -\int (1-t^2)t^{-2/3} dt = -3t^{1/3} + \frac{3}{7}t^{7/3} + C = 3\sqrt[3]{\cos x} \left(\frac{1}{7} \cos^2 x - 1 \right) + C.$$

б) Числа $m = 4, n = 6$ – четные положительные. Понижаем степень:

$$I = \frac{1}{16} \int (2 \sin x \cos x)^4 \cos^2 x dx = \frac{1}{32} \int \sin^4 2x (1 + \cos 2x) dx = I_1 + I_2.$$

Интеграл I_2 вычисляется подстановкой $\sin 2x = t, \cos 2x dx = dt/2 \Rightarrow$

$$I_2 = \frac{1}{32} \int \sin^4 2x \cos 2x dx = \frac{1}{64} \int t^4 dt = \frac{t^5}{320} + C = \frac{1}{320} \sin^5 2x dx + C.$$

В интеграле I_1 снова понижаем степень:

$$I_1 = \frac{1}{32} \int \sin^4 2x dx = \frac{1}{128} \int (1 - \cos 4x)^2 dx = \frac{1}{128} \left(x - \frac{1}{2} \sin 4x \right) +$$

$$+ \frac{1}{256} \int (1 + \cos 8x) dx = \frac{3}{256} x - \frac{1}{256} \sin 4x + \frac{1}{2048} \sin 8x + C.$$

Таким образом, окончательно,

$$I = \frac{3}{256} x - \frac{1}{256} \sin 4x + \frac{1}{2048} \sin 8x + \frac{1}{320} \sin^5 2x + C.$$

в) Оба показателя $-11/3$ и $-1/3$ – отрицательные числа и их сумма $-11/3 + (-1/3) = -4$ – четна, поэтому вводим замену

$$tg x = t, \frac{dx}{\cos^2 x} = dt \Rightarrow$$

$$\begin{aligned} \Rightarrow I &= \int \frac{dx}{\cos^4 x \sqrt[3]{tg^{11} x}} = \int \frac{1+t^2}{\sqrt[3]{t^{11}}} dt = \int (t^{-11/3} + t^{-5/3}) dt = -\frac{3}{8} t^{-8/3} - \frac{3}{2} t^{-2/3} + C = \\ &= -\frac{3(1+4tg^2 x)}{8tg^2 x \sqrt[3]{tg^2 x}} + C. \end{aligned}$$

г) Подстановкой $t = \sin x$ интеграл I сводится к интегралу от дифференциального бинома

$$I = \int t^{-5/3} (1-t^2)^{-2/3} dt.$$

В нем число $\frac{m+1}{n} + p = \frac{-5/3+1}{2} - \frac{2}{3} = -1$ – целое, поэтому подстановкой

$(-1+t^{-2}) = z^3$ интеграл рационализуется. Однако для вычисления интеграла I удобнее применить подстановку $t = tg x$.

$$I = \int \frac{dx}{\sqrt[3]{\sin^5 x \cos x}} =$$

$$= \int \frac{1}{\sqrt[3]{(\sin^5 x)/\cos^5 x}} \cdot \frac{dx}{\cos^2 x} = \int \operatorname{tg}^{-5/3} x dtg x = -\frac{3}{2} (\operatorname{tg} x)^{-2/3} + C. \blacktriangle$$

При вычислении интегралов от тригонометрических выражений часто применяются следующие формулы:

$$\cos \alpha \cos \beta = \frac{1}{2} [\cos(\alpha + \beta) + \cos(\alpha - \beta)];$$

$$\sin \alpha \cdot \sin \beta = \frac{1}{2} [\cos(\alpha - \beta) - \cos(\alpha + \beta)];$$

$$\sin \alpha \cos \beta = \frac{1}{2} [\sin(\alpha + \beta) + \sin(\alpha - \beta)].$$

1.29. Найти интегралы:

а) $I = \int \sin 3x \sin 5x dx;$

б) $I = \int \sin 2x \cos 4x dx.$

Δ а) Имеем:

$$I = \frac{1}{2} \int (\cos 2x - \cos 8x) dx = \frac{1}{4} \sin 2x - \frac{1}{16} \sin 8x + C.$$

б) $I = \frac{1}{2} \int (\sin 6x - \sin 2x) dx = \frac{1}{4} \cos 2x - \frac{1}{12} \cos 6x + C. \blacktriangle$

1.30. Найти интегралы:

1. $\int \frac{\cos^3 x}{\sin^6 x} dx.$

2. $\int \frac{\sin^2 x}{\cos^6 x} dx.$

3. $\int \frac{\cos^4 x}{\sin^2 x} dx.$

4. $\int \frac{dx}{\cos^4 x}.$

5. $\int \operatorname{tg}^7 x dx.$

6. $\int \operatorname{ctg}^6 x dx.$

7. $\int \frac{\cos^4 x}{\sin^3 x} dx.$

8. $\int \sin x \sin 3x dx.$

9. $\int \cos x \cos 4x dx.$

10. $\int \frac{\cos^3 x}{\sin^5 x} dx.$

11. $\int \sin^5 x \sqrt[3]{\cos x} dx.$

12. $\int \frac{\cos^3 x}{\sqrt[5]{\sin x}} dx.$

13. $\int \frac{\sin^3 x dx}{\cos x \sqrt[3]{\cos x}}.$

14.* $\int \frac{dx}{\cos x \sqrt[3]{\sin^2 x}}.$

15. $\int \frac{dx}{\cos^3 x \sqrt{\sin 2x}}.$

16. $\int \frac{dx}{\cos x \sqrt{\sin^3 2x}}.$

17.* $\frac{(\cos x + \sin x) dx}{5 \cos^2 x - 2 \sin 2x + 2 \sin^2 x}.$

18.* $\int \frac{dx}{\sin 2x + 4 \sin x - 4 \sin^2 x}.$

$$19. \int \left(\frac{\sin 2x}{\sin^3 x + \cos^3 x} \right)^2 dx.$$

$$20. \int \frac{(1 + \cos x)^2}{1 + \sin x} dx.$$

$$\text{Отв.: } 1. \frac{1}{3\sin^3 x} - \frac{1}{5\sin^5 x} + C.$$

$$2. \frac{tg^3 x}{3} + \frac{tg^5 x}{5} + C.$$

$$3. - \left(ctgx + \frac{1}{4} \sin 2x + \frac{1}{2} \cdot 3x \right) + C.$$

$$4. tgx + \frac{1}{3} tg^3 x + C.$$

$$5. \frac{1}{6} tg^6 x - \frac{1}{4} tg^4 x + \frac{1}{2} tg^2 x + \ln|\cos x| + C.$$

$$6. -ctgx + \frac{1}{3} ctg^3 x - \frac{1}{5} ctg^5 x - x + C.$$

$$7. -\frac{1}{2} \cdot \frac{\cos^3 x}{\sin^2 x} - \frac{3}{2} \cos x + \frac{3}{4} \ln \left| \frac{1 + \cos x}{1 - \cos x} \right| + C.$$

$$8. \frac{1}{4} \sin 2x - \frac{1}{8} \sin 8x + C.$$

$$9. \frac{\sin 5x}{10} + \frac{\sin 3x}{6} + C. \quad 10. -\frac{ctg^4 x}{4} + C.$$

$$11. -\frac{3}{80} \cos^{4/3} x (20 - 16 \cos^2 x + 5 \cos^4 x) + C.$$

$$12. \frac{5}{28} \sin^{4/5} x (7 - 2 \sin^2 x) + C.$$

$$13. \frac{3(5 + \cos^2 x)}{5\sqrt[3]{\cos x}} + C.$$

$$14. \frac{1}{4} \ln \frac{(1 - \sin x)(1 + \sqrt[3]{\sin x})^3}{(1 + \sin x)(1 - \sqrt[3]{\sin x})^3} + \frac{\sqrt{3}}{2} \operatorname{arctg} \frac{\sqrt[3]{\sin^2 x} - 1}{\sqrt{3} \cdot \sqrt[3]{\sin x}} + C.$$

$$15. \frac{\sqrt{2tgx}}{5} (5 + tg^2 x) + C.$$

$$16. \frac{tg^2 x - 3}{3\sqrt{2tgx}} + C.$$

$$17. \frac{3}{5} \operatorname{arctg}(\sin x - 2 \cos x) + \frac{\sqrt{6}}{60} \ln \frac{\sqrt{6} + 2 \sin x + \cos x}{\sqrt{6} - 2 \sin x - \cos x} + C.$$

$$18. \frac{1}{2} \ln|tg(x/2)| + \frac{5}{6} \ln|tg(x/2) - 3| - \frac{1}{2} \ln|tg(x/2) - 1| + C.$$

$$19. -\frac{4}{3 + 3tg^3 x} + C.$$

$$20. x + \cos x + 2 \ln(1 + \sin x) + tg \frac{2x - \pi}{4} + C.$$

1.31.* Для интеграла

$$I_n = \int \left(\frac{\sin \frac{x-a}{2}}{\sin \frac{x+a}{2}} \right)^n, n=0,1,2,\dots,$$

звать рекуррентную формулу

$$I_n = \frac{2 \sin a}{n-1} \left(\frac{\sin \frac{x-a}{2}}{\sin \frac{x+a}{2}} \right)^n + 2 \cos a I_{n-1} - I_{n-2}, n > 1,$$

её помощью вычислить I_3 .

Отв.:

$$I_3 = \cos a (2 \cos 2a - 1)x + \sin a \left(\frac{\sin \frac{x-a}{2}}{\sin \frac{x+a}{2}} \right)^2 + 2 \sin 2a \frac{\sin \frac{x-a}{2}}{\sin \frac{x+a}{2}} - 2 \sin a (2 \cos 2a + 1) \ln \left| \sin \frac{x+a}{2} \right| + C.$$

Интегралы вида (1.8) можно свести к нахождению интегралов одного из следующих типов:

I. $\int R(t, \sqrt{p^2 t^2 + q^2}) dt.$

II. $\int R(t, \sqrt{p^2 t^2 - q^2}) dt.$

III. $\int R(t, \sqrt{q^2 - p^2 t^2}) dt,$

где $t = x + b/(2a),$

$+bx + c = \pm p^2 t^2 \pm q^2$ (выделение полного квадрата).

Интегралы же вида I – III рационализируются относительно синуса и косинуса (обычных или гиперболических) следующими подстановками:

I. $t = \frac{p}{q} \operatorname{tg} z$ или $t = \frac{p}{q} \operatorname{sh} z.$

II. $t = \frac{p}{q} \operatorname{sec} z$ или $t = \frac{q}{p} \operatorname{ch} z.$

III. $t = \frac{p}{q} \sin z$ или $t = \frac{q}{p} \operatorname{th} z.$

1.32. Вычислить интегралы:

а) $I = \int \frac{dx}{\sqrt{(5+2x+x^2)^3}};$

б) $I = \int \frac{dx}{(x+1)^2 \sqrt{x^2+2x+2}}.$

Δ а) Так как $5+2x+x^2 = 4+(x+1)^2$, то полагая $x+1=t$, получаем

$$I = \int \frac{dt}{\sqrt{(4+t^2)^3}}, \text{ т.е. интеграл типа I.}$$

Осуществляя подстановку

$$t = 2tgz, dt = \frac{2dz}{\cos^2 z}; \sqrt{4+z^2} = \frac{2}{\cos z},$$

получаем

$$I = \frac{1}{4} \int \cos z dz = \frac{1}{4} \sin z + C = \frac{x+1}{4\sqrt{5+2x+x^2}} + C.$$

б) Из преобразования $x^2 + 2x + 2 = (x+1)^2 + 1$; полагаем $x+1 = t$. Тогда

$$I = \int \frac{dt}{t^2 \sqrt{t^2 + 1}} - \text{интеграл типа I.}$$

Применив подстановку $t = shz$, получим

$$dt = ch z dz, \sqrt{t^2 + 1} = \sqrt{1 + sh^2 z} = chz.$$

Следовательно,

$$\begin{aligned} I &= \int \frac{chz dz}{sh^2 z chz} = \int \frac{dz}{sh^2 z} = -cthz + C = -\frac{\sqrt{1+sh^2 z}}{shz} + C = -\frac{\sqrt{1+t^2}}{t} + C = \\ &= -\frac{\sqrt{x^2+2x+2}}{x+1} + C. \blacktriangle \end{aligned}$$

1.33. Найти интегралы:

1. $\int x^2 \sqrt{x^2 - 1} dx.$

2. $\int \frac{\sqrt{x^2 + 1}}{x^2} dx.$

3. $\int \sqrt{(x^2 - 1)^3} dx.$

4.* $\int \frac{dx}{(1 + \sqrt{x})\sqrt{x - x^2}}.$

5. $\int \sqrt{3 - 2x - x^2} dx.$

6. $\int \frac{dx}{(x^2 - 2x + 5)^{3/2}}.$

Отв.: 1. $-\frac{1}{8} \ln|x + \sqrt{x^2 - 1}| + \frac{1}{8} \ln|2x^2 - 1| \cdot \sqrt{x^2 - 1} + C.$

2. $\ln(x + \sqrt{x^2 - 1}) - \sqrt{x^2 + 1}/x + C.$

3. $\frac{1}{8} x(2x^2 - 1)\sqrt{x^2 - 1} - \frac{1}{2} x\sqrt{x^2 - 1} + \frac{3}{8} \ln(x + \sqrt{x^2 - 1}) + C.$

4. $\frac{2\sqrt{x}}{\sqrt{1-x}} - \frac{2}{\sqrt{1-x}} + C.$ 5. $\arcsin \frac{x+1}{2} + C.$ 6. $\frac{x-1}{4\sqrt{x^2+2x+5}} + C.$

2. Определенный интеграл

2.1. Интеграл Римана

Классы интегральных функций по Риману. Определенный интеграл и его свойства. Оценка определенности интеграла. Теорема о среднем

Пусть на отрезке $[a, b]$ определена функция $f(x)$ и пусть $a = x_0 < x_1 < x_2 < \dots < x_{n-1} < x_n = b$ — разбиение отрезка $[a, b]$ на элементарные отрезки $[x_{i-1}, x_i]$. Эти отрезки называются еще *отрезками разбиения*.

Пусть, далее, $\Delta x_i = x_i - x_{i-1}$ — длина элементарного отрезка. Выберем на этом отрезке произвольную точку ξ_i , $\xi_i \in [x_{i-1}, x_i]$, $i = \overline{1, n}$, и составим сумму

$$I_n = \sum_{i=0}^{n-1} f(\xi_i) \Delta x_i, \text{ называемую интегральной суммой Римана.}$$

Верхней (нижней) суммой Дарбу называется

$$S_n = \sum_{i=0}^{n-1} M_i \Delta x_i \left(s_n = \sum_{i=0}^{n-1} m_i \Delta x_i \right), \quad \text{где} \quad M_i = \sup f(x) \left(m_i = \inf f(x) \right) \quad \text{для}$$

$x \in [x_{i-1}, x_i]$. Обозначим $\Delta = \max_i \Delta x_i$, $i = \overline{1, n}$.

Определенным интегралом, или, интегралом Римана, от функции $f(x)$ на отрезке $[a, b]$ называется предел

$$\int_a^b f(x) dx = \lim_{\Delta \rightarrow 0} \sum_{i=1}^n f(\xi_i) \Delta x_i. \quad (2.1)$$

Если этот предел существует, то функция $f(x)$ называется *интегрируемой по Риману* (или просто *интегрируемой*) на $[a, b]$.

Отметим, что к классу интегрируемых функций на $[a, b]$ относятся непрерывные или кусочно-непрерывные функции на этом отрезке.

2.1. Исходя из определения, найти интеграл $\int_1^2 x^2 dx$.

Δ функция $f(x) = x^2$ интегрируема на $[1, 2]$, поскольку на этом отрезке она непрерывна. Разобьем отрезок $[1, 2]$ на n равных частей точками $x_i = 1 + \frac{i}{n}$,

$i = \overline{0, n}$. В качестве точек ξ_i выберем концевые точки разбиения $\xi_i = x_i$. Тогда

$\Delta x_i = \frac{1}{n}$ и, значит,

$$I_n = \sum_{i=1}^n \left(1 + \frac{i}{n} \right)^2 \cdot \frac{1}{n} = \frac{1}{n^3} \sum_{i=1}^n (n+i)^2 = \frac{1}{n^3} \left(\sum_{i=1}^n n^2 + 2 \sum_{i=1}^n ni^2 + \sum_{i=1}^n i^2 \right) =$$

$$= \frac{1}{n^3} \left(n^3 + 2n \frac{n(n+1)}{2} + \frac{n(n+1)(2n+1)}{6} \right) = 2 + \frac{1}{n} + \frac{1}{6} \left(1 + \frac{1}{n} \right) \left(2 + \frac{1}{n} \right).$$

Поэтому $\lim_{n \rightarrow \infty} I_n = \frac{7}{3}$. ▲

2.2.* Исходя из определения, найти интегралы:

1) $\int_0^1 x dx$. 2) $\int_1^2 \frac{dx}{x}$ (в качестве разбиения взять

$x_0 = 1, x_1 = q, x_2 = q^2, \dots, x_n = q^n = 2$).

3) $\int_a^b dx, m \neq -1, 0 < a < b$ (точки разбиения $x_0 = a, x_1 = a \left(\frac{b}{a}\right)^{1/n}$,

$x_2 = a \left(\frac{b}{a}\right)^{2/n}, \dots, x_i = a \left(\frac{b}{a}\right)^{i/n}, \dots, x_n = a \left(\frac{b}{a}\right)^{n/n} = b$).

4) $\int_0^1 e^x dx$. 5) $\int_0^{\pi/2} \sin x dx$.

Отметим следующие свойства определенного интеграла. Все они доказаны в [1]. Предполагается, что функции интегрируемы на соответствующем отрезке.

1°. $\int_a^a f(x) dx = 0$. 2°. $\int_b^a f(x) dx = -\int_a^b f(x) dx$. 3°. $\int_a^b dx = b - a$.

4°. Аддитивность интеграла. Если $a \leq c \leq b$, то

$$\int_a^b f(x) dx = \int_a^c f(x) dx + \int_c^b f(x) dx.$$

5°. Линейность интеграла. Для любых $\lambda_k \in \mathbf{R}, k = \overline{1, n}$, справедливо

$$\int_a^b \left(\sum_{k=1}^n \lambda_k f_k(x) \right) dx = \sum_{k=1}^n \lambda_k \int_a^b f_k(x) dx.$$

6°. Интегрирование неравенств. Если $f(x) \leq g(x), \forall x \in [a, b]$, то при $a < b$

$$\int_a^b f(x) dx \leq \int_a^b g(x) dx.$$

7°. Если $f(x) \geq 0$ на $[a, b]$, то $\int_a^b f(x) dx \geq 0$.

8°. Оценка интеграла по модулю: $\left| \int_a^b f(x) dx \right| \leq \int_a^b |f(x)| dx, a \leq b$.

9°. Оценка интеграла. Пусть $M = \sup_{[a,b]} f(x), m = \inf_{[a,b]} f(x)$ и $a < b$. Тогда

$$m(b-a) \leq \int_a^b f(x) dx \leq M(b-a).$$

10°. Теорема о среднем. Если $f(x)$ — непрерывная на $[a, b]$ функция, то на этом отрезке найдена точка ξ , $a \leq \xi \leq b$, что

$$\int_a^b f(x) dx = f(\xi)(b-a).$$

Величина $f(\xi) = \frac{1}{b-a} \int_a^b f(x) dx$ называется средним значением функции

$f(x)$ на отрезке $[a, b]$.

Интеграл $\int_a^b f(x) dx$ геометрически выражает

площадь S криволинейной трапеции (рис. 2.1).

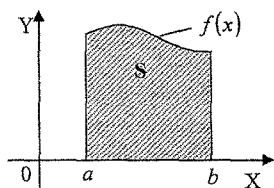


Рис. 2.1

2.3. Выяснить, какой из интегралов больше:

$$I_1 = \int_0^{\pi/2} \sin^3 x dx \text{ или } I_2 = \int_0^{\pi/2} \sin^7 x dx?$$

Δ На отрезке $[0, \pi/2]$ функции $\sin^7 x$ и $\sin^3 x$ непрерывны, а значит, интегрируемы, и выполняется строгое неравенство $\sin^7 x < \sin^3 x$. Поэтому по свойству 6° $I_2 < I_1$. ▲

Одним из свойств интеграла является свойство

11°. Непрерывность интеграла. Если функция f интегрируема на $[a, b]$, то функции

$$F(x) = \int_a^x f(t) dt \text{ и } G(x) = \int_x^b f(t) dt \text{ непрерывны на этом отрезке.}$$

2.4. Доказать, что если функция f интегрируема на $[a, b]$, то

$$\lim_{\xi \rightarrow 0} \int_{a+\xi}^{b-\xi} f(x) dx = \int_a^b f(x) dx, \quad 0 < \xi < b-a.$$

Δ По свойству аддитивности интеграла имеем:

$$\int_{a+\xi}^{b-\xi} f(x) dx = \int_{a+\xi}^c f(x) dx + \int_c^{b-\xi} f(x) dx. \text{ Отсюда с учетом свойства 11° получаем}$$

$$\begin{aligned} \lim_{\xi \rightarrow 0} \int_{a+\xi}^{b-\xi} f(x) dx &= \lim_{\xi \rightarrow 0} \left[\int_{a+\xi}^c f(x) dx + \int_c^{b-\xi} f(x) dx \right] = \lim_{\xi \rightarrow 0} \int_{a+\xi}^c f(x) dx + \lim_{\xi \rightarrow 0} \int_c^{b-\xi} f(x) dx = \\ &= \int_a^c f(x) dx + \int_c^b f(x) dx = \int_a^b f(x) dx. \quad \blacktriangle \end{aligned}$$

2.5. Выяснить, какой интеграл больше:

$$1) I_1 = \int_0^{\pi/2} \frac{\sin x}{x} dx \text{ или } I_2 = \int_0^{\pi} \frac{\sin x}{x} dx.$$

$$2) I_1 = \int_{1/2}^1 \frac{dx}{\sqrt{x}} \text{ или } I_2 = \int_{1/2}^1 \frac{dx}{\sqrt[3]{x}}.$$

$$3) I_1 = \int_0^1 e^{-x} \sin x dx \text{ или } I_2 = \int_0^1 e^{-x^2} \sin x dx.$$

$$4) I_1 = \int_0^1 \frac{dx}{\sqrt{1+x^2}} \text{ или } I_2 = \int_0^1 \frac{dx}{x}.$$

Отв.: 1) $I_2 > I_1$. 2) $I_1 > I_2$. 3) $I_1 > I_2$. 4) $I_2 > I_1$.

2.6. Доказать неравенства:

$$1) 0 < \int_0^{\pi} \frac{\sin x}{\sqrt[3]{x^2+2}} dx < \frac{\pi}{\sqrt[3]{2}}. \quad 2) \frac{\sqrt{2}}{3} < \int_{-1}^1 \frac{\cos x dx}{\sqrt[3]{x^2+8}} < 1.$$

$$3) \frac{1}{\sqrt[3]{9}} < \frac{1}{\pi} \int_{-1}^1 \frac{\pi + \operatorname{arctg} x}{\sqrt[3]{x^2+8}} dx < \frac{3}{2}.$$

2.2. Формула Ньютона – Лейбница

Интеграл с переменным верхним пределом. Замена переменной в определенном интеграле. Интеграл от четных, нечетных и периодических функций. Интегрирование по частям в определенном интеграле.

Если $f(x)$ – интегрируемая на $[a, b]$ функция, то $\forall x \in [a, b]$ она является интегрируемой на отрезке $[a, x]$. Интеграл

$$F(x) = \int_a^x f(t) dt \quad (2.2)$$

является функцией от верхнего предела интегрирования x . Для этого предела справедлива

Теорема 2.1 (Барроу). Если функция $f(x)$ непрерывна на отрезке $[a, b]$, то функция $F(x)$, определяемая формулой (2.2), является первообразной для $f(x)$ на $[a, b]$, т.е.

$$F'(x) = \frac{d}{dx} \int_a^x f(t) dt = f(x). \quad (2.3)$$

Следовательно,

$$\int f(x) dx = \int_a^x f(t) dt + C.$$

Следствие. При выполнении условий теоремы 2.1. функция

$$G(x) = \int_a^b f(t) dt \quad \text{также дифференцируема в любой точке } x \in [a, b] \text{ и}$$

$$G'(x) = -f(x).$$

Теорема 2.2. Если функция $f(x)$ непрерывна на $[a, b]$, то для любой ее первообразной F имеет место формула.

$$\int_a^b f(x) dx = F(b) - F(a), \quad (2.4)$$

которая часто записывается в виде

$$\int_a^b f(x) dx = F(x) \Big|_a^b.$$

Формула (2.4) называется формулой Ньютона – Лейбница.

2.7. Вычислить интеграл $\int \frac{sh2}{sh1 \sqrt{1+x^2}} dx$.

Δ Имеем

$$\int \frac{sh2}{sh1 \sqrt{1+x^2}} dx = \ln \left(x + \sqrt{1+x^2} \right) \Big|_{sh1}^{sh2} = \ln \frac{sh2 + \sqrt{1+sh^2 2}}{sh1 + \sqrt{1+sh^2 1}} =$$

$$= \ln \frac{sh2 + ch2}{sh1 + ch1} = \ln e = 1. \blacktriangle$$

2.8. Пусть $F(x)$ – первообразная для функции $\int_0^x (t^3 - 1) dt$, причем

$$F(0) = -1. \text{ Найти } F(-1).$$

Δ По условию $F'(x) = \int_0^x (t^3 - 1) dt$. Тогда по формуле Ньютона – Лейбница

$$F(x) = \left(t^4 / 4 - t \right) \Big|_0^x = x^4 / 4 - x. \text{ Отсюда}$$

$$F(x) = \int (x^4 / 4 - x) dx = x^5 / 20 - x^2 / 2 + C.$$

Из условия $F(0) = -1$ получим $-1 = C$, значит, $F(x) = x^5 / 20 - x^2 / 2 - 1$.

Отсюда $F(-1) = -31 / 20$. \blacktriangle

Если $f(x)$ – непрерывная на отрезке $[A, B]$ функция, а функции $\varphi(x)$ и $\psi(x)$ дифференцируемы на $[a, b]$, причем $A \leq \varphi(x) \leq B$, $A \leq \psi(x) \leq B$

при $a \leq x \leq b$, то функция $F(x) = \int_{\varphi(x)}^{\psi(x)} f(t) dt$, $a \leq x \leq b$, дифференцируема на $[a, b]$ и

$$\frac{d}{dx} \int_{\varphi(x)}^{\psi(x)} f(t) dt = f(\psi(x)) \cdot \psi'(x) - f(\varphi(x)) \cdot \varphi'(x). \quad (2.5)$$

Найдем, например, производную для функции $F(x) = \int_{\sin x}^{\ln x} e^{-t^2} dt$.

По формуле (2.5) получаем $F'(x) = e^{-\ln^2 x} \cdot \frac{1}{x} - e^{-\sin^2 x} \cdot \cos x$.

2.9. Найти производные:

$$\begin{aligned} 1) \frac{d}{dx} \int_a^b \sin x^2 dx & \quad 2) \frac{d}{dx} \int_x^b \sin t^2 dt \\ 3) \frac{d}{dx} \int_0^{x^2} \sqrt{1+t^2} dt & \quad 4) \frac{d}{dx} \int_{\sin x}^{\cos x} \cos \pi t^3 dt \end{aligned}$$

Отв.: 1) 0; 2) $-\sin x^2$; 3) $2x\sqrt{1+x^4}$; 4) $-\sin x \cos(\pi \cos^3 x) - \cos x \cos(\pi \sin^3 x)$.

2.10. Найти интегралы:

$$\begin{aligned} 1) \int_1^4 \frac{dx}{\sqrt[3]{x}} & \quad 2) \int_0^1 (\sqrt{x} + \sqrt[3]{x^2}) dx & \quad 3) \int_{-1/2}^{1/2} \frac{dx}{\sqrt{1-x^2}} \\ 4) \int_0^1 \frac{x^2 dx}{1+x^6} & \quad 5) \int_0^1 \frac{dx}{4x^2+4x+5} & \quad 6) \int_0^2 \frac{2x-1}{2x+1} dx \\ 7) \int_0^1 \frac{(x^2+3x) dx}{(x+1)(x^2+1)} & \quad 8) \int_1^2 \frac{e^{1/x^2}}{x^3} dx \\ 9) \int_0^{\pi/2} \frac{dx}{1+\sin x + \cos x} \end{aligned}$$

Отв.: 1) $\frac{3}{2}(2\sqrt[3]{2}-1)$. 2) $19/15$. 3) $\pi/3$. 4) $\pi/12$.
 5) $\frac{1}{4} \operatorname{arctg} \frac{4}{7}$.
 6) $2 - \ln 5$; 7) $\pi/4$. 8) $\frac{1}{2}(e - e^{1/4})$; 9) $\ln 2$.

$$2.11. \text{ Найти предел } L = \lim_{x \rightarrow 0} \frac{\int_0^{x^2} \sin \sqrt{x} dx}{x^3}.$$

Δ При $x = 0$ интеграл $\int_0^{x^2} \sin \sqrt{x} dx = 0$. Условия для применения пра-

вила Лопиталья выполнены. Поэтому
$$L = \lim_{x \rightarrow 0} \frac{\left[\int_0^{x^2} \sin \sqrt{x} dx \right]' \cdot (x^2)' \cdot x}{3x^2} =$$

$$\lim_{x \rightarrow 0} \frac{2x \sin x}{3x^2} = \frac{2}{3}. \blacktriangle$$

2.12. Найти пределы:

$$1) \lim_{x \rightarrow \infty} \frac{\int_0^x \arctg^2 t dt}{\sqrt{x^2 + 1}}.$$

$$2) \lim_{x \rightarrow \infty} \frac{\left(\int_0^x e^{t^2} dt \right)^2}{\int_0^x e^{2t^2} dt}.$$

$$3) \lim_{x \rightarrow 0} \frac{\int_0^x \cos t^2 dt}{x}.$$

$$4) \lim_{x \rightarrow 0} \frac{\int_0^{\sin x} \sqrt{t} dt}{\int_0^{\operatorname{tg} x} \sqrt{\sin t} dt}.$$

Отв.: 1) $\pi^2/4$; 2) 0; 3) 1; 4) 1.

2.13. Найти точки экстремума функций:

$$1) \int_0^x (t-1)(t-2)^2 dt. \quad 2) \int_1^x e^{-t^2/2} (1-t^2) dt. \quad 3) \int_0^{x^2} \frac{t^2 - 5t + 4}{2 + e^t} dt.$$

Отв.: 1) В точке $x = 1 - \min$, в точке $x = 2$ экстремума нет. 2) В точке $x = 1 - \max$, в точке $x = -1 - \min$. 3) В точках $x = 0, \pm 2 - \min$, в точках $x = \pm 1 - \max$.

Определенные интегралы часто легче вычисляются, если в них выполнить замену переменной интегрирования. Суть этой замены в следующем.

Теорема 2.3. Если функция $x = \varphi(t)$ удовлетворяет условиям:

1) $\varphi(t)$ - непрерывная однозначная функция, $t \in [\alpha, \beta]$, и имеющая на этом отрезке непрерывную производную $\varphi'(t)$.

2) Если $t \in [\alpha, \beta]$, то значения $\varphi(t)$ не выходят за пределы отрезка $[a, b]$.

3) $\varphi(\alpha) = a$, $\varphi(\beta) = b$, то для любой функции $f(x)$, непрерывной на отрезке $[a, b]$, справедлива следующая формула замены переменной интегрирования (или подстановка) в определенном интеграле:

$$\int_a^b f(x) dx = \int_{\alpha}^{\beta} f(\varphi(t)) \cdot \varphi'(t) dt. \quad (2.6)$$

2.14. Найти интеграл $I = \int_{-\sqrt{3}}^{\sqrt{3}} \sqrt{4 - x^2} dx$.

Δ Применим подстановку $x = 2 \sin t$ («логика» этой подстановки в том, что нам необходимо избавиться от радикала, интегрирование которого чаще всего не очень просто). Здесь $-\pi/3 \leq t \leq \pi/3$. Функция $x = \varphi(t) = \sin t$ на $[-\pi/3, \pi/3]$ удовлетворяет всем требованиям теоремы 2.3: она непрерывно дифференцируема, монотонна $\varphi(-\pi/3) = -\sqrt{3}$, $\varphi(\pi/3) = \sqrt{3}$. Тогда $x = 2 \sin t$, $dx = 2 \cos t dt$, $\sqrt{4 - x^2} = 2|\cos t| = 2 \cos t$, ибо при $t \in [-\pi/3, \pi/3] \Rightarrow \cos t > 0$.

$$\text{Итак: } I = \int_{-\sqrt{3}}^{\sqrt{3}} \sqrt{4 - x^2} dx = 4 \int_{-\pi/3}^{\pi/3} \cos^2 t dt = \frac{4\pi}{3} + \sqrt{3}$$

(читателю предоставляется «право» убедиться в этом самому). ▲

2.15. Найти интеграл $I = \int_2^4 \frac{\sqrt{x^2 - 4}}{x^4} dx$.

Δ Убедимся в том, что подстановка $x = 2 \sec t = 2 \cdot (1/\cos t)$ рационализирует подынтегральное выражение, при этом:

$$dx = 2 \frac{\sin t}{\cos^2 t} dt; \begin{cases} x = 2 \Rightarrow t = 0; \\ x = 4 \Rightarrow t = \pi/3. \end{cases}$$

Таким образом, поскольку функция $x = 2 \sec t$ монотонна, то значит,

$$I = \int_0^{\pi/3} \frac{\sqrt{4 \sec^2 t}}{16 \sec^4 t} \cdot 2 \frac{\sin t}{\cos^2 t} dt = \frac{1}{4} \int_0^{\pi/3} \sin^2 t \cos t dt = \frac{1}{12} \sin^3 t \Big|_0^{\pi/3} = \frac{\sqrt{3}}{12}. \quad \blacktriangle$$

Надо сказать, что применение той или иной подстановки для определенного интеграла при его вычислении требует «искусства», что не всегда легко. В этом случае нужна практика работы с определенными интегралами. Для этого студентам рекомендуется чаще обращаться к учебникам, учебным пособиям, где такие подстановки уже становятся «стандартными».

2.16. Вычислить интегралы:

$$1) \int_0^a x^2 \sqrt{a^2 - x^2} dx. \quad 2) \int_1^{\sqrt{3}} \frac{dx}{\sqrt{(1+x^2)^3}}.$$

$$3) \int_0^{\pi/2} \frac{\cos x dx}{6 - 5 \sin x + \sin^2 x}.$$

$$4) \int_0^{\pi/2} \frac{dx}{2 + \cos x}.$$

$$5) \int_0^{\pi/4} \frac{dx}{a^2 \cos^2 x + b^2 \sin^2 x};$$

$$a > 0, b > 0.$$

$$6)^* \int_1^{\sqrt{3}} \frac{\sqrt{1+x^2}}{x^2} dx.$$

$$7) \int_1^{e^2} \frac{dx}{x\sqrt{1+\ln x}}.$$

$$8) \int \frac{\sqrt[3]{(2-x^2)^3}}{3 + \sqrt[3]{(x-2)^2}} dx.$$

$$9)^* \int_0^{\pi/2} \frac{x \sin x}{1 + \cos^2 x} dx.$$

$$10)^* \int_0^1 \frac{\ln(1+x)}{1+x^2} dx.$$

Отв.: 1) $\pi a^2 / 16$; 2) $(\sqrt{3} - \sqrt{2}) / 2$; 3) $\ln(4/3)$; 4) $\pi / 3\sqrt{2}$;

$$5) \frac{1}{ab} \operatorname{arctg} \frac{b}{a};$$

$$6) \sqrt{2} - 2 / \sqrt{3} + \ln \frac{2 + \sqrt{3}}{1 + \sqrt{2}}; 7) 2(\sqrt{3} - 1); 8) 8 + \frac{2\pi\sqrt{3}}{2}; 9) \pi^2 / 4;$$

$$10) (\pi \ln 2) / 8.$$

2.17. Доказать равенство

$$\int_0^1 \frac{\operatorname{arctg} x}{x} dx = \frac{1}{2} \int_0^{\pi/2} \frac{t}{\sin t} dt.$$

2.18.* Вычислить интеграл $I = \int_{-1}^2 \frac{1+x^2}{1+x^4} dt.$

$$\text{Отв.: } \frac{1}{\sqrt{2}} \left(\operatorname{arctg} \frac{3\sqrt{2}}{4} + \pi \right).$$

Пусть функции $u = u(x)$ и $g = g(x)$ — непрерывно дифференцируемы на $[a, b]$. Тогда имеет место следующая формула интегрирования по частям в определенном интеграле:

$$\int_a^b u dg = u g \Big|_a^b - \int g du. \quad (2.7)$$

2.19. Найти интеграл: $I = \int_1^e x \ln x dx.$

Δ Имеем:

$$I = \left| \begin{array}{l} u = \ln x; du = dx/x; \\ d\vartheta = x dx; \vartheta = x^2/2 \end{array} \right| = \frac{x^2}{2} \ln x \Big|_1^e - \frac{1}{2} \int_1^e x dx = \frac{e^2}{2} - \frac{1}{4} x^2 \Big|_1^e = (e^2 + 1)/4. \blacktriangle$$

2.20. Найти интегралы:

$$1) \int_0^{\pi/\beta} e^{\alpha x} \sin \beta x dx .$$

$$2) \int_1^e \ln^3 x dx .$$

$$3) \int_0^{\pi^2/4} \sin \sqrt{x} dx .$$

$$4) \int_0^1 \frac{\arcsin x}{\sqrt{1+x}} dx .$$

$$5) \int_0^{\pi/2} x^2 \sin x dx .$$

$$6)^* \int_0^a (a^2 - x^2)^n dx, n \in N .$$

$$7) \int_0^1 x \ln(1+x^2) dx .$$

$$8) \int_0^{\pi/4} \ln(1+\operatorname{tg} x) dx .$$

$$9) \int_0^{\pi/2} \sin 2x \operatorname{arctg}(\sin x) dx . \quad 10)^* \int_1^{16} \operatorname{arctg} \sqrt{\sqrt{x}-1} dx .$$

Отв.: 1) $\frac{\beta(e^{\alpha\pi/\beta} + 1)}{\alpha^2 + \beta^2}$; 2) $6 - 2e$; 3) 2. 4) $\pi\sqrt{2} - 4$;

5) $\pi - 2$; 6) $a^{2n+1} \frac{(2n)!!}{(2n+1)!!}$; где $(2n)!! = 2 \cdot 4 \cdot 6 \dots 2n$.

$(2n+1)!! = 1 \cdot 3 \cdot 5 \dots (2n+1)$;

7) $\ln 2 - 1/2$; 8) $\ln(2/8)$; 9) $9(\pi/2 - 1)$;

10) $16\pi/3 - 2\sqrt{3}$.

Справедлива

Теорема 2.4. Пусть $f(x)$ — интегрируемая на $[-a, a]$ функция. Тогда: если f — четная функция, то

$$\int_{-a}^a f(x) dx = 2 \int_0^a f(x) dx, \quad (2.8)$$

если f — нечетная функция, то $\int_{-a}^a f(x) dx = 0$; если f — периодическая функция периода T , то $\forall a \in \mathbb{R}$

$$\int_a^{a+T} f(x) dx = \int_0^T f(x) dx. \quad (2.9)$$

2.21. Вычислить интегралы:

$$\text{а) } I = \int_{-1}^1 |x| dx. \quad \text{б) } I = \int_{-2}^2 \frac{x^6 \sin x}{x^8 + 3}. \quad \text{в) } I = \int_{\pi}^{5\pi/4} \frac{\sin 2x dx}{\cos^4 x + \sin^4 x}.$$

Δ а) Так как функция $f(x) = |x|$ — четная, то $I = 2 \int_0^1 x dx = 1$.

б) Подынтегральная функция нечетная, поэтому $I = 0$.

в) Так как

$$f(x + \pi) = \frac{\sin 2(x + \pi)}{\cos^4(x + \pi) + \sin^4(x + \pi)} = \frac{\sin 2x}{\cos^4 x + \sin^4 x} = f(x), \text{ то}$$

подынтегральная функция имеет период π . Поэтому можно отнять от верхнего и нижнего пределов интегрирования число π :

$$I = \int_0^{\pi/4} \frac{\sin 2x dx}{\cos^4 x + \sin^4 x} = 2 \int_0^{\pi/4} \frac{t \operatorname{tg} x dx}{\cos^2 x (1 + t^4 x)}. \text{ Последний интеграл легко вычисляется}$$

подстановкой $t = \operatorname{tg} x$. Он равен $\pi / 4$. ▲

2.22. Доказать равенства:

$$1) \int_{-a}^a \cos x f(x^2) dx = 2 \int_0^a \cos x \cdot f(x^2) dx.$$

$$2^*) \int_{-a}^a \sin x \cdot f(\cos x) dx = 0.$$

$$3) \int_a^b f(x) dx = \int_a^b f(a + b - x) dx.$$

Указание. В интеграле справа сделать подстановку $x = a + b - t$.

$$4^*) \int_0^{\pi} f(\sin x) dx = 2 \int_0^{\pi/2} f(\sin x) dx.$$

2.23. Вычислить интегралы:

$$1)^* \int_{-\sqrt{2}}^{\sqrt{2}} \frac{2x^7 + 3x^6 - 10x^5 - 7x^3 - 12x^2 + x + 1}{x^2 + 2} dx.$$

$$2) \int_{-1/2}^{1/2} \cos x \ln \frac{1+x}{1-x} dx.$$

$$\text{Отв.: } 1) -\frac{16}{5}\sqrt{2} + \frac{\pi}{2\sqrt{2}}; \quad 2) 0.$$

2.3. Приближенные методы вычисления определенных интегралов

Квадратурные формулы прямоугольников и трапеций. Квадратурная формула Симпсона.

Пусть на отрезке $[a, b]$ задана система точек $\{x_i\}$, $0 < i \leq n$, $a = x_0 < x_1 < \dots < x_n = b$, и система чисел $\{A_i\}$, $i = \overline{1, n}$.

Для интегрируемой на $[a, b]$ функции $y = f(x)$ приближенное равенство

$$\int_a^b f(x) dx \approx \sum_{i=1}^n A_i f(\xi_i)$$

называется *квадратурной формулой*. Точки ξ_i называются *узлами*, а числа A_i — *весами* этой формулы. Разность

$$\Delta = \int_a^b f(x) dx - \sum_{i=1}^n A_i f(\xi_i)$$

называется *погрешностью* квадратурной формулы.

Если отрезок $[a, b]$ разбивается на n равных частей узлами интегрирования $a = x_0 < x_1 < x_2 < \dots < x_n = b$, то расстояние h между двумя соседними узлами, называемое *шагом интегрирования*, есть величина постоянная, равная $h = (b - a)/n$. Тогда $\xi_i = a + ih$, $i = \overline{1, n}$. Квадратурная формула

$$\int_a^b f(x) dx \approx h \sum_{i=0}^{n-1} f(\xi_i) = \frac{b-a}{n} \sum_{i=0}^{n-1} f(\xi_i) \quad (2.12)$$

называется *формулой прямоугольников*.

Если в качестве точек ξ_i выбрать левые концы отрезков $[x_{i-1}, x_i]$, $i = \overline{1, n}$, то получим так называемую *формулу левых прямоугольников*:

$$\int_a^b f(x) dx = \frac{b-a}{n} \sum_{i=1}^n f(x_i) = \frac{b-a}{n} (f(a) + f(x_1) + f(x_2) + \dots + f(x_{n-1}))$$

Поскольку $x_i = a + ih$, то эта формула преобразуется к виду

$$\int_a^b f(x) dx \approx \frac{b-a}{n} (f(a) + f(a+h) + f(a+2h) + \dots + f(a+(n-1)h)) \quad (2.13)$$

При выборе в качестве ξ_i правых концов отрезков $[x_{i-1}, x_i]$ получим *формулу правых прямоугольников*:

$$\int_a^b f(x) dx \approx \frac{b-a}{n} (f(a+h) + f(a+2h) + \dots + f(a+nh)), \quad (2.14)$$

где $a + nh = b$.

При выборе в качестве ξ_i середины отрезков $[x_{i-1}, x_i]$, т. е. $\xi_i = (x_{i-1} + x_i)/2$, получим так называемую *составную квадратурную формулу прямоугольников*:

$$\int_a^b f(x) dx \approx \frac{b-a}{n} (f(a+h/2) + f(a+3h/2) + \dots + f(a+(2n-1)h/2)) =$$

$$= \frac{b-a}{n} \sum_{i=1}^n f\left(a + \left(i - \frac{1}{2}\right)h\right). \quad (2.15)$$

Если $M_2 = \max_{[a,b]} |f''(x)|$, то максимальная сверху оценка погрешности

формулы (2.15) определяется выражением

$$\Delta \leq \frac{b-a}{24} h^2 M_2 = \frac{(b-a)^3}{24 n^2} M_2. \quad (2.16)$$

Пусть $\xi_i = a + ih$, $i = \overline{1, n}$, тогда квадратурную формулу

$$\int_a^b f(x) dx = \frac{b-a}{2n} (f(a) + f(b) + 2f(a+h) + 2f(a+2h) + \dots + 2f(a+(n-1)h)) \quad (2.17)$$

называют *квадратурной формулой трапеций*. Ее погрешность определяется выражением

$$\Delta \leq \frac{(b-a)^3}{12 n^2} M_2, \quad (2.18)$$

где $M_2 = \max_{[a,b]} |f''(x)|$.

Если отрезок $[a, b]$ разделить на $2n$ частей так, что $h = (b-a)/2n$, то формула

$$\int_a^b f(x) dx \approx \frac{h}{3} \sum_{i=0}^{n-1} f(x_{2i}) + 4f(x_{2i+1}) + f(x_{2i+2}) = \quad (2.19)$$

$$= \frac{b-a}{6n} (f(a) + f(b) + 2(f(x_2) + f(x_4) + \dots + f(x_{2n-2})) + 4(f(x_1) + f(x_3) + \dots + f(x_{2n-1})))$$

называется *квадратурной формулой Симпсона*, или *формулой парабол*. Погрешность формулы Симпсона определяется соотношением

$$\Delta \leq \frac{(b-a)h^4}{180} M_4 = \frac{(b-a)^5}{2880} M_4, \quad \text{где } M_4 = \max_{[a,b]} |f''''(x)|. \quad (2.20)$$

2.24. Найти число узлов для вычисления интеграла $\int_0^1 \frac{dx}{1+x^2}$ по формуле

составных прямоугольников с точностью 10^{-4} .

Δ Имеем

$$f(x) = \frac{1}{1+x^2} \Rightarrow f''(x) = \frac{6x^2-2}{(1+x^2)^3} \Rightarrow M_2 = \max_{[0,1]} |f''(x)| = f''(0) = 2.$$

Тогда по формуле (2.16)

$$\frac{(b-a)^3}{24n^2} M_2 = \frac{1}{24n^2} \cdot 2 \leq 10^{-4} \Rightarrow n \geq 50 / \sqrt{3} \Rightarrow n \geq 30.$$

Следовательно, для вычисления данного интеграла с точностью до 10^{-4} по формуле составных прямоугольников отрезок интегрирования $[0,1]$ необходимо разбить на 30 равных частей. ▲

2.25. Вычислить интеграл $\int_0^1 \frac{dx}{1+x}$ с помощью: а) составной формулы

прямоугольников; б) формулы трапеций; в) формулы Симпсона, разбив отрезок интегрирования на 10 равных частей, и произвести оценки погрешностей вычислений.

Δ В нашем случае $a = 0$, $b = 1$, $2n = 10$, $h = (b-a)/10 = 0,1$. За узлы интегрирования возьмем точки $x_0, x_2, x_4, x_6, x_8, x_{10}$. Составим таблицу $f(x_i)$ функции $f(x) = 1/(x+1)$ в узлах (все вычисления проведены с четырьмя десятичными знаками после запятой):

i	0	1	2	3	4	5	6	7	8	9	10
x_i	0	0,1	0,2	0,3	0,4	0,5	0,6	0,7	0,8	0,9	1,0
$f(x_i)$	1	0,9091	0,8333	0,7692	0,7143	0,6667	0,6250	0,5882	0,5556	0,5263	0,5000

а) При вычислении интеграла по формуле прямоугольников (2.16) середины частичных отрезков интегрирования являются точки x_1, x_3, x_5, x_7, x_9 . Поэтому

$$\int_0^1 \frac{dx}{1+x} \approx \frac{1}{5} (f(x_1) + f(x_3) + f(x_5) + f(x_7) + f(x_9)) = \frac{1}{5} \cdot 3,4595 = 0,6912.$$

б) По формуле (2.17) получаем

$$\int_0^1 \frac{dx}{1+x} \approx \frac{1}{5} \left(\frac{f(0) + f(x_1)}{2} + f(x_2) + f(x_4) + f(x_6) + f(x_8) \right) = 0,6866.$$

в) По формуле (2.19) находим

$$\int_0^1 \frac{dx}{1+x} \approx \frac{1}{30} (f(0) + f(1) + 2(f(x_2) + f(x_4) + f(x_6) + f(x_8)) + 4(f(x_1) + f(x_3) + f(x_5) + f(x_7) + f(x_9))) = 0,6931.$$

Так как $M_2 = \max_{[0,1]} \left| \left(\frac{1}{1+x} \right)'' \right| = 2$, $M_4 = \max_{[0,1]} \left| \left(\frac{1}{1+x} \right)'''' \right|$, то по

формулам (2.16), (2.18), (2.20) оценки погрешностей равны: а) 0,0333; б) 0,0666; в) 0,0021, т.е. наиболее точное значение интеграла получается по формуле Симпсона. Точное значение интеграла равно $\ln 2 = 0,693147 \dots$ ▲

2.26. Вычислить с погрешностью не более ε интеграл:

$$1) \int_1^2 \frac{x dx}{1+x^3}, \varepsilon = 10^{-4}.$$

$$2) \int_0^2 \sqrt{1+4x^2} dx, \varepsilon = 10^{-3}.$$

$$3) \int_0^2 \frac{dx}{(1+x^2)^2}, \varepsilon = 10^{-3}.$$

$$4) \int_1^9 \frac{dx}{\sqrt{1+x^3}}, \varepsilon = 10^{-3}.$$

$$5) \int_1^3 \frac{\sqrt{1+x^2}}{x} dx, \varepsilon = 10^{-3}.$$

$$6) \int_1^2 \frac{\ln x}{x} dx, \varepsilon = 10^{-3}.$$

$$7) \int_1^2 \frac{e^{-x}}{x}, \varepsilon = 10^{-4}.$$

$$8) \int_0^{\pi/2} \frac{\cos x}{1+x} dx, \varepsilon = 10^{-3}.$$

$$9) \int_0^{\sqrt{\pi/2}} \cos x^2 dx, \varepsilon = 10^{-3}.$$

$$10) \int_0^{\pi} \sin(\sin x) dx, \varepsilon = 10^{-3}.$$

Отв.: 1) 0,3502; 2) 4,6470; 3) 0,7535; 4) 1,2280; 5) 2,3020;
6) 0,2400; 7) 0,1705; 8) 0,6736; 9) 0,9775; 10) 1,7866.

2.4. Геометрические приложения определенных интегралов

Площадь плоской фигуры в прямоугольной декартовой системе координат. Площадь плоской фигуры при параметрическом задании ее границ.

Площадь плоской фигуры в полярной системе координат. Вычисление длины дуги в декартовой и полярной системах координат. Вычисление

объемов тел. Площадь поверхности и объем тела вращения.

Исходя из определения определенного интеграла, площадь криволинейной трапеции D , ограниченной графиком неотрицательной функции $y = y(x)$, $x \in [a, b]$, отрезком $[a, b]$ оси X и соответствующими отрезками прямых $x = a$ и $x = b$ (рис.2.2), равна

$$S = \int_a^b y(x) dx. \quad (2.21)$$

Если функция $y = y(x)$ задана параметрически уравнениями $x = x(t)$, $y = y(t)$, $t \in [\alpha, \beta]$, где $x(t)$ имеет непрерывную неотрицательную на $[\alpha, \beta]$ производную, $x(\alpha) = a$, $x(\beta) = b$, а $y(t)$ – непрерывна и неотрицательна на $[\alpha, \beta]$, то площадь области D равна

$$S = \int_{\alpha}^{\beta} y(t) x'(t) dt. \quad (2.22)$$

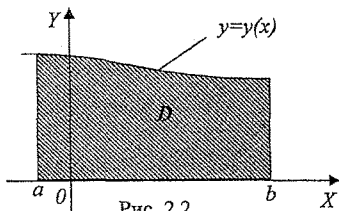


Рис. 2.2

Если область D ограничена графиками функций $y = y_1(x)$ и $y = y_2(x)$, непрерывных на $[a, b]$, и $y_2(x) \geq y_1(x)$, $\forall x \in [a, b]$, то площадь такой области (рис. 2.3) равна

$$S = \int_a^b (y_2(x) - y_1(x)) dx. \quad (2.23)$$

При аналогичных предположениях относительно данных функций для площади области D (рис. 2.4) имеют место формулы

$$S = \int_c^d x(y) dy, \quad (2.24)$$

$$S = \int_{\beta}^{\alpha} x(t) y'(t) dt. \quad (2.25)$$

Кроме того, можно пользоваться формулой

$$S = \frac{1}{2} \int_{\alpha}^{\beta} (x y' - y x') dt, \quad (2.26)$$

где α и β – значения параметра t , соответствующие началу и концу обхода контура в положительном направлении, при котором область D остается слева.

Для площади области D (рис. 2.5)

$$S = \int_c^d (x_2(y) - x_1(y)) dy. \quad (2.27)$$

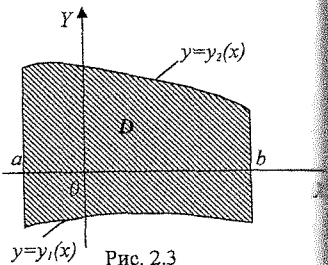


Рис. 2.3

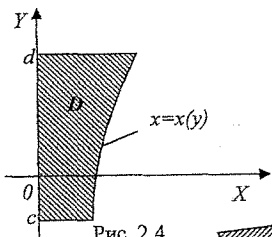


Рис. 2.4

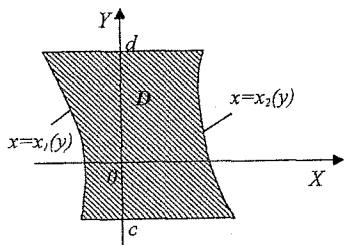


Рис. 2.5

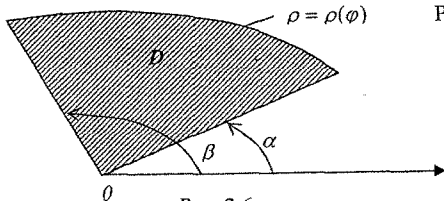


Рис. 2.6

Пусть функция $\rho = \rho(\varphi)$, $\varphi \in [\alpha, \beta]$, где $0 < \beta - \alpha \leq 2\pi$, непрерывна и неотрицательна на $[\alpha, \beta]$. Площадь сектора D (рис. 2.6), ограниченного графиком функции $\rho(\varphi)$ в полярных координатах и соответствующими отрезками лучей $\varphi = \alpha$ и $\varphi = \beta$, равна

$$S = \frac{1}{2} \int_{\alpha}^{\beta} \rho^2(\varphi) d\varphi. \quad (2.28)$$

2.27. Найти площадь фигуры, заключенной между параболой $x^2 = 4y$ и дугой Антьеви $y = 8/(x^2 + 4)$ (рис. 2.7).

Δ Решив систему

$$y = 8/(x^2 + 4),$$

$$y = x^2/4,$$

находим абсциссы точек A и C пересечения данных кривых. Это

$$x_1 = -2 \text{ и } x_2 = 2.$$

Из рисунка следует, что

$$8/(x^2 + 4) \geq 0$$

на отрезке $[-2, 2]$. Следовательно,

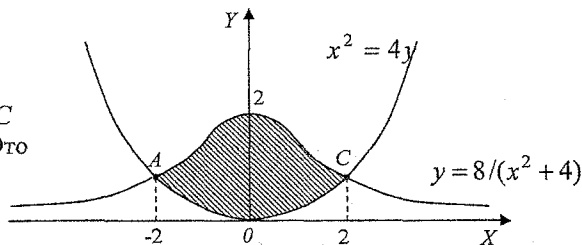


Рис. 2.7

$$S = \int_{-2}^2 \left(\frac{8}{x^2 + 4} - \frac{x^2}{4} \right) dx = \left(4 \operatorname{arctg} \frac{x}{2} - \frac{x^3}{12} \right) \Big|_{-2}^2 = 2\pi - \frac{4}{3}. \blacktriangle$$

2.28.* К эллипсу $\frac{x^2}{a^2} + \frac{y^2}{b^2} = 1$ проведена касательная в точке $C = (a/2, b\sqrt{3}/2)$. Найти площадь криволинейного треугольника ABC (рис. 2.8).

Δ Дуга AC эллипса и отрезок касательной BC являются графиком функций $x = x_1(y) = a\sqrt{1 - y^2/b^2}$ и $x = x_2(y) = a\left(2 - \frac{y\sqrt{3}}{b}\right)$, где

$0 \leq y \leq b\sqrt{3}/2$. По формуле (2.27) имеем

$$S = \int_0^{b\sqrt{3}/2} (x_2(y) - x_1(y)) dy. \text{ Интеграл от}$$

функции $x_2(y)$ вычисляется легко:

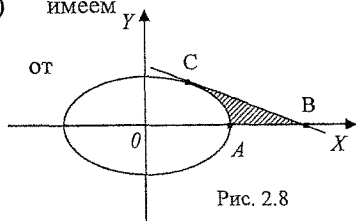


Рис. 2.8

$$I_2 = \int_0^{b\sqrt{3}/2} x_2(y) dy = \int_0^{b\sqrt{3}/2} a \left(2 - \frac{y\sqrt{3}}{b} \right) dy = \frac{5\sqrt{3}}{8} ab.$$

Для интеграла от функции $x_1(y)$ вводим подстановку $y = b \sin t$, $0 \leq t \leq \pi/3$:

$$I_1 = \int_0^{b\sqrt{3}/2} x_1(y) dy = ab \int_0^{\pi/3} \cos^2 t dt = \left(\frac{\pi}{6} + \frac{\sqrt{3}}{8} \right) ab.$$

Таким образом,

$$S = I_2 - I_1 = ab(3\sqrt{3} - \pi)/6 \dots \blacktriangle$$

2.29.* Найти площадь петли кривой:

$$x = \frac{t}{3}(6-t), \quad y = \frac{t^2}{8}(6-t).$$

Δ Обе функции $x(t)$ и $y(t)$ определены $\forall t \in \mathbb{R}$. Найдем точки самопересечения этой кривой.

Для точки самопересечения характерно то, что в ней совпадают значения абсциссы (и

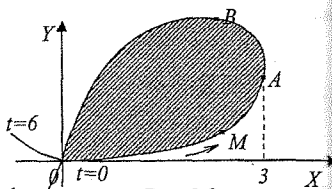


Рис. 2.9

ординаты) при разных значениях параметра t . Так как $x = 3 - \frac{1}{3}(t-3)^2$, то абсциссы совпадают при значениях параметра $t = 3 \pm \lambda$. Чтобы функция $y(t)$ при тех же значениях параметра t одно и то же значение должно выполняться равенство

$$\frac{(3+\lambda)^2}{8}(3-\lambda) = \frac{(3-\lambda)^2}{8}(3+\lambda), \quad \lambda \neq 0, \Rightarrow \lambda = \pm 3.$$

Таким образом, при $t_1 = 0$ и при $t_2 = 6$ имеем $x(t_1) = x(t_2) = 0$ и $y(t_1) = y(t_2) = 0$, т.е. точка $(0,0)$ является единственной точкой самопересечения. При изменении t от 0 до 6 точки кривой лежат в первой четверти. При изменении t от 0 до 3 точка $M = (x, y)$ описывает нижнюю часть петли, так

как в указанном промежутке $x(t)$ и $y(t) = 3t \frac{x}{8}$ возрастают, а затем функция $x(t)$ начинает убывать, в то время как $y(t)$ сначала еще возрастает. На рис. 2.9 указан обход кривой, соответствующей возрастанию t (область остается слева).

Площадь искомой петли найдем по формуле (2.26):

$$S = \frac{1}{2} \int_0^6 (xy' - yx') dt = \frac{1}{2} \int_0^6 \frac{t^2(6-t^2)}{24} dt = \frac{27}{5} \dots \blacktriangle$$

2.30. Найти площадь области, вырезаемой окружностью $\rho = \sqrt{3} \sin \varphi$ из кардиоиды $\rho = 1 + \cos \varphi$ (рис. 2.10).

Δ Решив систему

$$\begin{cases} \rho = \sqrt{3} \sin \varphi, & 0 \leq \varphi \leq \pi, \\ \rho = 1 + \cos \varphi, \end{cases}$$

находим точки пересечения этих кривых: $\varphi_1 = \pi/3$, $\varphi_2 = \pi$.

Искомая площадь равна сумме двух площадей: площади кругового сегмента и площади сегмента кардиоиды.

Эти сегменты примыкают друг к другу по лучу $\varphi = \pi/3$ (луч OB). Дуга BAO

описывается концом полярного радиуса ρ кардиоиды при изменении угла φ от $\pi/3$ до π . Дуга $OСВ$ — концом полярного радиуса ρ окружности при $0 \leq \varphi \leq \pi/3$. Поэтому, пропуская вычисления интегралов, имеем $\pi/3$.

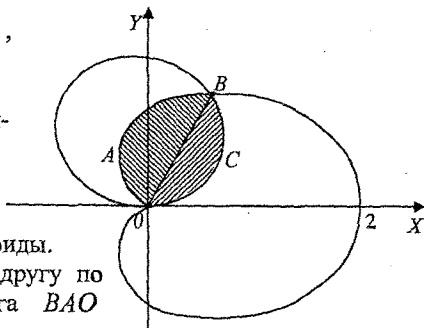


Рис. 2.10

$$S = \frac{1}{2} \int_0^{\pi/3} 3 \sin^2 \varphi d\varphi + \frac{1}{2} \int_{\pi/3}^{\pi} (1 + \cos \varphi)^2 d\varphi = \frac{3}{4} (\pi - \sqrt{3}). \blacktriangle$$

2.31. Найти площадь фигуры, ограниченной кривыми:

1) $x = -2y^2$, $x = 1 - 3y^2$.

2) $y = \sin x$, $y = \cos x$, $0 \leq x \leq \pi/4$.

3) $y = \frac{6}{(x+5)}$, $y = |x|$, $x \geq -2$.

4) $y = \sin^3 x + \cos^3 x$, $y = 0$, $-\pi/4 \leq x \leq 3\pi/4$.

5) $y = \operatorname{arctg} \sqrt{x}$, $y \pm x^2$, $x = 1$.

Отв.: 1) $\frac{4}{3}$. 2) $\sqrt{2} - 1$. 3) $6 \ln 2 - \frac{5}{2}$. 4) $5\sqrt{2}/3$. 5) $\frac{\pi}{2} - \frac{3}{2}$.

2.32. Найти площадь астроида $(x/a)^{2/3} + (y/a)^{2/3} = 1$.

Отв.: $3\pi a^2/8$.

2.33.* Найти площадь фигуры, ограниченной кривой $x = a \sin t$, $y = b \sin 2t$.

Отв.: $8ab/3$.

2.34.*. Вычислить площадь, содержащуюся внутри кардиоиды $x = a \cos t(1 + \cos t)$, $y = a \sin t(1 + \cos t)$.

2.35. Вычислить площадь фигуры, ограниченной кривой:

1) $x = \frac{c^2}{a} \cos^3 t$, $y = \frac{c^2}{b} \sin^3 t$, $c^2 = a^2 - b^2$ (эволюта эллипса).

$$2) x = a \frac{1-t^2}{(1+t^2)^2}, y = \frac{2at}{(1+t^2)^2} \text{ (улитка)}.$$

Отв.: 1) $3\pi(a^2 - b^2)^2 / (8ab)$. 2) $3\pi a^2 / 8$.

2.36. Вычислить площадь фигуры, ограниченной кривой $\rho = a \cos \varphi$.

Отв.: $\pi a^2 / 4$.

2.37.* Найти площадь фигуры, лежащей вне круга $\rho = a$ и ограниченной кривой $\rho = 2a \cos 3\varphi$. Отв. $\frac{a^2}{18}(2\pi + 3\sqrt{3})$.

2.38.* Вычислить площадь фигуры, ограниченной окружностями $\rho = 3\sqrt{2}a \cos \varphi$ и $\rho = 3a \sin \varphi$. Отв. $2,25 a^2 (\pi - \arctg \sqrt{2} - \sqrt{2})$.

2.39.* Найти площадь петли декартова листа $x^3 + y^3 = 3axy$.

Отв.: $3a^2/2$.

2.40.* Вычислить площадь фигуры, ограниченной замкнутой кривой $\rho = a \sin \varphi \cos^2 \varphi$, $a > 0$. Отв. $\pi a^2 / 32$.

2.41. Найти площадь фигуры, ограниченной петлей заданной кривой:

$$1) x = at - t^2, y = at^2 - t^3, a > 0.$$

$$2) x = t^2 - a^2, y = t^3 - a^2t, a > 0.$$

$$3) x = \frac{t(1-t^2)}{1+3t^2}, y = \frac{4t^2}{1+3t^2}.$$

$$4) \frac{1}{(1+t^2)}, y = \frac{t(1-t^2)}{(1+t^2)}.$$

$$5) x = a \sin 2t, y = a \sin t, a > 0.$$

Отв.: 1) $a^5/60$. 2) $8a^5/15$. 3) $\frac{1}{3}$. 4) $\frac{(4-\pi)}{4}$. 5) $\frac{4a^2}{3}$.

Если плоская кривая задана явно уравнением $y = y(x)$, $x \in [a, b]$, где $y(x)$ — непрерывно дифференцируемая на $[a, b]$ функция, то ее длина

$$S = \int_a^b \sqrt{1 + y'^2} dx. \quad (2.29)$$

Длина пространственной кривой, заданной параметрически уравнениями $x = x(t)$, $y = y(t)$, $z = z(t)$, $t \in [\alpha, \beta]$, где $x(t)$, $y(t)$, $z(t)$ — непрерывно дифференцируемые на $[\alpha, \beta]$ функции, равна

$$S = \int_{\alpha}^{\beta} \sqrt{x'^2 + y'^2 + z'^2} dt. \quad (2.30)$$

Длина плоской кривой, заданной параметрически уравнениями $x = x(t)$, $y = y(t)$, где $x(t)$ и $y(t)$ — непрерывно дифференцируемые на $[\alpha, \beta]$ функции, равна

$$S = \int_{\alpha}^{\beta} \sqrt{x'^2 + y'^2} dt. \quad (2.31)$$

Длина плоской кривой, заданной в полярных координатах уравнением $\rho = \rho(\varphi)$, $\varphi \in [\alpha, \beta]$, где $\rho(\varphi)$ — непрерывно дифференцируемая на $[\alpha, \beta]$ функция, равна

$$S = \int_{\alpha}^{\beta} \sqrt{\rho^2 + \rho'^2} d\varphi. \quad (2.32)$$

2.42. Вычислить длину полукубической параболы $y^2 = x^3$, заключенной между точками $(0, 0)$ и $(4, 8)$ (рис. 2.11).

Δ Функция $y(x)$ определена для $x \geq 0$. Поскольку данные точки лежат в первой четверти, то

$$y = x^{3/2} \Rightarrow y' = \frac{3}{2}\sqrt{x} \Rightarrow \sqrt{1 + y'^2} = \sqrt{1 + 9x/4}.$$

По формуле (2.29) имеем

$$S = \int_0^4 \sqrt{1 + \frac{9}{4}x} dx = \frac{4}{9} \cdot \frac{2}{3} \left(1 + \frac{9}{4}x\right)^{3/2} \Big|_0^4 = \frac{8}{27} (10\sqrt{10} - 1). \blacktriangle$$

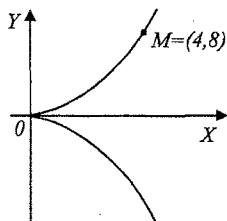


Рис. 2.11

2.43.* Найти периметр криволинейного треугольника, ограниченного дугой окружности $x^2 + y^2 = 2$ и графиком функции $y = \sqrt{|x|}$ (рис. 2.12).

Δ Решив систему

$$\begin{cases} x^2 + y^2 = 2, \\ y = \sqrt{|x|}, \end{cases}$$

находим координаты точек A и B пересечения этих кривых: $A = (-1, 1)$, $B = (1, 1)$.

Дуга AB задается явно уравнением

$y = \sqrt{2 - x^2}$, $|x| \leq 1$. Ее длина по формуле

(2.29) равна

$$S_1 = \int_{-1}^1 \sqrt{1 + y'^2} dx = \int_{-1}^1 \sqrt{\frac{2}{2 - x^2}} dx = \sqrt{2} \arcsin \frac{x}{\sqrt{2}} \Big|_{-1}^1 = \frac{\pi}{\sqrt{2}}.$$

Длины S_2 и S_3 дуг графика OB и OA равны в силу симметрии этих дуг относительно оси Y . Найдем длину дуги OB , заданной явно формулой

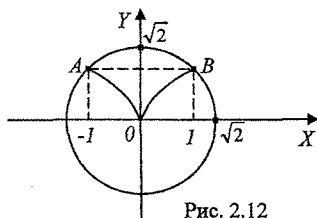


Рис. 2.12

$y = \sqrt{x}$, $0 \leq x \leq 1$. Но производная функции $y = \sqrt{x}$ неограничена в окрестности $x = 0$. Приняв за независимое переменное y , зададим OB уравнением $x = y^2$, $0 \leq y \leq 1$. Тогда $x' = 2y$ и по формуле, аналогичной (2.29), получим

$$S_2 = \int_0^1 \sqrt{1 + x'^2} dy = \int_0^1 \sqrt{1 + 4y^2} dy.$$

Положив $y = \frac{1}{2} \operatorname{sh} t$, находим

$$S_2 = \frac{1}{2} \int_0^{\operatorname{arcsch} 2} \operatorname{ch}^2 t dt = \frac{1}{4} \left(\frac{1}{2} \operatorname{sh} 2t + t \right) \Big|_0^{\operatorname{arcsch} 2} = \frac{1}{4} (2\sqrt{5} + \ln(2 + \sqrt{5})).$$

Таким образом, периметр треугольника равен

$$S_1 + 2S_2 = \frac{\pi}{\sqrt{2}} + \sqrt{5} + \frac{1}{2} \ln(2 + \sqrt{5}). \blacktriangle$$

2.44.* Найти длину пространственной кривой

$$x^2 = 2az - z^2, \quad y = a \ln \left(1 - \frac{z}{2a} \right), \quad 0 \leq z \leq z_0 \leq 2a,$$

взяв в качестве параметра

$$t = \sqrt{z/2a}, \quad 0 \leq t \leq t_0 = \sqrt{z_0/2a} < 1. \quad (2.33)$$

Δ Из (2.33) находим $z = 2at^2$, $x = 2at\sqrt{1-t^2}$,

$$y = a \ln(1-t^2) \Rightarrow x' = 2a \frac{1-2t^2}{\sqrt{1-t^2}}, \quad y' = -\frac{2at}{1-t^2}, \quad z' = 4at.$$

По формуле (2.30) находим

$$S = \int_0^{t_0} \sqrt{x'^2 + y'^2 + z'^2} dt = \int_0^{t_0} \frac{2a}{1-t^2} dt = a \ln \frac{1+t_0}{1-t_0} = a \ln \frac{\sqrt{2a} + \sqrt{z_0}}{\sqrt{2a} - \sqrt{z_0}}. \blacktriangle$$

2.45. Найти длину развертки круга $x = a(\cos t + t \sin t)$,
 $y = a(\sin t - t \cos t)$, $t \in [0, 2\pi]$.

Δ Так как $x'_t = at \cos t$, $y'_t = at \sin t$, то $\sqrt{x'^2 + y'^2} = at$. По формуле (2.31) длина развертки $S = \int_0^{2\pi} at dt = 2\pi a^2. \blacktriangle$

2.46. Найти длину логарифмической спирали $\rho = ae^{m\varphi}$ от некоторой точки (ρ_0, φ_0) до переменной точки (ρ, φ) .

Δ Независимо от того, какая из величин ρ и ρ_0 больше, имеем по формуле (2.32)

$$S = \left| \int_{\varphi_0}^{\varphi} \sqrt{a^2 e^{2m\varphi} + a^2 m^2 e^{2m\varphi}} d\varphi \right| = a \sqrt{1+m^2} \left| \int_{\varphi_0}^{\varphi} e^{m\varphi} d\varphi \right| =$$

$$= a \frac{\sqrt{1+m^2}}{m} |e^{m\varphi} - e^{m\varphi_0}| = \frac{\sqrt{1+m^2}}{m} |\rho - \rho_0| = \frac{\sqrt{1+m^2}}{m} |\Delta\rho|,$$

т.е. длина дуги логарифмической спирали пропорциональна приращению полярного радиуса дуги. ▲

2.47. Найти длину дуги кривой $y^2 = x^3$, отсеченной прямой $x = 4/3$.

Отв.: $112/27$.

2.48. Найти длину дуги кривой $y = \ln \cos x$, $x \in [0, \pi/4]$.

Отв.: $\ln \operatorname{tg} \frac{3\pi}{8}$.

2.49. Найти длину дуги кривой $\ln \frac{e^x + 1}{e^x - 1}$ от $x_1 = a$ до $x_2 = b$,

$b > a$.

Отв.: $\ln \frac{e^b - e^{-b}}{e^a - e^{-a}}$.

2.50. Найти длину дуги кривой $x = \frac{1}{4}y^2 - \frac{1}{2}\ln y$, $y \in [1, 2]$.

Отв.: $\frac{3}{4} + \frac{1}{2}\ln 2$.

2.51. Найти длину дуги кривой $y = \frac{x}{6}\sqrt{x+12}$, $x \in [-11, -3]$.

Отв.: $25/3$.

2.52. Найти длину одной арки циклоиды $x = a(t - \sin t)$,
 $y = a(1 - \cos t)$.

Отв.: $8a$.

2.53. Найти длину астроида $x = a \cos^3 t$, $y = a \sin^3 t$.

Отв.: $6a$.

2.54. Найти длину дуги кардиоиды $x = a(2 \cos t - \cos 2t)$,
 $y = a(2 \sin t - \sin 2t)$.

Отв.: $16a$.

2.55. Найти длину дуги кривой:

1)* $x = a(\cos t + \ln \operatorname{tg}(t/2))$, $y = a \sin t$,

$0 < t_0 \leq t \leq \pi/2$ (трактриса).

2) $x = (t^2 - 2)\sin t + 2t \cos t$, $y = (t^2 - 2)\cos t - 2t \sin t$,
 $0 \leq t \leq \pi$.

Отв.: 1) $-a \ln \sin t_0$. 2) $\pi^3/3$.

2.56. Найти длину дуги кардиоиды $\rho = a(1 + \cos \varphi)$, $a > 0$, $0 \leq \varphi \leq 2\pi$.

Отв.: $8a$.

2.57. Найти длину дуги кривой $\rho = a \sin^3(\varphi/3)$.

Отв.: $\frac{3}{2}\pi a$.

2.58. Найти длину отрезка прямой линии $\rho = a \sec(\varphi - \pi/3)$ $\varphi \in [0, \pi/2]$.

Отв.: $4a\sqrt{3}/3$.

2.59. Найти длину замкнутой кривой $\rho = a \sin^4(\varphi/4)$.

Отв.: $16a/3$.

2.60. Найти длину замкнутой кривой $\rho = 2a(\sin \varphi + \cos \varphi)$.

Отв.: $2\sqrt{2}\pi a$.

Объем тела выражается интегралом

$$V = \int_a^b S(x) dx, \quad (2.34)$$

где $S(x)$ — площадь сечения тела плоскостью, перпендикулярной к оси X в точке с абсциссой x , $x \in [a, b]$. Функция $S(x)$ предполагается известной непрерывной $\forall x \in [a, b]$.

2.61. Найти объем эллипсоида $\frac{x^2}{a^2} + \frac{y^2}{b^2} + \frac{z^2}{c^2} = 1$.

Δ Любое сечение эллипсоида плоскостью $x = \text{const}$, $|x| \leq a$, есть эллипс

$$\frac{y^2}{b^2(1 - x^2/a^2)} + \frac{z^2}{c^2(1 - x^2/a^2)} = 1$$

с полуосями

$$A = b\sqrt{1 - x^2/a^2}, \quad B = c\sqrt{1 - x^2/a^2}.$$

Так как площадь эллипса равна πAB , то $S(x) = \pi bc(1 - x^2/a^2)$, $|x| \leq a$

Тогда по формуле (2.34) объем эллипсоида

$$V = \int_{-a}^a \pi bc \left(1 - \frac{x^2}{a^2}\right) dx = \pi bc \left(x - \frac{x^3}{3a^2}\right) \Big|_{-a}^a = \frac{4}{3} \pi abc.$$

В частности, при $a = b = c$ получим объем шара $V_{ш} = \frac{4}{3} \pi a^3$. ▲

2.62. Вычислить объемы тел, ограниченных поверхностями:

- 1) $\frac{x^2}{9} + y^2 = 1, z = y, z = 0, (y \geq 0)$;
- 2) $x^2/16 + y^2/9 + z^2/4 = 1, z = 0, z = 1$;
- 3) $x^2/3 + y^2/4 = 1, z = y\sqrt{3}, z = 0, (y \geq 0)$;
- 4) $x^2/81 + y^2/25 - z^2 = 1, z = 0, z = 2$;
- 5) $x^2/27 + y^2/25 = 1, z = y\sqrt{3}, z = 0, (y \geq 0)$;
- 6) $x^2 + y^2/4 - z^2 = 1, z = 0, z = 3$.

Отв.: 1) 2. 2) 11π . 3) 8. 4) 210π . 5) 50. 6) 128π .

2.63.* Найти объем чердака, основание которого есть прямоугольник со сторонами a и b , верхнее ребро равно C , а высота равна h .

Отв.: $bh(C + 2a)/6$.

2.64.* Найти объем обелиска, параллельные основания которого являются прямоугольниками со сторонами A, B, a, b, a высота равна h .

Отв.: $h[B(a + 2A) + b(A + 2a)]/6$.

2.65.* Найти объем усеченного конуса, основаниями которого являются эллипсы с полуосями A, B и a, b , а высота равна h .

Отв.: $\pi h[B(a + 2A) + b(A + 2a)]/6$.

Объем V_x тела, образованного вращением вокруг оси X криволинейной трапеции и ограниченной кривой $y = f(x) \geq 0$, осью X и отрезками прямых $x = a$ и $x = b$ ($x < b$), выражается интегралом

$$V_x = \pi \int_a^b y^2(x) dx. \quad (2.35)$$

Объем тела V_x , образованного вращением вокруг оси X фигуры, ограниченной кривыми $y = y_1(x)$ и $y = y_2(x)$ ($0 \leq y_1(x) \leq y_2(x)$) и отрезками прямых $x = a$, $x = b$, выражается интегралом.

$$V_x = \pi \int_a^b (y_2^2(x) - y_1^2(x)) dx. \quad (2.36)$$

Если функция $y = y(x)$ задана параметрически уравнениями $x = x(t)$, $y = y(t)$, $t \in [\alpha, \beta]$, где функция $x(t)$ имеет непрерывную неотрицательную производную на $[\alpha, \beta]$ и $x(\alpha) = a$, $x(\beta) = b$, а функция $y(t)$ непрерывна и неотрицательна на $[\alpha, \beta]$, то объем V_x тела, образованного вращением вокруг оси X фигуры, равен

$$V_x = \pi \int_a^b y^2(t) x'(t) dt. \quad (2.37)$$

Если функция $x(t)$ убывает и $x(\alpha) = b$, $x(\beta) = a$, то при тех же прочих условиях

$$V_x = -\pi \int_{\alpha}^{\beta} y^2(t) x'(t) dt. \quad (2.38)$$

Для тел, образованных вращением фигуры вокруг оси Y , при аналогичных предположениях относительно данных функций верны соответственно следующие формулы для объемов:

$$V_y = \pi \int_c^d x^2(y) dy. \quad (2.39)$$

$$V_y = \pi \int_c^d (x_2^2(y) - x_1^2(y)) dy. \quad (2.40)$$

$$V_y = \pi \int_{\alpha}^{\beta} x^2(t) y'(t) dt. \quad (2.41)$$

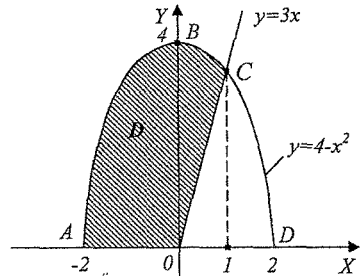


Рис. 2.13

2.66. Фигура D , ограниченная дугой параболы $y = 4 - x^2$, отрезком $[-2, 0] \subset X$ и отрезком прямой $y = 3x$, вращается вокруг оси X . Найти объем тела вращения.

Δ Решив систему $y = 4 - x^2$, $y = 3x$, находим точку C пересечения параболы и прямой (рис 2.13): $x_1 = 1$, $x_2 = -4 \Rightarrow x_c = 1$.

Искомый объем V_x равен разности объемов V_1 и V_2 тел, образованных вращением трапеции $ABCD$ и ΔOCD . По формуле (2.35) находим

$$V_1 = \int_{-2}^1 (4 - x^2)^2 dx = \frac{153}{5} \pi,$$

$$V_2 = \int_1^2 (3x)^2 dx = 3\pi.$$

Тогда $V_x = V_1 - V_2 = 138 \pi / 5. \blacktriangle$

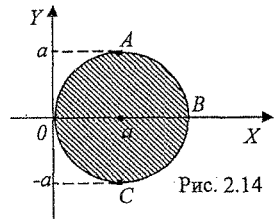


Рис. 2.14

2.67. Найти объем тела, образованного вращением круга $(x - a)^2 + y^2 \leq a^2$ вокруг оси Y (рис. 2.14).

Δ Дуги AOC и ABC являются графиками функций $x_1(y) = a - \sqrt{a^2 - y^2}$ и $x_2 = a + \sqrt{a^2 - y^2}$, $|y| \leq a$. Объем V_y тела вращения найдем по формуле (2.40):

$$V_y = \pi \int_{-a}^a (x_2^2(y) - x_1^2(y)) dy = 4\pi a \int_{-a}^a \sqrt{a^2 - y^2} dy = |y = a \sin t| = 4\pi a \int_{-\pi/2}^{\pi/2} \cos^2 t dt = 2\pi^2 a^3. \blacktriangle$$

2.68. Найти объем тела, образованного вращением астроида $x = a \cos^3 t$, $y = a \sin^3 t$, $0 \leq t \leq 2\pi$, вокруг оси X .

Δ Астроида симметрична относительно X и Y , поэтому искомым объемом V_x равен $2V$, где V - объем тела вращения криволинейного треугольника AOB (рис. 2.15) вокруг оси X . По формуле (2.38) находим

$$V = -\pi \int_0^{\pi/2} a^2 \sin^6 t \cdot 3a \cos^2 t (-\sin t) dt = -3\pi a^3 \int_0^{\pi/2} (1 - \cos^2 t)^3 \cos^2 t dt \cdot (\cos t) = \frac{16}{105} \pi a^3 \Rightarrow \\ \Rightarrow V_x = 2V = 32 \pi a^3 / 105. \blacktriangle$$

2.69. Вычислить объем тела, образованного вращением фигуры, ограниченной данными линиями, вокруг оси L ($L = X$ или $L = Y$):

- 1) $xy = 4$, $x = 1$, $x = 4$, $y = 0$, $L = X$;
- 2) $y = x^3$, $y = 0$, $x = 2$, $L = Y$;
- 3) $y = \sin x$ (одной волной), $y = 0$, $L = X$;
- 4) $x^2 - y^2 = 4$, $y = \pm 2$, $L = Y$;
- 5) $(y - a)^2 = ax$, $x = 0$, $y = 2a$, $L = X$.

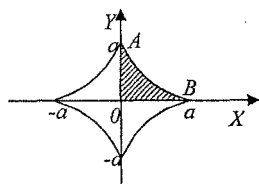


Рис. 2.15

Отв.: 1) 12π .2) $(64/5)\pi$.3) π^2 .4) $(64/3)\pi$.

5) $(4/3)\pi a^3$.

2.70. Вычислить объем тела, образованного вращением вокруг оси X фигуры, ограниченной окружностью $x^2 + y^2 = 1$ и параболой $y^2 = (3/2)x$.

Отв.: $(19/48)\pi$.

2.71. Найти объем тела, полученного вращением вокруг оси X петли кривой $x = at$, $y = a(t - t^3/3)$.

Отв.: $(4/3)\pi a^3$.

2.72.* Вычислить объемы тел, полученных вращением лемнискаты $(x^2 + y^2) = a^2(x^2 - y^2)$ вокруг осей X и Y .

Отв.: $\pi^2 a^3 4\sqrt{2}$; $(\pi a^3 / 4) [\sqrt{2} \ln(1 + \sqrt{2}) - 2/3]$.

Пусть $y = y(x)$, $x \in [a, b]$ - непрерывно дифференцируемая функция. Площадь S поверхности, образованной вращением графика этой функции вокруг оси X , равна

$$S = 2\pi \int_a^b |y(x)| \sqrt{1 + y'^2(x)} dx. \quad (2.42)$$

Если в полуплоскости $y \geq 0$ кривая задана параметрически уравнениями $x = x(t)$, $y = y(t)$, $t \in [\alpha, \beta]$, где $x(t)$ и $y(t)$ - непрерывно диффе-

ренцируемые на $[\alpha, \beta]$ функции, то площадь S поверхности, образованной вращением данной кривой вокруг оси X , равна

$$S = 2\pi \int_{\alpha}^{\beta} y(t) \sqrt{x'^2(t) + y'^2(t)} dt. \quad (2.43)$$

Если же кривая расположена в полуплоскости $y \leq 0$, то

$$S = 2\pi \int_{\alpha}^{\beta} |y(t)| \sqrt{x'^2(t) + y'^2(t)} dt. \quad (2.44)$$

При аналогичных условиях площадь S поверхности, образованной вращением кривой вокруг оси Y , соответственно равна

$$S = 2\pi \int_c^d |x(y)| \sqrt{1 + x'^2(y)} dy. \quad (2.45)$$

$$S = 2\pi \int_{\alpha}^{\beta} x(t) \sqrt{x'^2(t) + y'^2(t)} dt, \quad (x(t) \geq 0). \quad (2.46)$$

$$S = 2\pi \int_{\alpha}^{\beta} |x(t)| \sqrt{x'^2(t) + y'^2(t)} dt, \quad (x(t) \leq 0). \quad (2.47)$$

Площадь поверхности, образованной вращением вокруг полярного луча кривой $\rho = \rho(\varphi)$, $0 \leq \varphi_1 \leq \varphi \leq \pi$, равна

$$S = 2\pi \int_{\varphi_1}^{\varphi_2} \rho(\varphi) \sin \varphi \sqrt{\rho^2(\varphi) + \rho'^2(\varphi)} d\varphi, \quad (2.48)$$

где $\rho(\varphi)$ — непрерывно дифференцируемая на $[\varphi_1, \varphi_2]$ функция.

При этом же условии площадь поверхности, образованной вращением вокруг луча $\varphi = \pi/2$ кривой $\rho = \rho(\varphi)$, $-\pi/2 \leq \varphi_1 \leq \varphi \leq \varphi_2 \leq \pi/2$, равна

$$S = 2\pi \int_{\varphi_1}^{\varphi_2} \rho(\varphi) \cos \varphi \sqrt{\rho^2(\varphi) + \rho'^2(\varphi)} d\varphi. \quad (2.49)$$

2.73.* Найти площадь поверхности, образованной при вращении дуги параболы $2ay = x^2 - a^2$, $0 \leq x \leq 2\sqrt{2}a$ (рис. 2.16), 1) вокруг оси X ; 2) вокруг оси Y .

Δ 1) По формуле (2.42) имеем

$$S = 2\pi \int_0^{2\sqrt{2}a} |y(x)| \sqrt{1 + y'^2(x)} dx = 2\pi \int_0^{2\sqrt{2}a} \left| \frac{x^2 - a^2}{2a} \right| \sqrt{1 + \frac{x^2}{a^2}} dx.$$

Введем замену $x = at$ и учтем, что если $0 \leq x \leq a$, то $|x^2 - a^2| = -(x^2 - a^2)$, а если $x \geq a$, то $|x^2 - a^2| = x^2 - a^2$. Тогда

$$S = \pi a^2 \left(- \int_0^1 f(t) dt + \int_1^{2\sqrt{2}} f(t) dt \right), \quad (2.50)$$

где $f(t) = (t^2 - 1) \sqrt{1 + t^2}$.

Первообразную $F(t)$ функции $f(t)$ легко найти с помощью замены $t = sh \varphi$, в результате получим

$$F(t) = \frac{1}{8} t \sqrt{1+t^2} (2t^2 - 3) - \frac{5}{8} \ln \left(t + \sqrt{1+t^2} \right)$$

Из (2.50) имеем

$$S = \pi a^2 (-F(1) + F(0) + F(2\sqrt{2}) - F(1)) = \pi a^2 (F(0) + F(2\sqrt{2}) - 2F(1))$$

Но $F(0) = 0$,

$$F(2\sqrt{2}) = 39 \sqrt{2} / 4 - \frac{5}{8} \ln (3 + 2\sqrt{2}),$$

$$F(1) = -\frac{\sqrt{2}}{8} - \frac{5}{8} \ln (1 + \sqrt{2}).$$

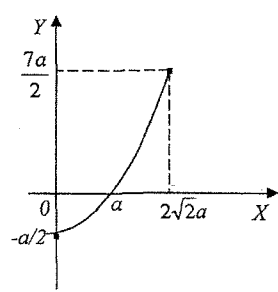


Рис. 2.16

Отсюда найдем

$$S = \pi a^2 \left(\frac{39\sqrt{2}}{4} - \frac{5}{8} \ln (3 + 2\sqrt{2}) + \frac{\sqrt{2}}{4} + \frac{5}{4} \ln (1 + \sqrt{2}) \right) = 10 \pi a^2 \sqrt{2}.$$

2) Считая кривую заданной параметрически уравнениями $x = x$, $2ay = a^2 - x^2$, по формуле (2.46) находим

$$S = 2\pi \int_0^{2\sqrt{2}a} x \sqrt{1+y'^2(x)} dx = 2\pi \int_0^{2\sqrt{2}a} x \sqrt{1 + \frac{x^2}{a^2}} dx = \pi a^2 \frac{2}{3} \left(1 + \frac{x^2}{a^2} \right)^{3/2} \Big|_0^{2\sqrt{2}a} = \frac{52}{3} \pi a^2. \blacktriangle$$

2.74.* Прямая $y = a$ пересекает дугу циклоиды $x = a(t - \sin t)$, $y = a(1 - \cos t)$, $0 \leq t \leq 2\pi$, в точках A и B (рис. 2.17). Найти площадь поверхности, образованной при вращении дуги AB циклоиды вокруг прямой $y = a$.

Δ Точки A и B соответствуют значения параметра $t = \pi/2$ и $t = 3\pi/2$, дуга AB — значениям $t \in [\pi/2, 3\pi/2]$. Площадь поверхности вращения найдем по формуле

$$S = 2\pi \int_{\pi/2}^{3\pi/2} (y(t) - a) \sqrt{x'^2(t) + y'^2(t)} dt, \quad (2.51)$$

аналогичной (2.43). Здесь вместо стоящего в (2.43) расстояния $y(t)$ от точки кривой до оси X (оси вращения) стоит расстояние $y(t) - a$, от точки кривой до прямой $y = a$, являющейся в данном случае осью вращения (рис. 2.17).

Находим: $y(t) - a = -a \cos t$,

$$\sqrt{x'^2(t) + y'^2(t)} = \sqrt{a^2(1 - \cos t)^2 + a^2 \sin^2 t} = 2a \sin(t/2), \quad t \in [\pi/2, 3\pi/2].$$

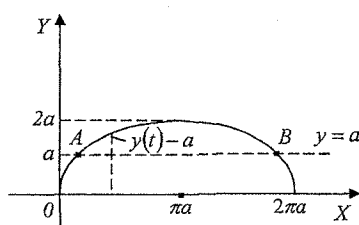


Рис. 2.17

По формуле (2.51) получаем

$$\begin{aligned} S &= -4\pi a^2 \int_{\pi/2}^{2\pi/2} \cos t \sin \frac{t}{2} dt = \left| \cos \frac{t}{2} = z \right| = \\ &= -8\pi a^2 \int_{-1/\sqrt{2}}^{1/\sqrt{2}} (2z^2 - 1) dz = -8\pi a^2 \left(\frac{2}{3} z^3 - z \right) \Big|_{-1/\sqrt{2}}^{1/\sqrt{2}} = \\ &= 16\sqrt{2}\pi a^2 / 3. \blacktriangle \end{aligned}$$

2.75. Вычислить площадь поверхности, образованной вращением лемнискаты $\rho = a\sqrt{\cos 2\varphi}$ вокруг полярной оси.

Δ Действительные значения для ρ получаются при $\cos 2\varphi \geq 0$, т.е. при $|\varphi| \leq \pi/4$ (правая ветвь лемнискаты), или при $\pi \leq \varphi \leq (5/4)\pi$ (левая ветвь лемнискаты). Тогда

$$\sqrt{\rho^2 + \rho'^2} = \sqrt{a^2 \cos 2\varphi + \left(\frac{a \sin 2\varphi}{\sqrt{\cos 2\varphi}} \right)^2} = \frac{a}{\sqrt{\cos 2\varphi}}.$$

Кроме того, $y = \rho \sin \varphi = a \sin \varphi \sqrt{\cos 2\varphi}$.

Искомая площадь поверхности S равна удвоенной площади поверхности образуемой вращением правой дуги. Поэтому

$$\begin{aligned} S &= 2 \cdot 2\pi \int_0^{\pi/4} \rho(\varphi) \sin \varphi \sqrt{\rho^2(\varphi) + \rho'^2} d\varphi = \\ &= 4\pi a^2 \int_0^{\pi/4} \frac{\sqrt{\cos 2\varphi} \cdot \sin \varphi d\varphi}{\sqrt{\cos 2\varphi}} = 2\pi a^2 (2 - \sqrt{2}). \blacktriangle \end{aligned}$$

2.76. Вычислить площадь поверхности, образованной вращением астронды $x^{2/3} + y^{2/3} = a^{2/3}$ вокруг оси X .

Отв.: $12\pi a^2 / 5$.

2.77. Вычислить площадь поверхности образованной вращением вокруг оси X замкнутого контура $OABCO$, состоящего из кривых $y = x^2$ и $x = y^2$ (рис 2.18).

Отв.: $\frac{67\sqrt{5}\pi}{48} - \frac{\pi}{32} \ln(2 + \sqrt{5}) - \frac{\pi}{6}$.

2.78. Вычислить площадь поверхности, образованной вращением:

а) части кривой $y = x^2/2$, отсеченной прямой $y = 3/2$, вокруг оси Y ;

б) части кривой $y^2 = 4 + x$, отсеченной прямой $x = 2$, вокруг оси X ;

Отв.: а) $14\pi/3$; б) $62\pi/3$.

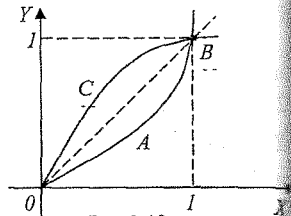


Рис 2.18

2.79. Вычислить площадь поверхности, образованной вращением вокруг оси L ($L = X$ или $L = Y$):

1) дуги кривой $x = t^2$, $x = (t/3) \cdot (t^3 - 3)$, заключенной между точками пересечения ее с осью X , $L = X$; **Отв.:** 12π .

2) окружности $x^2 + (y - b)^2 = r^2$, $0 < r < b$, $L = X$; **Отв.:** $4\pi^2 rb$.

3) дуги кривой $y = x^3/3$, $|x| \leq 2$, $L = X$; **Отв.:** $(34\sqrt{17} - 2)\pi/9$.

4) дуги параболы $x^2 = 4ay$, заключенной между точками ее пересечения с прямой $y = 3a$, $L = Y$; **Отв.:** $56\pi a^2/3$.

5) дуги кривой $x = e^t \sin t$, $y = e^t \cos t$ от $t = 0$ до $t = \pi/2$, $L = X$; **Отв.:** $2\sqrt{2}\pi(e^\pi - 2)/2$.

6) кардиоиды $x = a(2 \cos t - \cos 2t)$, $y = a(2 \sin t - \sin 2t)$, $L = X$; **Отв.:** $128\pi a^2/5$.

7) кривой $\rho = 2a \sin \varphi$ вокруг полярной оси. **Отв.:** $4\pi^2 a^2$.

2.5. Физические применения определенного интеграла

Работа переменной силы. Давление жидкости на погруженную в нее пластинку. Кинетическая энергия вращающегося тела. Масса, статические моменты, моменты инерции плоской кривой и плоской фигуры.

Если непрерывная переменная сила $F(x)$ действует в направлении оси X , то работа силы на отрезке $[x_1, x_2]$ выражается интегралом

$$A = \int_{x_1}^{x_2} F(x) dx. \quad (2.52)$$

Давление жидкости на вертикально погруженную в нее пластинку D , изображенную на рис. 2.19, выражается интегралом

$$P = \rho g \int_a^b f(x) dx. \quad (2.53)$$

Здесь и на рис. 2.19: ρ - плотность жидкости; g - ускорение свободного падения; $y = f(x)$ - уравнение линии AB , $x = a$ - верхний край погружения пластинки, $x = b$ - нижний край; ось Y расположена на поверхности жидкости.

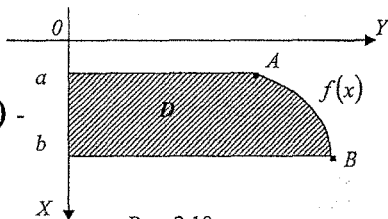


Рис. 2.19

2.80. Вычислить работу, которую нужно затратить на перекачивание жидкости через край котла, имеющего форму эллиптического параболоида $z = x^2/4 + y^2/9$ высотой $H = 4$ м и заполненного жидкостью плотностью $\rho = 0,8T / м^3$.

Δ Выделим на высоте z_i элементарный слой жидкости толщиной Δz_i (рис. 2.20), объем которого $\Delta V_i = \pi 2\sqrt{z_i} \cdot 3\sqrt{z_i} = \Delta z_i$, а масса $\Delta m_i = 6\pi\rho z_i \Delta z_i$, так как в горизонтальном сечении котла получается эллипс с полуосями $a = 2\sqrt{z_i}$, $b = 3\sqrt{z_i}$. Работа, затраченная на перекачивание жидкости из котла, выражается следующим пределом:

$$A = \lim_{n \rightarrow \infty} \sum_{i=1}^n 6\pi\rho g z_i (H - z_i) \Delta z_i =$$

$$= \int_0^H 6\pi\rho g (H - z) dz = 6\pi\rho g \left(H \frac{z^2}{2} - \frac{z^3}{3} \right) \Big|_0^H =$$

$$= \pi\rho g H^3 = 64\pi\rho g \approx 1575,53 \text{ кДж. } \blacktriangle$$

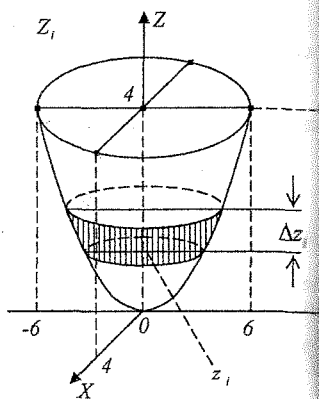


Рис. 2.20

2.81. Вычислить работу, которую нужно затратить на выкачивание воды из котла, имеющего форму полушара радиусом R ($\rho = 1$). Отв. $\pi R^4 g / 4$.

2.82. Вычислить работу, которую нужно затратить, чтобы насыпать кучу песка конической формы с радиусом основания R и высотой H . Плотность песка ρ .

Отв.: $\pi\rho g R^2 H^2 / 12$.

2.83*. Цилиндрический бок заполнен жидкостью. Однородный цилиндр плавает, на половину погрузившись в жидкость основанием вниз. Площадь основания цилиндра в 3 раза меньше площади поперечного сечения бака, высота цилиндра равна H , вес G . Какую работу нужно совершить, чтобы погрузить цилиндр целиком в жидкость?

Отв.: $GH / 6$.

2.84. Вычислить работу, затрачиваемую на преодоление силы тяжести при построении правильной усеченной четырехугольной пирамиды, стороны верхнего основания которой равна 2 м, нижнего — 4 м, высота — 2 м. Материал, из которого строится пирамида, имеет удельный вес $\gamma = 24 \text{ кН} / \text{м}^3$.

Отв.: 352 кДж.

По закону Паскаля давление Δp жидкости на площадь ΔS , погруженную на глубину h , выражается формулой $\Delta p = \rho g h \Delta S$, где ρ — плотность жидкости, g — ускорение свободного падения.

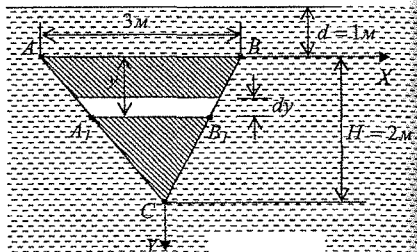


Рис. 2.21

2.85. Треугольная пластинка с основанием $a = 3 \text{ м}$ и высотой $H = 2 \text{ м}$ погружена вертикально вершиной вниз в жидкость так, что основание параллельно поверхности жидкости и находится на расстоянии $d = 1 \text{ м}$ от поверхности. Плотность жидкости $\rho = 0,9 \text{ Т / м}^3$. Вычислить силу давления жидкости на каждую из сторон пластинки.

Δ Прямыми, параллельными поверхности жидкости, разобьем треугольник на элементарные полоски шириной dy (рис. 2.21), отстоящие от поверхности жидкости на расстоянии $y + d$. Из подобия треугольников ABC и $A_1B_1C_1$ имеем $\frac{|A_1B_1|}{a} = \frac{H - y}{H} \Rightarrow |A_1B_1| = \frac{a}{H}(H - y)$,

т.е. приближенно площадь вырезанной полоски $dS = \frac{a}{H}(H - y)dy$, а давление на каждую из сторон полоски треугольной пластины

$$dp = \frac{a}{H} \rho g (y + d)(H - y) dy.$$

Интегрируя обе части этого равенства в пределах от 0 до H , получаем

$$p = \int_0^H \frac{a}{H} \rho g (d + y)(H - y) dy = \frac{3}{2} \rho g \left(2y + \frac{y^2}{2} - y \frac{y^3}{3} \right) \Big|_0^H = 5 \rho g \approx 44,1 \text{ кН}. \blacktriangle$$

2.86. Определить давление воды ($\rho = 1$) на вертикальную перегородку в канале, имеющую форму полукруга радиусом a , диаметр которого находится на поверхности воды (рис. 2.22).

Δ Это давление численно равно удвоенному давлению, испытываемому четвертью OBC круга.

Так как уравнение дуги BC есть

$$f(x) = \sqrt{a^2 - x^2},$$

то по формуле (2.51) искомое давление

$$\rho = 2g \int_0^a x \sqrt{a^2 - x^2} dx = -\frac{2}{3} (a^2 - x^2)^{3/2} \Big|_0^a = 2ga^3/3. \blacktriangle$$

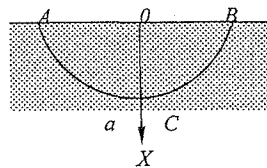


Рис. 2.22

2.87. Вычислить силу давления на пластину, вертикально погруженную в воду, считая, что удельный вес воды равен $9,81 \text{ кН/м}^3$ (результат округлить до целого числа). Форма, размеры и расположение пластины указаны на рисунке:

- 1) рис. 2.23; 2) рис. 2.24; 3) рис. 2.25;
4) рис. 2.26; 5) рис. 2.27; 6) рис. 2.28.

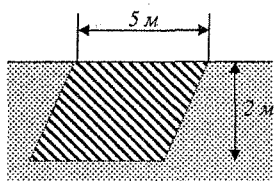


Рис. 2.23

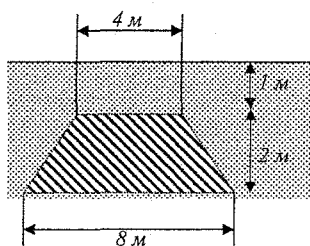


Рис. 2.24

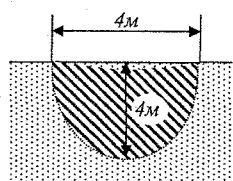


Рис. 2.25

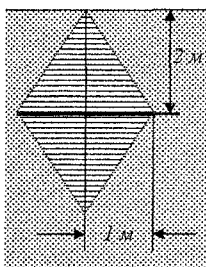


Рис. 2.26

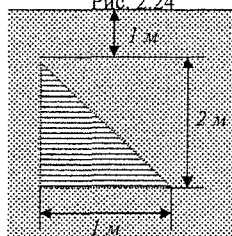


Рис. 2.27

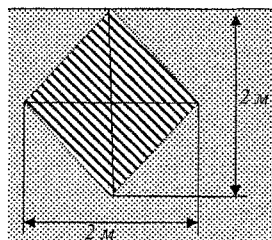


Рис. 2.28

Отв. (в кН): 1) 98; 2) 248; 3) 167; 4) 78; 5) 23; 6) 20.

2.88. Вычислить кинетическую энергию однородного кругового конуса, вращающегося с угловой скоростью ω вокруг своей оси, если радиус основания конуса равен R , его высота H и плотность γ .

Δ Кинетическая энергия тела, вращающегося вокруг некоторой оси с угловой скоростью ω , равна $K = I\omega^2/2$, где I — момент инерции тела относительно оси вращения. За элементарную массу dm примем массу полого цилиндра высотой h с внутренним радиусом r и толщиной стенок dr (рис 2.29). Тогда $dm = 2\pi rh\gamma dr$, $0 \leq r \leq R$. Из подобия треугольников OCD и OAB .

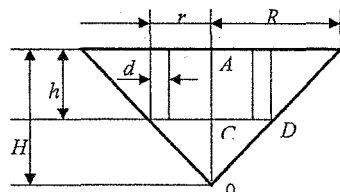


Рис. 2.29

Имеем

$$\frac{r}{R} = \frac{H-h}{H} \Rightarrow h = H \left(1 - \frac{r}{R}\right).$$

Следовательно, $dm = 2\pi\gamma H \left(1 - \frac{r}{R}\right) r dr$ и элементарный момент инерции dI равен

$$dI = dm \cdot r^2 = 2\pi\gamma H \left(1 - \frac{r}{R}\right) r^3 dr.$$

Таким образом, момент инерции всего конуса равен

$$I = \int_0^R dl = \int_0^R 2\pi\gamma H \left(1 - \frac{r}{R}\right) r^3 dr = 2\pi\gamma g H \left(\frac{R^4}{4} - \frac{R^4}{5}\right) = \frac{1}{10}\pi\gamma HR^4,$$

кинетическая энергия конуса равна $K = \frac{1}{20}\pi\gamma HR^4\omega^2$. ▲

2.89. Найти кинетическую энергию однородного шара радиусом R и плотностью γ , вращающегося с угловой скоростью ω вокруг своего диаметра

Отв.: $4\pi\gamma\omega^2 R^5/15$.

2.90*. Найти кинетическую энергию пластинки, имеющей форму параболического сегмента и вращающейся вокруг оси параболы с постоянной угловой скоростью ω . Основание сегмента a , высота h , толщина пластинки d , плотностью материала γ .

Отв.: $\omega^2\gamma d h a^3/60$.

2.91. Найти кинетическую энергию треугольной пластинки, вращающейся вокруг основания с угловой скоростью ω . Основание пластинки α , высота h , толщина l , плотность γ

Отв.: $\gamma a l h^3 \omega^2/24$.

2.92. Найти кинетическую энергию однородного кругового цилиндра плотностью γ с радиусом основания R и высотой H , вращающегося с угловой скоростью ω вокруг своей оси.

Отв.: $\pi\omega^2\gamma R^4 H/4$.

Если дуга кривой задана уравнением $y = f(x)$, $x \in [a, b]$, где $f(x)$ — непрерывная на $[a, b]$ функция и имеет плотность $\rho = \rho(x)$, то масса кривой вычисляется по формуле

$$m = \int_a^b \rho(x) \sqrt{1 + (f'(x))^2} dx. \quad (2.52)$$

Статические моменты кривой относительно координатных осей равны соответственно

$$M_x = \int_a^b \rho(x) f(x) \sqrt{1 + f'^2(x)} dx; \quad (2.53)$$

$$M_y = \int_a^b \rho(x) f(x) \sqrt{1 + f'^2(x)} dx. \quad (2.54)$$

Моменты инерции I_x и I_y относительно тех же осей X и Y вычисляются по формулам:

$$I_x = \int_a^b \rho(x) f^2(x) \sqrt{1 + f'^2(x)} dx, \quad (2.55)$$

$$I_y = \int_a^b \rho(x) x^2 \sqrt{1 + f'^2(x)} dx. \quad (2.56)$$

Координаты x_c и y_c центра масс S вычисляются по формулам

$$X_c = \frac{M_x}{m}, \quad y_c = \frac{M_y}{m}. \quad (2.57)$$

Если дуга кривой задана параметрически равенствами $x = x(t)$, $y = y(t)$, $t \in [\alpha, \beta]$, то в формулах (2.53)-(2.56) нужно сделать соответствующую замену переменных, выражение $\sqrt{1 + f'^2(x)} dx$ заменяется на $\sqrt{x'^2(t) + y'^2(t)} dt$.

Если же кривая задана в полярной системе координат равенством $\rho = \rho(\varphi)$, $\varphi \in [\alpha, \beta]$, то в этих же формулах нужно заменить $x = \rho \cos \varphi$, $y = \rho \sin \varphi$, выражение $\sqrt{1 + y'^2(x)} dx$ заменить на $\sqrt{\rho^2 + \rho'^2} d\varphi$.

2.93. Найти статические моменты, M_x , M_y , моменты инерции, I_x , I_y и координаты x_c , y_c , дуги цепной линии $y = ch x$, $x \in [0, 1]$, плотность $\rho = 1$

△ Имеем

$$\begin{aligned} M_x &= \int_0^1 y \sqrt{1 + y'^2(x)} dx = \int_0^1 chx \sqrt{1 + sh^2 x} dx = \\ &= \int_0^1 ch^2 x dx = \frac{1}{2} \int_0^1 (1 + ch2x) dx = \frac{1}{2} \left(x + \frac{1}{2} sh2x \right) \Big|_0^1 = \frac{1}{4} (2 + sh2); \end{aligned}$$

$$\begin{aligned} M_y &= \int_0^1 x \sqrt{1 + sh^2 x} dx = \int_0^1 x ch x dx = \\ &= \int_0^1 x d(shx) = x shx \Big|_0^1 - \int_0^1 shx dx = sh 1 - ch 1 + 1; \end{aligned}$$

$$I_z = \int_0^1 ch^3 x dx = \int_0^1 (1 + sh^2 x) d(shx) = sh 1 + \frac{1}{3} sh^3 1;$$

$$I_y = \int_0^1 x^2 ch x dx = \int_0^1 x^2 d(shx) = 3 sh 1 - 2 ch 1;$$

$$\text{масса } m = \int_0^1 ch x dx = shx \Big|_0^1 = sh 1.$$

$$\text{Тогда } x_c = \frac{M_y}{m} = \frac{sh 1 - ch 1 + 1}{sh 1}, \quad y_c = \frac{M_x}{m} = \frac{2 + sh 2}{4 sh 1}. \blacktriangle$$

294. Найти статические моменты M_x и M_y плоской кривой (плотность $\rho = 1$):

1) $x/a + y/b = 1, x \geq 0, y \geq 0$;

2) $y^2 = 2x, 0 \leq x \leq 2$;

3) $x^2/a^2 + y^2/b^2 = 1, y \geq 0, a > b$;

4) $x = a \sin^3 t, y = a \cos^3 t, 0 \leq t \leq \pi/2, a > b$.

5) $x = a(t - \sin t), y = a(1 - \cos t), 0 \leq t \leq 2\pi$;

6) $\rho = 2a \cos \varphi, 0 \leq \varphi \leq \pi/2$;

7) $\rho = a e^\varphi, 0 \leq \varphi \leq 2\pi$.

Отв.: 1) $M_x = b\sqrt{a^2 + b^2}/2, M_y = a\sqrt{a^2 + b^2}/2$;

2) $M_x = 0, M_y = \frac{9\sqrt{5}}{4} + \frac{1}{8} \ln(2 + \sqrt{5})$;

3) $M_x = b\left(b + \frac{a}{e}(\sqrt{2} + 5 \ln(1 + \sqrt{2}))\right), e = \sqrt{a^2 + b^2}/a$;

4) $M_x = M_y = 3a^2/5$;

5) $M_x = 32a^2/3, M_y = 8\pi a^2$;

6) $M_x = 2a^2, M_y = \pi a^2$;

7) $M_x = \frac{\sqrt{2}}{5}(1 - e^{4\pi})a^2, M_y = \frac{2\sqrt{2}}{5}(e^{4\pi} - 1)a^2$.

295. Найти координаты x_c и y_c центра масс кривой (плотность $\rho = 1$):

1) $x = R \cos \varphi, y = R \sin \varphi, |\varphi| \leq \alpha \leq \pi$;

2) $x = \frac{1}{4}y^2 - \frac{1}{2} \ln y, 1 \leq y \leq 2$;

3) $\rho = a(1 + \cos \varphi), 0 \leq \varphi \leq \pi$;

4) $x = a(t - \sin t), y = a(1 - \cos t), 0 \leq t \leq 2\pi$.

Отв.: 1) $x_c = (\sin \alpha)/\alpha, y_c = 0$;

2) $x_c = \frac{27 - 16 \ln 2 - 4 \ln^2 2}{8(3 + \ln 4)}, y_c = \frac{20}{3(3 + \ln 4)}$;

3) $x_c = y_c = 4a/5$;

4) $x_c = \pi a, y_c = 4a/3$.

296. Найти момент инерции I_x кривой:

1) $y = e^2, 0 \leq x \leq 1/2$;

2) $x = R \cos \varphi, y = R \sin \varphi, 0 \leq \varphi \leq \alpha \leq 2\pi$;

3) $x^2 + (y - a)^2 = R^2, a > R$.

$$\text{Отв.: 1) } \frac{1}{3} \left((1+e)^{3/2} - 2\sqrt{2} \right); \quad 2) \frac{1}{4} (2\alpha - \sin 2\alpha) R^3;$$

$$3) \pi R (2a^2 + R^2).$$

2.97. Найти моменты инерции I_x и I_y одной арки циклоиды:

$$x = a(t - \sin t), \quad y = a(1 - \cos t), \quad 0 \leq t \leq 2\pi.$$

$$\text{Отв.: } I_x = 256a^3/15, \quad I_y = 16 \left(\pi^2 - \frac{128}{45} \right) a^3.$$

Пусть плоская фигура D задана неравенствами $y_1(x) \leq y \leq y_2(x)$, $0 \leq x \leq b$, где $y_1(x)$, $y_2(x)$ — непрерывные на $[a, b]$ функции. Пусть на D распределена масса с плотностью $\rho(x)$. Масса m фигуры, статические моменты M_x и M_y , а также моменты инерции I_x и I_y относительно осей X и Y вычисляются по следующим формулам:

$$m = \int_a^b (y_2^2(x) - y_1^2(x)) \rho(x) dx; \quad (2.58)$$

$$M_x = \frac{1}{2} \int_a^b (y_2^2(x) - y_1^2(x)) \rho(x) dx; \quad (2.59)$$

$$M_y = \int_a^b x (y_2(x) - y_1(x)) \rho(x) dx; \quad (2.60)$$

$$I_x = \frac{1}{3} \int_a^b (y_2^3(x) - y_1^3(x)) \rho(x) dx; \quad (2.61)$$

$$I_y = \int_a^b x^2 (y_2(x) - y_1(x)) \rho(x) dx. \quad (2.62)$$

Пусть сектор задан в полярных координатах неравенствами $\varphi_1 \leq \varphi \leq \varphi_2$, $0 \leq \rho \leq \rho(\varphi)$, где $0 < \varphi_2 - \varphi_1 \leq 2\pi$, $\rho(\varphi)$ — непрерывная на $[\varphi_1, \varphi_2]$ функция, и пусть на секторе распределена масса с плотностью $\delta(\varphi)$, тогда:

$$m = \frac{1}{2} \int_{\varphi_1}^{\varphi_2} \rho^2(\varphi) \delta(\varphi) d\varphi, \quad (2.63)$$

$$M_x = \frac{1}{3} \int_{\varphi_1}^{\varphi_2} \rho^3(\varphi) \sin \varphi \delta(\varphi) d\varphi, \quad (2.64)$$

$$M_y = \frac{1}{3} \int_{\varphi_1}^{\varphi_2} \rho^3(\varphi) \cos \varphi \delta(\varphi) d\varphi, \quad (2.65)$$

$$I_x = \frac{1}{4} \int_{\varphi_1}^{\varphi_2} \rho^4(\varphi) \sin^2 \varphi \delta(\varphi) d\varphi, \quad (2.66)$$

$$I_y = \frac{1}{4} \int_{\varphi_1}^{\varphi_2} \rho^4(\varphi) \cos^2 \varphi \delta(\varphi) d\varphi. \quad (2.67)$$

Координаты центра масс вычисляются по формулам (2.57).

2.98. Фигура ограничена парабо-

лой $y = h \left(1 - \frac{x^2}{a^2}\right)$, полуокружностью $x^2 + y^2 = r^2$

и осью x (рис. 2.29). Считая фигуру однородной с плотностью $\delta = 1$, найти координаты центра масс фигуры и момент инерции относительно оси y .

Δ Указанные величины найдем по формулам (2.57) – (2.60), (2.62), полагая $y_2 = h \left(1 - x^2/a^2\right)$, $y_1(x) = 0$

при $r < |x| \leq a$, $y_1(x) = \sqrt{r^2 - x^2}$ при $|x| \leq r$. По формуле (2.58) для массы фигуры имеем

$$m = \int_{-a}^a (y_2(x) - y_1(x)) dx = 2 \int_0^a (y_2(x) - y_1(x)) dx,$$

так как $y_1(x)$ и $y_2(x)$ четные функции, и, учитывая, что $y_1(x) = 0$ при $r \leq x \leq a$,

$$\text{получаем } m = 2 \int_0^a h \left(1 - \frac{x^2}{a^2}\right) dx - 2 \int_0^r \sqrt{r^2 - x^2} dx.$$

Вычислив эти интегралы (для второго интеграла ввести подстановку $x = r \sin t$), получим

$$m = \frac{1}{6} (8ah - 3\pi r^2).$$

Из формулы (2.60) имеем

$$M_y = \int_{-a}^a x(y_2(x) - y_1(x)) dx = 0, \quad \text{так как } x(y_2(x) - y_1(x)) -$$

линейная функция. Отсюда $x_c = M_y / m = 0$, что и следовало ожидать, ибо центр масс находится на оси y – оси симметрии фигуры.

По формуле (2.59) находим

$$I_y = \frac{1}{2} \int_{-a}^a (y_2^2(x) - y_1^2(x)) dx = \int_0^a h^2 \left(1 - \frac{x^2}{a^2}\right)^2 dx - \int_0^r (r^2 - x^2) dx =$$

$$= \frac{2}{15} (4ah^2 - 5r^3).$$

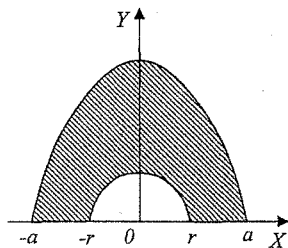


Рис. 2.30

Отсюда

$$y_c = \frac{M_x}{m} = \frac{4(4ah^2 - 5r^3)}{5(8ah - 3\pi r^2)}.$$

Момент инерции I_y находим по формуле (2.62):

$$I_y = \int_{-a}^a x^2 (y_2(x) - y_1(x)) dx = 2 \int_0^a x^2 h \left(1 - \frac{x^2}{a^2}\right) dx - 2 \int_0^r x^2 \sqrt{r^2 - x^2} dx = \frac{4}{15} a^3 h - \frac{\pi}{8} r^4. \blacktriangle$$

2.99. Найти статические моменты M_x и M_y фигуры ($\rho=1$), ограниченной кривыми:

- 1) $x/a + y/b = 1, x = 0, y = 0, a > 0, b > 0$;
- 2) $y = \sin x, |x| \leq \pi/2, y = 0$;
- 3) $y = 2/(1+x^2), y = x^2, x = 0, x \geq 0$;
- 4) $x = a \sin t, y = b \cos t, |t| \leq \pi/2, y = 0$;
- 5) $x = a(t - \sin t), y = b(1 - \cos t), 0 \leq t \leq \pi/2, y = 0$;
- 6) $\rho = a\varphi, 0 \leq \varphi \leq \pi$; 7) $\rho = a(1 + \cos \varphi), |\varphi| \leq \pi$.

Отв.: 1) $M_x = ab^2/6, M_y = a^2b/6$;

$$2) M_x = \frac{\pi}{12} + \frac{\sqrt{3}}{8}, M_y = \pi(3\sqrt{3} - \pi/6);$$

$$3) M_x = 2/5 + \pi/4, M_y = \ln 2 - 1/4.$$

$$4) M_x = 2ab^2/3, M_y = 0;$$

$$5) M_x = 5\pi a^3/2, M_y = 3\pi^2 a^3;$$

$$6) M_x = \pi a^3(\pi^2 - 6)/3, M_y = a^3(4 - \pi^2);$$

$$7) M_x = 0, M_y = 5\pi a^3/4.$$

2.100. Найти координаты x_c и y_c центра масс фигуры, ограниченной кривыми:

$$1) y^2 = x^3/a, x = a, y = 0, a > 0, y \geq 0;$$

$$2) y = \cos x, |x| \leq \pi/2, y = 1/2;$$

$$3) y^2 = 2px, x^2 = 2py;$$

$$4) x^{2/3} + y^{2/3} = a^{2/3}, x \geq 0, y \geq 0, x = 0, y = 0;$$

$$5) x = a(t - \sin t), y = a(1 - \cos t), 0 \leq t \leq 2\pi, y = 0;$$

$$6) \rho = a\varphi, 0 \leq \varphi \leq \pi, \varphi = 0, \varphi = \pi;$$

$$7) \rho^2 = a^2(\cos 2\varphi) \text{ (правая петля);}$$

$$8) \rho = a \sin 2\varphi, 0 \leq \varphi \leq \pi/2.$$

Отв.: 1) $x_c = 5a/7$, $y_c = 5a/16$; 2) $x_c = 0$, $y_c = \frac{2\pi + 3\sqrt{3}}{8(3\sqrt{3} - \pi)}$;

3) $x_c = y_c = 9\rho/10$; 4) $x_c = y_c = 256a/315\pi$; 5) $x_c = \pi a$,
 $y_c = 5a/6$; 6) $x_c = 10/21$, $y_c = 5/3$; 7) $x_c = \pi a\sqrt{2}/8$, $y_c = 0$;
 8) $x_c = 0$, $y_c = \pi/2$.

2.101. Найти момент инерции:

а) однородного круга радиусом R относительно его диаметра;

б) однородного треугольника с основанием a и высотой h относительно: 1) оси, содержащей его основание; 2) оси, проходящей через вершину параллельно основанию; 3) оси, проходящей через центр масс треугольника параллельно основанию.

Отв.: а) $\pi R^4/4$; б) 1. $ah^3/12$ 2. $ah^3/4$ 3. $ah^3/36$.

2.102. Найти моменты инерции I_x, I_y фигуры, ограниченной кривыми:

1) $y/h = x^2/a^2$; $y = h$; 2) $ay = 2ax$, $y = 0$.

Отв.: 1) $I_x = 2ah^3/7$, $I_y = 4a^3h/15$; 2) $I_x = 32a^4/105$,
 $I_y = 8a^4/5$.

3. Несобственные интегралы

3.1. Несобственные интегралы от неограниченных функций

Понятие несобственного интеграла 2-го рода (от неограниченных функций). Основные формулы для несобственных интегралов 2-го рода (линейность, формула Ньютона — Лейбница, замена переменной интегрирования, интегрирование неравенств). Признаки сходимости и расходимости для неотрицательных функций (признаки сравнения). Абсолютная и условная сходимость несобственных интегралов 2-го рода. Признаки Дирихле и Абеля. Главное значение несобственного интеграла 2-го рода.

Пусть функция $f(x)$ определена на промежутке $[a, b)$ и неограничена при $x \rightarrow b - 0$, т.е. $\lim_{x \rightarrow b-0} f(x) = \infty$. Точка b при этом называется *особой* для функции $f(x)$. Будем считать, что $\forall \varepsilon > 0$ на отрезке функция $f(x)$ интегрируема, т.е. существует интеграл $\int_a^{b-\varepsilon} f(x) dx$.

Если существует

$$\lim_{\varepsilon \rightarrow +0} \int_a^{b-\varepsilon} f(x) dx, \quad (3.1)$$

этот предел называется *несобственным интегралом от функции $f(x)$ на отрезке $[a, b]$* , или *несобственным интегралом 2-го рода* и обозначается

$$\int_a^b f(x) dx = \lim_{\varepsilon \rightarrow +0} \int_a^{b-\varepsilon} f(x) dx. \quad (3.2)$$

Аналогично, если функция $f(x)$ имеет особенность в точке $x=a$, то по определению

$$\int_a^b f(x) dx = \lim_{\varepsilon \rightarrow +0} \int_{a+\varepsilon}^b f(x) dx. \quad (3.3)$$

Если же особой точкой функции $f(x)$ является точка c , $a < c < b$, то по определению

$$\int_a^b f(x) dx = \lim_{\varepsilon', \varepsilon'' \rightarrow 0} \left(\int_a^{c-\varepsilon'} f(x) dx + \int_{c+\varepsilon''}^b f(x) dx \right). \quad (3.4)$$

Несобственный интеграл второго рода называется *сходящимся* (сх.), если существует конечный предел (3.2), или (3.3), или (3.4). В противном случае интеграл называется *расходящимся* (расх.).

Для непрерывной неотрицательной функции $y=f(x)$, $x \in [a, b)$, сходящийся несобственный интеграл (3.1) равен площади неограниченной криволинейной трапеции D (рис. 3.1).

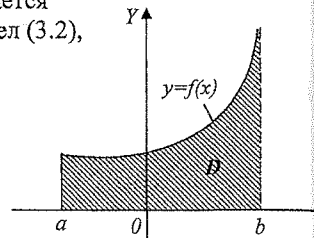


Рис. 3.1

Аналогично трактуются сходящиеся несобственные интегралы (3.3) и (3.4) [1].

3.1. Вычислить интегралы (или установить их расходимость):

$$\text{а) } \int_1^e \frac{dx}{x^3 \sqrt{\ln x}}; \quad \text{б) } \int_0^{\pi/2} \frac{dx}{\cos x}; \quad \text{в) } \int_0^2 \frac{dx}{\sqrt{|1-x^2|}};$$

Δ а) Подынтегральная функция $f(x) = 1/(x^3 \sqrt{\ln x})$ неограниченна в окрестности точки $x=1$. На любом же отрезке $[1+\varepsilon, e]$ она интегрируема, так как является непрерывной функцией. Поэтому по определению (3.3) имеем

$$\int_1^e \frac{dx}{x^3 \sqrt{\ln x}} = \lim_{\varepsilon \rightarrow +0} \int_{1+\varepsilon}^e \frac{dx}{x^3 \sqrt{\ln x}} = \lim_{\varepsilon \rightarrow +0} \left(\frac{3}{2} \sqrt[3]{\ln^2 x} \right) \Big|_{1+\varepsilon}^e = \lim_{\varepsilon \rightarrow +0} \left(\frac{3}{2} - \frac{3}{2} \sqrt[3]{\ln^2(1+\varepsilon)} \right) = \frac{3}{2}.$$

б) Подынтегральная функция $f(x) = 1/\cos x$ неограниченна в окрестности точки $x = \pi/2$ и интегрируема на любом отрезке $[0, \pi/2 - \varepsilon]$. По определению (3.2) имеем

$$\int_0^{\pi/2} \frac{dx}{\cos x} = \lim_{\varepsilon \rightarrow +0} \int_0^{\pi/2-\varepsilon} \frac{dx}{\cos x} = \lim_{\varepsilon \rightarrow +0} \left(\operatorname{Intg} \left(\frac{x}{2} + \frac{\pi}{4} \right) \right) \Big|_0^{\pi/2-\varepsilon} = \lim_{\varepsilon \rightarrow +0} \operatorname{Intg} \left(\frac{\pi - \varepsilon}{2} \right) = \infty.$$

Следовательно, данный интеграл расходится.

в) Подынтегральная функция $f(x) = 1/\sqrt{|1-x^2|}$ неограниченна в окрестности точки $x=1$, являющейся внутренней точкой промежутка интегрирования. Поэтому

$$\int_0^2 \frac{dx}{\sqrt{|1-x^2|}} = \int_0^1 \frac{dx}{\sqrt{|1-x^2|}} + \int_1^2 \frac{dx}{\sqrt{|1-x^2|}}.$$

Вычислим каждое слагаемое в отдельности.

Если $0 \leq x < 1$, то

$$\int_0^1 \frac{dx}{\sqrt{|1-x^2|}} = \lim_{\varepsilon \rightarrow +0} \int_0^{1-\varepsilon} \frac{dx}{\sqrt{1-x^2}} = \lim_{\varepsilon \rightarrow +0} \arcsin x \Big|_0^{1-\varepsilon} = \lim_{\varepsilon \rightarrow +0} (\arcsin(1-\varepsilon) - 0) = \pi/2.$$

Если $1 < x \leq 2$, то

$$\int_1^2 \frac{dx}{\sqrt{|1-x^2|}} = \int_1^2 \frac{dx}{\sqrt{x^2-1}} = \lim_{\varepsilon \rightarrow +0} \int_{1+\varepsilon}^2 \frac{dx}{\sqrt{x^2-1}} = \lim_{\varepsilon \rightarrow +0} \ln(x + \sqrt{x^2-1}) \Big|_{1+\varepsilon}^2 = \\ = \lim_{\varepsilon \rightarrow +0} [\ln(2 + \sqrt{3}) - \ln(1 + \varepsilon + \sqrt{(1+\varepsilon)^2 + 1})] = \ln(2 + \sqrt{3}).$$

Следовательно,
$$\int_0^2 \frac{dx}{\sqrt{|1-x^2|}} = \frac{\pi}{2} + \ln(2 + \sqrt{3}). \blacktriangle$$

3.2. В [1] установлено, что интеграл $\int_0^1 \frac{dx}{x^\alpha}$ сходится при $\alpha < 1$ и расходится при $\alpha \geq 1$.

3.3. Вычислить интегралы и установить их расходимость:

1) $\int_1^3 \frac{dx}{\sqrt{4x-x^2-3}}$; 2) $\int_0^1 \frac{x^3 + \sqrt[3]{x} - 2}{\sqrt[5]{x^3}} dx$; 3) $\int_0^1 \frac{dx}{1-x^3}$;

4) $\int_0^{3a} \frac{2x dx}{(x^2 - a^2)^{2/3}}$; 5) $\int_0^{2/\pi} \sin \frac{1}{x} \cdot \frac{dx}{x^2}$; 6) $\int_0^1 \ln x dx$;

7) $\int_{-1}^1 \frac{\arccos x}{\sqrt{1-x^2}}$; 8) $\int_0^{\pi/4} \frac{\sin x + \cos x}{\sqrt[3]{\sin x - \cos x}} dx$; 9) $\int_{-1}^1 e^{1/x} \frac{dx}{x^3}$;

10) $\int_0^\pi \frac{|\cos x|}{\sqrt{\sin x}} dx$; 11) $\int_0^2 \sqrt{\frac{2+x}{2-x}} dx$.

Отв.: 1) π ; 2) $-625/187$; 3) расх.; 4) $9a^{2/3}$; 5) расх.; 6) -1 ; 7) $\pi^2/2$; 8) $-3/2$; 9) расх.; 10) 4 ; 11) $\pi + 2$.

Для несобственных интегралов второго рода справедливы следующие основные свойства:

1°. *Линейность*. Если несобственные интегралы $\int_a^b f(x) dx$, $\int_a^b g(x) dx$ сходятся, то $\forall \alpha, \beta \in \mathbb{R}$ сходится интеграл $\int_a^b (\alpha f(x) + \beta g(x)) dx$, причем

$$\int_a^b (\alpha f(x) + \beta g(x)) dx = \alpha \int_a^b f(x) dx + \beta \int_a^b g(x) dx. \quad (3.5)$$

2°. *Формула Ньютона-Лейбница*. Если функция $f(x)$, $x \in [a, b]$ непрерывна и $F(x)$ какая-либо её первообразная, то

$$\int_a^b f(x) dx = F(x) \Big|_a^b - 0 = F(b-0) - F(a), \quad (3.6)$$

где $F(b-0) = \lim_{b \rightarrow b-0} F(x)$.

3°. *Формула замены переменной*. Пусть $f(x)$, $x \in [a, b]$, непрерывная, $\varphi(t)$, $t \in [\alpha, \beta]$, непрерывно дифференцируемая функция, причем $a = \varphi(\alpha) \leq \varphi(t) < \lim_{t \rightarrow \beta-0} \varphi(t) = b$, тогда

$$\int_a^b f(x) dx = \int_a^b f(\varphi(t)) \varphi'(t) dt. \quad (3.7)$$

Формула (3.7) справедлива в случае сходимости по крайней мере одного из входящих в нее интегралов. В случае расходимости одного из интегралов расходится и другой.

4°. *Формула интегрирования по частям*. Если $u(x)$, $v(x)$, $x \in [a, b]$ — непрерывно дифференцируемые функции и существует $\lim_{x \rightarrow b-0} (uv)$, то

$$\int_a^b u dv = uv \Big|_a^b - \int_a^b v du, \quad (3.8)$$

где $uv \Big|_a^b = \lim_{x \rightarrow b-0} (uv) - u(a)v(a)$.

Формула (3.8) справедлива в случае сходимости по крайней мере одного из входящих в неё интегралов. Если один из интегралов расходится, то расходится и другой.

3.4. Вычислить интегралы:

$$1) \int_0^1 \frac{(\sqrt{x} + 1)^2}{\sqrt{x}} dx; \quad 2) \int_0^1 \frac{dx}{(2-x)\sqrt{1-x}}; \quad 3) \int_0^1 \frac{\ln x}{\sqrt{x}} dx.$$

Δ 1) Используя свойство 1° линейности несобственного интеграла, имеем

$$\int_0^1 \frac{(\sqrt[6]{x} + 1)^2}{\sqrt{x}} dx = \int_0^1 \frac{dx}{\sqrt[6]{x}} + 2 \int_0^1 \frac{dx}{\sqrt[3]{x}} + \int_0^1 \frac{dx}{\sqrt{x}}.$$

На промежутке $(0, 1]$ первообразными являются функции $\frac{6}{5}\sqrt[5]{x^5}$, $\frac{3}{2}\sqrt[3]{x^2}$,

Тогда по формуле Ньютона—Лейбница получаем

$$\int_0^1 \frac{dx}{\sqrt[6]{x}} = \frac{6}{5} \sqrt[5]{x^5} \Big|_0^1 = \frac{6}{5}; \quad \int_0^1 \frac{dx}{\sqrt[3]{x}} = \frac{3}{2} \sqrt[3]{x^2} \Big|_0^1 = \frac{3}{2}; \quad \int_0^1 \frac{dx}{\sqrt{x}} = 2\sqrt{x} \Big|_0^1 = 2.$$

Значит,
$$\int_0^1 \frac{(\sqrt[6]{x} + 1)^2}{\sqrt{x}} dx = \frac{6}{5} + 3 + 2 = \frac{31}{5}.$$

2) В данном несобственном интеграле введем замену переменной:

$$1 - x = t^2, \quad t > 0 \Rightarrow x = 1 - t^2, \quad dx = -2tdt.$$

Новые пределы интегрирования $\alpha = 1$, $\beta = 0$. Значит,

$$\int_0^1 \frac{dx}{(\alpha - x)\sqrt{1 - x}} = -2 \int_1^0 \frac{tdt}{t(t^2 + 1)} = \pi/2.$$

3) Интегрируем по частям:

$$u = \ln x, \quad du = dx/x, \\ dv = dx/\sqrt{x}, \quad v = 2\sqrt{x},$$

Значит,

$$\int_0^1 \frac{\ln x}{\sqrt{x}} dx = 2\sqrt{x} \ln x \Big|_0^1 - 2 \int_0^1 \frac{dx}{\sqrt{x}} = -2 \lim_{x \rightarrow 0} \sqrt{x} \ln x - 4\sqrt{x} \Big|_0^1 = -4. \blacktriangle$$

3.5. Вычислить интегралы:

1)*
$$\int_a^b \frac{dx}{\sqrt{(x-a)(b-x)}} \quad (\text{ввести замену } x = a \cos^2 t + b \sin^2 t, \quad t \in (0, \pi/2));$$

2)*
$$I = \int_0^{\pi/2} \ln \sin x dx \quad (\text{проинтегрировать по частям и в последующем ввести}$$

ены $x = 2t, \quad t = \pi/2 - u$);

3)
$$\int_{-0.5}^{-0.25} \frac{dx}{x\sqrt{2x+1}};$$
 4)
$$\int_1^2 \frac{dx}{x\sqrt{3x^2-2x-1}};$$
 5)
$$\int_{-1}^1 \frac{dx}{(16-x^2)\sqrt{1-x^2}};$$

6)
$$\int_{-a}^a \frac{dx}{a^2 + b^2 - 2bx}, \quad a > 0, b \geq 0;$$
 7)
$$\int_a^b x \sqrt{\frac{x-a}{b-x}} dx;$$
 8)
$$\int_0^{\pi/2} \sqrt{tgx} dx;$$

9)
$$\int_{-1}^1 \frac{dx}{\sqrt{1-x^2} \arccos x};$$
 10)
$$\int_{-1}^1 x^3 \ln \frac{1+x}{1-x} \cdot \frac{dx}{\sqrt{1-x^2}};$$

Отв.: 1) π ; 2) $-\frac{\pi}{2} \ln 2$; 3) $2 \ln(\sqrt{2}-1)$; 4) $\frac{\pi}{2} - \arcsin(3/4)$; 5) $\pi / (4\sqrt{15})$;

6) 2, если $b \leq 2a$; $(2a)b$, если $b > a$; 7) $\frac{\pi}{8}(b-a)(a+3b)$; 8) $\pi / \sqrt{2}$; 9) $2\sqrt{\pi}$.

3.6. Вычислить площади криволинейных трапеций, образованных графиками функций:

1) $y = 1/\sqrt{2-5x}$, $x \in [0, 2/5]$; 2) $y = x/\sqrt{(x-a)(b-x)}$,
 $x \in (a, b)$;

3) $y = 1/(x\sqrt{\ln x})$, $x \in (1, e)$; 4) $y = \frac{\arcsin \sqrt{x}}{\sqrt{1-x}}$, $x \in [0, 1]$.

Отв.: 1) $2\sqrt{2}/5$; 2) $\pi(a+b)/2$; 3) 2; 4) 2.

3.7.* Найти площадь фигуры, ограниченной заданной кривой и её асимптотой:

1) $1xy^2 = 8 - 4x$; 2) $(x+1)y^2 = x, x < 0$;

3) $(4-x)y^2 = x^3$; 4) $x = \cos 2t, y = \cos 2t \operatorname{tg} x, t \in [\pi/4, 3\pi/4]$.

Отв.: 1) 4π ; 2) $8/3$; 3) 12π ; 4) $2 + \pi/2$.

Пусть функции $f(x)$ и $g(x)$ неотрицательны на $[a, b]$ и интегрируемы на каждом отрезке $[a, \xi]$, $\xi < b$. Тогда:

I. Если функции f и g на $[a, b]$ удовлетворяют неравенству $f \leq g$, то:

а) из сходимости интеграла $\int_a^b g(x) dx$ следует сходимость интеграла $\int_a^b f(x) dx$;

б) из расходимости интеграла $\int_a^b f(x) dx$ следует расходимость интеграла $\int_a^b g(x) dx$.

Сформулированный признак называется *признаком сравнения*.

II. а) Если $g > 0$ на $[a, b]$ и существует $\lim_{x \rightarrow b-0} \frac{f(x)}{g(x)} = k, k \neq 0$, то интегралы $\int_a^b f(x) dx$ и $\int_a^b g(x) dx$ сходятся или расходятся одновременно.

б) В частности, если f эквивалентна g при $x \rightarrow b-0$, то функции f и g одновременно либо интегрируемы, либо неинтегрируемы на $[a, b]$.

Признак II называется *предельным знаком сравнения*.

3.8. Исследовать на сходимость интегралы:

$$1) I_1 = \int_0^1 \frac{\cos^2(1/x)}{\sqrt{x}} dx; \quad 2) I_2 = \int_0^1 \frac{dx}{1-x^3} dx;$$

$$3) I_3 = \int_0^1 \frac{\ln(1 + \sqrt[3]{x^2})}{\sqrt{x} \sin \sqrt{x}} dx.$$

Δ 1) На (0,1) справедливо неравенство $0 \leq \frac{\cos^2(1/x)}{\sqrt{x}} \leq \frac{1}{\sqrt{x}}$.

Интеграл же $\int_0^1 \frac{dx}{\sqrt{x}}$ сходится (см. пример 3.2). Тогда по признаку сравне-

ния сходится и интеграл I_1 .

2) В левой окрестности точки $x=1$ функция $f(x) = 1/(1-x^3)$ неограниченна. В качестве функции сравнения возьмем функцию $g(x) = 1/(1-x)$. Так как $\lim_{x \rightarrow 1-0} \frac{f(x)}{g(x)} = \lim_{x \rightarrow 1-0} \frac{1-x}{1-x^3} = \lim_{x \rightarrow 1} \frac{1}{1+x+x^2} = \frac{1}{3}$, то из

расходимости интеграла $\int_0^1 \frac{dx}{1-x}$ (см. пример 3.2) по признаку сравнения II, а следует расходимость и интеграла I_2 .

3) Подынтегральная функция неограниченна при $x \rightarrow +0$. При $x \rightarrow +0$ рассмотрим

$$\frac{\ln(1 + \sqrt[3]{x^2})}{\sqrt{x} \sin \sqrt{x}} \sim \frac{\sqrt[3]{x^2}}{x} = \frac{1}{\sqrt[3]{x^2}}.$$

Но интеграл $\int_0^1 \frac{dx}{\sqrt[3]{x^2}}$ сходится. Тогда по признаку сравнения II, б сходится

интеграл I_3 . ▲

3.9. Исследовать на сходимость интегралы:

$$1) \int_0^8 \frac{dx}{x^2 + \sqrt[3]{x}}; \quad 2) \int_0^1 \frac{dx}{\sqrt[5]{1-x^{10}}}; \quad 3) \int_0^\pi \frac{\sin x}{x^2} dx;$$

$$4) \int_0^\pi \sin\left(\frac{1}{\cos x}\right) \frac{dx}{\sqrt{x}}; \quad 5) \int_{-\pi/4}^{\pi/4} \sqrt{\frac{\cos x - \sin x}{\cos x + \sin x}} dx;$$

$$6) \int_1^3 \frac{dx}{\sqrt{tg(x^3 - 7x^2 + 15x - 9)}};$$

$$7) \int_0^1 \frac{dx}{\sqrt[3]{x(e^x - e^{-x})}}; \quad 8) \int_0^\pi \frac{shx dx}{e^{x^2} - \cos x}; \quad 9) \int_0^1 \frac{\ln x dx}{\sqrt{x(1-x)^3}}.$$

Отв.: 1) Cx .; 2) cx .; 3) cx .; 4) δacx .; 5) cx .; 6) $dasx$.; 7) cx .; 8) δacx .;
9) $\tilde{f}x$.

3.10. Найти все значения параметра α , при которых сходится интеграл:

$$1) \int_0^{\pi} \frac{1 - \cos x}{x^{\alpha}} dx; \quad 2) \int_0^1 \frac{6e^{2x^2} + 24\cos x - 13x^4 - 30}{\sin^{\alpha} x} dx;$$

$$3) \int_0^1 \frac{e^{\alpha x} - \sqrt{1+1}}{chx - \cos x} dx; \quad 4) \int_0^{\pi/2} \frac{\cos^2 2x - e^{-4x^2}}{x^{\alpha} tgx} dx.$$

Отв.: 1) $\alpha < 3$; 2) $\alpha < 7$; 3) $\alpha = 1/2$; 4) $\alpha < 4$.

3.11.* При каких α и β сходятся интегралы:

$$1) \int_0^1 x^{\alpha} (1-x)^{\beta} dx; \quad 2) \int_0^1 x^{\alpha} \ln^{\beta} \frac{1}{x} dx; \quad 3) \int_0^1 \frac{\ln^{\alpha} (1/x)}{tg^{\beta} x} dx.$$

Отв.: 1) $\alpha > -1, \beta > -1$; 2) $\alpha > -1, \beta > -1$; 3) $\beta < 1, \alpha$ — любое число.

Несобственный интеграл $\int_a^b f(x) dx$ называется *абсолютно сходящимся* (абс.сх.), если сходится интеграл $\int_a^b |f(x)| dx$, и *условно сходящимся* (усл.сх.), ес-

ли интеграл $\int_a^b f(x) dx$ сходится, а интеграл $\int_a^b |f(x)| dx$ расходится.

Пусть функция $y = f(x)g(x)$ определена на $[a, b)$ и неограниченна в левой полукрестности точки $x = b$. Тогда справедливы следующие достаточные условия сходимости.

Признак Дирихле. Интеграл $I = \int_a^b f(x)g(x) dx$ сходится, если:

1) функция $f(x)$ непрерывна и имеет ограниченную первообразную на $[a, b)$;

2) функция $g(x)$ непрерывна и монотонна на $[a, b)$, причем $\lim_{x \rightarrow b-0} g(x) = 0$.

Признак Абеля. Интеграл I сходится, если:

1) функция $f(x)$ непрерывна на $[a, b)$ и интеграл $\int_a^b f(x) dx$ сходится;

2) функция $g(x)$ ограничена, непрерывно дифференцируема и монотонна на $[a, b)$

3.12. Доказать, что интеграл $I = \int_0^1 \frac{\sin(1/x) dx}{\sqrt{x}}$ сходится.

Δ Для $0 < x \leq 1$ выполняется неравенство

$$0 \leq \left| \frac{\sin(1/x)}{\sqrt{x}} \right| \leq \frac{1}{\sqrt{x}}.$$

Но интеграл $\int_0^1 \frac{dx}{\sqrt{x}}$ сходится, поэтому по признаку сравнения сходится и интеграл

$\int_0^1 \frac{\sin(1/x)}{\sqrt{x}} dx$, а, следовательно, сходится, и притом абсолютно, и интеграл I. ▲

3.13. Исследовать на абсолютную и условную сходимость интегралы:

$$1) \int_0^1 \frac{\sin(1/x) dx}{x^2 + \sqrt[3]{x^3} + x^2 \cos(1/x)}; \quad 2) \int_0^1 \frac{1}{x\sqrt{x}} \cos \frac{\sqrt{x}-1}{\sqrt{x}} dx;$$

$$3) \int_0^1 (1 - e^{\sqrt[3]{x^2} \cos(1/x)}) \frac{dx}{x^2}; \quad 4) \int_0^{1/2} \frac{\cos^3 x \ln x}{x \ln x} dx.$$

Отв.: 1) усл. сх.; 2) расх.; 3) усл. сх.; 4) усл. сх.

Пусть функция $f(x)$ интегрируема на промежутках $(a, c - \varepsilon]$ и $[c + \varepsilon, b)$, $\varepsilon > 0$, и неограниченна в окрестности точки $x = c \in (a, b)$.

Главным значением несобственного интеграла (или значением в смысле Коши) интеграла $\int_a^b f(x) dx$ (обозначается $V. p. \int_a^b f(x) dx$) называется следующий предел:

$$V. p. \int_a^b f(x) dx = \lim_{\varepsilon \rightarrow +0} \left(\int_a^{c-\varepsilon} f(x) dx + \int_{c+\varepsilon}^b f(x) dx \right).$$

Из существования интеграла в смысле главного значения следует еще, что соответствующий интеграл существует.

Например,

$$V. p. \int_{-1}^1 \frac{dx}{x} = \lim_{\varepsilon \rightarrow +0} \left(\int_{-1}^{-\varepsilon} \frac{dx}{x} + \int_{\varepsilon}^1 \frac{dx}{x} \right) = \lim_{\varepsilon \rightarrow +0} \left(\ln|x| \Big|_{-1}^{-\varepsilon} + \ln|x| \Big|_{\varepsilon}^1 \right) = 0,$$

сам интеграл $\int_{-1}^1 \frac{dx}{x}$ не существует. Если же существует несобственный инте-

грал $\int_a^b f(x) dx$, то существует и интеграл в смысле главного значения и эти ин-

тегралы равны.

3.14. Найти интегралы в смысле Коши:

$$1) \int_1^{10} \frac{dx}{7-x}; \quad 2) \int_{-1}^7 \frac{dx}{(x-1)^3}; \quad 3) \int_a^b \frac{dx}{(x-c)^n}, \quad c \in (a, b); \quad n \in \mathbb{N};$$

$$4) \int_{1/2}^4 \frac{dx}{x \ln x}; \quad 5) \int_0^{\pi} x \operatorname{tg} x \, dx;$$

$$6) \int_0^{\pi/2} \frac{dx}{3-5 \sin x}.$$

Отв.: 1) $\ln 2$; 2) $1/9$; 3) если $n=1$, то $\ln \frac{b-c}{c-a}$; если $n=2k+1$, $k \in \mathbb{N}$, то $\frac{1}{n-1} \left((a-c)^{1-n} (b-c)^{1-n} \right)$; если $n=2k$, то интеграл в смысле Коши не существует; 4) $\ln 2$; 5) $-\pi \ln 2$; 6) $-(\ln 2)/4$.

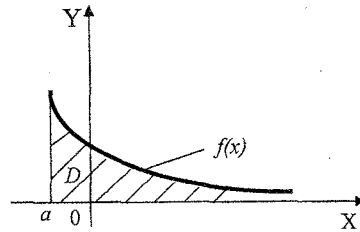


Рис. 3.2

3.15. При каких α существует $V.p. \int_0^2 \frac{x^\alpha dx}{1-x}$? **Отв.:** $\alpha > 1$.

3.2. Несобственные интегралы с бесконечными пределами интегрирования (1-го рода)

Определение несобственного интеграла 1-го рода. Основные свойства. Признаки сходимости и расходимости интегралов от неотрицательных функций (признаки сравнения). Абсолютная и условная сходимости. Признаки Дирихле и Абеля. Главное значение несобственного интеграла 1-го рода.

Если функция $f(x)$ непрерывна при $a \leq x < +\infty$, то по определению *несобственным интегралом 1-го рода* называется предел

$$\int_a^{\infty} f(x) dx = \lim_{b \rightarrow +\infty} \int_a^b f(x) dx. \quad (3.9)$$

Если этот предел существует и конечен, то несобственный интеграл $\int_a^{\infty} f(x) dx$ называется *сходящимся*, в противном случае – *расходящимся*. При этом говорят (в случае сходимости), что функция $f(x)$ *интегрируема в несобственном смысле* на $[a, +\infty)$.

Для непрерывной неотрицательной функции $y = f(x)$, $x \in [a, +\infty)$, сходящейся несобственный интеграл $\int_a^{+\infty} f(x) dx$ равен площади неограниченной криволинейной трапеции D (рис.3.2):

$$D = \{(x, y) | a < x < +\infty, 0 < y < f(x)\}.$$

Аналогично определяется интеграл $\int_{-\infty}^b f(x) dx$. Далее, по определению

$$\int_{-\infty}^{+\infty} f(x) dx = \int_{-\infty}^c f(x) dx + \int_c^{+\infty} f(x) dx, \quad (3.10)$$

где c — некоторое число.

Если для функции $f(x)$, $x \in [a, +\infty)$, при некотором $c > a$ существуют интегралы $\int_a^c f(x) dx$ и $\int_c^{+\infty} f(x) dx$, то

$$\int_a^{+\infty} f(x) dx = \int_a^c f(x) dx + \int_c^{+\infty} f(x) dx. \quad (3.11)$$

Если хотя бы один из интегралов в правой части этого равенства не существует, $\int_a^{+\infty} f(x) dx$ является расходящимся.

3.16. Вычислить интегралы или установить их расходимость:

$$1) I_1 = \int_0^{+\infty} \cos 2x dx; \quad 2) I_2 = \int_{-\infty}^{+\infty} \frac{dx}{x^2 + 2x + 5}.$$

Δ 1) Имеем

$$\int_0^{+\infty} \cos 2x dx = \lim_{b \rightarrow +\infty} \int_0^b \cos 2x dx = \lim_{b \rightarrow +\infty} \frac{\sin 2b}{2}. \text{ Но этот предел, как известно,}$$

не существует. Поэтому интеграл I_1 расходящийся.

2) По определению (3.11.)

$$I_2 = \lim_{a \rightarrow -\infty} \int_a^0 \frac{dx}{x^2 + 2x + 5} + \lim_{b \rightarrow +\infty} \int_0^b \frac{dx}{x^2 + 2x + 5}$$

(вместо точки $x = 0$ в качестве промежуточного предела интегрирования можно взять любую другую конечную точку оси X). Каждый из пределов, стоящих в правой части последнего равенства, вычислим по отдельности:

$$\lim_{a \rightarrow -\infty} \int_a^0 \frac{dx}{x^2 + 2x + 5} = \lim_{a \rightarrow -\infty} \frac{1}{2} \operatorname{arctg} \frac{x+1}{2} \Big|_a^0 = \frac{1}{2} \operatorname{arctg} \frac{1}{2} + \frac{\pi}{4},$$

$$\lim_{b \rightarrow +\infty} \int_0^b \frac{dx}{x^2 + 2x + 5} = \lim_{b \rightarrow +\infty} \frac{1}{2} \operatorname{arctg} \frac{x+1}{2} \Big|_0^b = \frac{\pi}{4} - \frac{1}{2} \operatorname{arctg} \frac{1}{2}.$$

Следовательно, $I_2 = \pi/2$. \blacktriangle

3.17. Вычислить интегралы или установить их расходимость:

$$1) \int_2^{+\infty} \frac{xdx}{\sqrt{(x^2-3)^3}}; \quad 2) \int_1^{+\infty} \frac{dx}{x+x^3}; \quad 3) \int_{-\infty}^{+\infty} \frac{dx}{x^2-6x+10};$$

$$4) \int_{-\infty}^0 \frac{dx}{x+1}; \quad 5) \int_{-\infty}^0 \frac{x+1}{x^2+1} dx; \quad 6) \int_{-\infty}^{+\infty} \frac{dx}{2x^2-5x+7}.$$

Отв.: 1) 1; 2) $\frac{1}{2} \ln 2$; 3) π ; 4) расх.; 5) расх.; 6) $2\pi / \sqrt{31}$.

3.18. Вычислить площади криволинейных трапеций, образованных графиками функций:

1) $y = xe^{-x^2/2}, x \in [0, +\infty)$;

2) $y = \sqrt{x}/(x+1)^2, x \in [1, +\infty)$;

3) $y = \frac{x+1}{(x^2+4x+5)^2}, x \in [-1, +\infty)$.

Отв.: 1) 1; 2) $\pi/4 + 1/2$; 3) $1/2 - \pi/8$.

Сформулируем свойства несобственного интеграла 1-го рода.

1°. *Линейность.* Если интегралы

$$\int_a^{+\infty} f(x) dx, \quad \int_a^{+\infty} g(x) dx$$

сходятся, то $\forall \alpha, \beta \in \mathbf{R}$ сходится интеграл

$$\int_a^{+\infty} (\alpha f(x) + \beta g(x)) dx = \alpha \int_a^{+\infty} f(x) dx + \beta \int_a^{+\infty} g(x) dx.$$

2°. *Формула Ньютона—Лейбница.* Если функция $f(x), x \in [a, +\infty)$, непрерывна и $F(x)$ — какая-либо её первообразная, то

$$\int_a^{+\infty} f(x) dx = F(x) \Big|_a^{+\infty} = F(+\infty) - F(a), \quad (3.12)$$

где $F(+\infty) = \lim_{x \rightarrow +\infty} F(x)$.

3°. *Формула замены переменной.* Пусть $f(x), x \in [a, +\infty)$, — непрерывная, $\varphi(t), t \in [a, \beta)$ — непрерывно дифференцируемые функции, причем

$$a = \varphi(\alpha) \leq \varphi(t) < \lim_{t \rightarrow \beta-0} \varphi(t) = +\infty,$$

тогда

$$\int_a^{+\infty} f(x) dx = \int_\alpha^\beta f(\varphi(t)) \varphi'(t) dt. \quad (3.13)$$

4°. *Формула интегрирования по частям.* Если $u(x), v(x), x \in [a, +\infty)$ — непрерывно дифференцируемые функции и $\lim_{x \rightarrow +\infty} (u, v)$ существует, то

$$\int_a^{+\infty} u dv = uv \Big|_a^{+\infty} - \int_a^{+\infty} v du, \quad (3.14)$$

где $uv \Big|_a^{+\infty} = \lim_{x \rightarrow +\infty} (uv) - u(a)v(a)$.

Формула (3.14) справедлива в случае сходимости по крайней мере одного из двух входящих в нее интегралов. В случае расходимости одного из интегралов расходится и другой.

5°. *Интегрирование неравенств.* Если функции $f(x)$ и $g(x)$, $x \in [a, +\infty)$ удовлетворяют неравенству $f(x) \leq g(x)$, то для интегралов

$\int_a^{+\infty} f(x)dx$, $\int_a^{+\infty} g(x)dx$, при условии их сходимости, верно неравенство

$$\int_a^{+\infty} f(x)dx \leq \int_a^{+\infty} g(x)dx.$$

3.19. Вычислить интегралы:

$$1) I_1 = \int_{\sqrt{2}/2}^1 \frac{\sqrt{1-x^2}}{x^2} dx; \quad 2) I_2 = \int_1^e \ln x dx.$$

Δ 1) Введем подстановку

$$x = \sin t \Rightarrow dx = \cos t dt, \quad t = \arcsin x, \quad t_1 = \arcsin \frac{\sqrt{2}}{2} = \frac{\pi}{4}, \quad t_2 = \arcsin 1 = \pi/2.$$

значит,

$$I_1 = \int_{\pi/4}^{\pi/2} \frac{\sqrt{1-\sin^2 t}}{\sin^2 t} dt = (-ctg t - t) \Big|_{\pi/4}^{\pi/2} = -\frac{\pi}{2} + 1 + \frac{\pi}{4} = 1 - \pi/4.$$

2) Интегрируем по частям:

$$I_2 = \int_1^e \ln x dx = \left| \begin{matrix} u = \ln x, & du = (dx/x) \\ dv = dx, & v = x \end{matrix} \right| = x \ln x \Big|_1^e - \int_x^e \frac{dx}{x} = e - x \Big|_1^e = 1. \blacktriangle$$

3.20. Вычислить площадь S криволинейной трапеции, ограниченной графиком функции $y = 1/\sqrt{1+e^x}$ и положительными лучами осей координат.

Δ Имеем

$$S = \int_0^{+\infty} y dx = \int_0^{+\infty} \frac{dx}{\sqrt{1+e^x}}.$$

Введем подстановку $1+e^x = t^2$, $t > 0$, тогда

$$dx = \frac{2t dt}{t^2-1}, \quad \frac{dx}{\sqrt{1+e^x}} = \frac{2 dt}{t^2-1},$$

кроме того, когда $x \in [0, +\infty)$, то $t \in [\sqrt{2}, +\infty)$. Поэтому

$$S = \int_{\sqrt{2}}^{+\infty} \frac{2 dt}{t^2-1} = \left(\ln \frac{t-1}{t+1} \right) \Big|_{\sqrt{2}}^{+\infty} = \ln \frac{\sqrt{2}+1}{\sqrt{2}-1} = 2 \ln(1+\sqrt{2}). \blacktriangle$$

3.21. Доказать неравенство

$$0 < \int_2^{+\infty} \frac{\sqrt{x^3-x^2+3}}{x^5+x^3+1} dx < \frac{1}{10\sqrt{2}}.$$

Δ При $x \in [2, +\infty)$ верны неравенства

$$0 < \frac{\sqrt{x^3 - x^2 + 3}}{x^5 + x^3 + 1} < \frac{\sqrt{x^3}}{x^5} = x^{-7/2},$$

поэтому

$$0 < \int_2^{+\infty} \frac{\sqrt{x^3 - x^2 + 3}}{x^5 + x^3 + 1} dx < \int_2^{+\infty} x^{-7/2} dx.$$

$$\text{Но } \int_2^{+\infty} x^{-7/2} dx = -\frac{2}{5} x^{-5/2} \Big|_2^{+\infty} = \frac{2}{5} \cdot 2^{-5/2} = \frac{1}{10\sqrt{2}}. \blacktriangle$$

3.22. Применяя формулу замены переменной или интегрирования по частям, вычислить интегралы:

$$1) \int_{-\infty}^{-2} \frac{dx}{x\sqrt{x^2-1}}; \quad 2) \int_0^{+\infty} \frac{dx}{e^x + \sqrt{e^x}}; \quad 3) \int_0^{+\infty} \frac{dx}{(x^2+9)\sqrt{x^2+9}};$$

$$4) \int_1^{+\infty} \frac{xe^{\arctg x}}{(1+x^2)\sqrt{1+x^2}} dx; \quad 5) \int_0^{+\infty} \frac{dx}{x\sqrt{x^2+x-1}}; \quad 6) \int_0^{+\infty} \frac{dx}{(4x^2+1)\sqrt{x^2+1}};$$

$$7) \int_0^{+\infty} e^{-ax} \sin bx dx; \quad 8) \int_0^{+\infty} e^{-ax} \sin^2 bx dx; \quad 9) \int_0^{+\infty} \frac{\ln x}{1+x^2} dx;$$

$$10) \int_0^{+\infty} \frac{x \ln x}{(1+x^2)^2} dx; \quad 11) \int_1^{+\infty} \frac{(2-x)dx}{x^3 \sqrt{x^2-1}};$$

$$12^*) \int_0^{+\infty} \frac{dx}{(x^\alpha+1)(x^2+1)}, \quad \alpha \in \mathbb{R}.$$

Отв.: 1) $-\pi/6$; 2) $2(1 - \ln 2)$; 3) $1/9$; 4) $\frac{1}{2}e^{\pi/2}$; 5) $\arcsin(1/\sqrt{5})$;
6) $\pi\sqrt{3}/9$; 7) $b/(a^2 + b^2)$; 8) $2b^2(a(a^2 + 4b^2))$; 9) -11 ; 10) 0 ; 11) 0 ;
12) $\pi/4$.

3.23. Вычислить площади криволинейных трапеций, образованных графиками функций.

$$1) y = xe^{-x^2/2}, \quad x \in [0, +\infty).$$

Отв.: 1.

$$2) y = \sqrt{x}/(x+1)^2, \quad x \in [1, +\infty).$$

Отв.: $\frac{\pi}{4} + \frac{1}{2}$.

$$3) y = x^4 e^{-x}, \quad x \in [0, +\infty).$$

Отв.: 24.

$$4) y = \frac{x\sqrt{x}}{x^5+1}, \quad x \in [0, +\infty).$$

Отв.: $\pi/5$.

3.24. Доказать неравенства:

$$1) 0 < \int_{10}^{+\infty} \frac{x^2 dx}{x^4 + x + 1} < 0,1;$$

$$2) 0,25 < \int_1^{+\infty} \frac{x^6 + 1}{x^{11} + 1} dx < 0,35.$$

3.25*. Показать, что для интеграла

$$I_n = \int_0^{\pi/2} \sin^n x dx = \int_0^{\pi/2} \cos^n x dx, \quad n \in \mathbb{N},$$

верна рекуррентная формула $I_n = \frac{n-1}{n} I_{n-2}$. Вычислить I_7 и I_8 .

Отв.: $I_7 = 16/35$, $I_8 = 35\pi/256$.

Как и в случае несобственных интегралов от неограниченных функций, для несобственных интегралов с бесконечными пределами интегрирования для неотрицательных функций справедливы следующие признаки сходимости и расходимости (признаки сравнения).

1. Если f и g удовлетворяют на $[a, +\infty)$ неравенству $f \leq g$, то:

а) из сходимости интеграла $\int_a^{+\infty} g(x) dx$ следует сходимость интеграла

$$\int_a^{+\infty} f(x) dx;$$

б) из расходимости интеграла $\int_a^{+\infty} f(x) dx$ следует расходимость интеграла

$$\int_a^{+\infty} g(x) dx.$$

2. а) Если $g > 0$ на $[a, +\infty)$ и существует $\lim_{x \rightarrow +\infty} \frac{f(x)}{g(x)} = k \neq 0$, то интегралы

$$\int_a^{+\infty} f(x) dx \text{ и } \int_a^{+\infty} g(x) dx \text{ сходятся или расходятся одновременно.}$$

б) В частности, если $f \approx g$ при $x \rightarrow +\infty$, то $\int_a^{+\infty} f(x) dx$ и $\int_a^{+\infty} g(x) dx$ одно-

временно сходятся или расходятся.

На практике в качестве интеграла, с которым проводится сравнение, обычно используются интегралы вида (интегралы Дирихле)

$$\int_a^{+\infty} \frac{1}{x^\alpha} dx, \quad a > 0, \quad \alpha > 0,$$

сходящиеся при $\alpha > 1$ и расходящиеся при $\alpha \leq 1$.

3.26. Исследовать на сходимость данный интеграл:

$$1) \int_1^{\infty} \frac{\sin^2 3x}{\sqrt{x^4 + 1}} dx; \quad 2) \int_1^{\infty} \frac{dx}{\sqrt{4x + \ln x}}; \quad 3) \int_1^{\infty} \frac{xdx}{x^3 + \sin x}.$$

Δ 1) На $[1, +\infty)$ справедливо неравенство $0 \leq \frac{\sin^2 3x}{\sqrt[3]{x^4 + 1}} < \frac{1}{\sqrt[3]{x^4}}$, и, так как

$\int_1^{\infty} \frac{dx}{x^{4/3}}$ сходится ($\alpha = 4/3 > 1$), то по признаку сравнения сходится и данный интеграл.

2) Обозначим $f(x) = 1/\sqrt{4x + \ln x}$, в качестве функции сравнения возьмем $g(x) = 1/\sqrt{x}$. Так как $\lim_{x \rightarrow +\infty} \frac{f(x)}{g(x)} = \lim_{x \rightarrow +\infty} \frac{\sqrt{x}}{\sqrt{4x + \ln x}} = \frac{1}{2}$, то из расходимости

$\int_1^{\infty} \frac{dx}{\sqrt{x}}$ ($\alpha = 1/2 < 1$), по признаку сравнения следует расходимость данного интеграла.

3) Так как $x/(x^3 + \sin x) \approx 1/x^2$ при $x \rightarrow +\infty$ и $\int_1^{\infty} \frac{dx}{x^2}$ сходится

($\alpha = 2 > 1$), то, согласно признаку сравнения 2,6 данный интеграл сходится. ▲

3.27. Исследовать на сходимость интегралы:

$$1) \int_1^{+\infty} \frac{dx}{3+2x^2+5x^4}; \quad 2) \int_1^{+\infty} \frac{\sqrt{x^3+\sqrt{x^2+1}}}{x^3+3x+1} dx; \quad 3) \int_1^{+\infty} \frac{3x^2+\sqrt{(x+1)^3}}{2x^3+\sqrt[3]{x^5+1}} dx; \quad 4) \int_1^{+\infty} \frac{3+\sin x}{\sqrt[3]{x}} dx$$

$$5) \int_1^{+\infty} \frac{dx}{\sqrt{x(x+1)(x+2)}}; \quad 6) \int_1^{+\infty} \frac{\sin(1/x) dx}{2+x\sqrt{x}}; \quad 7) \int_1^{+\infty} \frac{dx}{\sqrt{x+\cos^2 x}}; \quad 8) \int_{e^2}^{+\infty} \frac{dx}{x \ln \ln x};$$

$$9) \int_1^{+\infty} \frac{x+\sqrt{x+1}}{x^2+2\sqrt[3]{x^4+1}} dx; \quad 10) \int_3^{+\infty} \frac{dx}{\sqrt{x(x-1)(x-2)}}.$$

Отв.: 1) сх.; 2) сх.; 3) расх.; 4) расх.; 5) сх.; 6) сх.; 7) расх.; 8) расх.; 9) расх.; 10) сх..

3.28. Найти все α , при которых сходятся интегралы:

$$1) \int_{-\infty}^0 e^{\alpha x} dx; \quad 2) \int_1^{+\infty} \frac{\ln x dx}{x^\alpha}; \quad 3) \int_1^{+\infty} \ln \left(1 + \frac{e^{1/x} - 1}{\alpha} \right) dx, \quad \alpha \neq 0;$$

$$4) \int_2^{+\infty} \frac{e^{\alpha x} dx}{(x-1)^\alpha \ln x}; \quad 5) \int_3^{+\infty} \frac{e^{-x} - \ln x}{(1+x^\alpha)^{\alpha-2}} dx.$$

Отв.: 1) $\alpha > 0$; 2) $\alpha > 1$; 3) Расх. $\forall \alpha$; 4) $\alpha < 0$; 5) $\alpha > \sqrt{2} + 1$.

Абсолютная и условная сходимости несобственных интегралов 1-го рода определяются аналогично соответствующим определениям, сделанным для несобственных интегралов от неограниченных функций.

3.29. Доказать, что интегралы Френеля

$$\int_0^{+\infty} \sin(x^2) dx, \quad \int_0^{+\infty} \cos(x^2) dx.$$

сходятся.

Δ Докажем сходимость первого из интегралов Френеля (доказательство сходимости второго производится аналогично).

Введем замену $x = \sqrt{t}$. Тогда

$$\int_0^{+\infty} \sin(x^2) dx = \frac{1}{2} \int_0^{+\infty} \frac{\sin t}{\sqrt{t}} dt.$$

Интеграл справа представим в виде

$$\int_0^{+\infty} \frac{\sin t}{\sqrt{t}} dt = \int_0^{\pi/2} \frac{\sin t}{\sqrt{t}} dt + \int_{\pi/2}^{+\infty} \frac{\sin t}{\sqrt{t}} dt.$$

Первое слагаемое справа есть собственный интеграл, так как $\lim_{t \rightarrow +0} \sin t / \sqrt{t} = 0$.

Ко второму слагаемому применим интегрирование по частям, положив

$$u = 1/t, \quad \sin t dt = dv \Rightarrow \int_{\pi/2}^{+\infty} \frac{\sin t}{\sqrt{t}} dt = -\frac{\cos t}{\sqrt{t}} \Big|_{\pi/2}^{+\infty} - \frac{1}{2} \int_{\pi/2}^{+\infty} \frac{\cos t dt}{t^{3/2}} = -\frac{1}{2} \int_{\pi/2}^{+\infty} \frac{\cos t}{t^{3/2}} dt.$$

Последний интеграл сходится абсолютно, так как $\frac{|\cos t|}{t^{3/2}} \leq \frac{1}{t^{3/2}}$, а интеграл

$\int_{\pi/2}^{+\infty} \frac{dt}{t^{3/2}}$ сходится ($\alpha = 3/2 > 1$). ▲

3.30*. Исследовать на абсолютную и условную сходимость следующие интегралы:

- 1) $\int_0^{+\infty} \frac{x \cos 7x}{x^2 + 2x + 2} dx;$ 2) $\int_0^{+\infty} x \cos x^4 dx;$ 3) $\int_1^{+\infty} \sin\left(\frac{\sin x}{\sqrt{x}}\right) \frac{dx}{\sqrt{x}};$
 4) $\int_1^{+\infty} (1 - e^{(\sin x)/x}) \sqrt{x} dx;$ 5) $\int_1^{+\infty} \arctg\left(\frac{\cos x}{\sqrt[3]{x^2}}\right) dx.$

Отв.: 1) - 5) сх. усл.

Для несобственных интегралов 1-го рода справедливы следующие достаточные признаки их сходимости.

Признак Дирихле. Интеграл $\int_a^{+\infty} f(x)g(x)dx$ сходится, если:

а) функция $f(x)$ непрерывна и имеет ограниченную первообразную на $[a, +\infty)$;

б) функция $g(x)$ непрерывно дифференцируема и монотонна на $[a, +\infty)$, причем $\lim_{x \rightarrow +\infty} g(x) = 0$.

Признак Абеля. Интеграл $\int_a^{+\infty} f(x)g(x)dx$ сходится, если:

- а) функция $f(x)$ непрерывна на $[a, +\infty)$ и $\int_a^{+\infty} f(x)dx$ сходится;
 б) функция $g(x)$ ограничена, непрерывно дифференцируема и монотонна на $[a, +\infty)$.

3.31*. Исследовать $\int_1^{+\infty} \frac{\sin x}{x^\alpha} dx$ на абсолютную и условную сходимость при всех значениях параметра α .

Отв.: При $\alpha > 1$ сх. абс., при $0 < \alpha \leq 1$ сх. усл., при $\alpha \leq 0$ расходится.

3.32. Используя признак Абеля, доказать, что при $\alpha > 0$ интеграл $\int_1^{+\infty} \frac{\sin x}{x^\alpha} \operatorname{arctg} x dx$ сходится.

3.33*. Сходится ли интеграл $\int_1^{+\infty} \frac{\sin x dx}{\sqrt{x} - \sin x}$?

Можно ли исследовать этот интеграл с помощью признака Дирихле, положив $f(x) = \sin x$ и $g(x) = 1/(\sqrt{x} - \sin x)$?

Отв.: Сходится, но признак Дирихле не применим.

По определению, *главным значением несобственного интеграла*

$$\int_{-\infty}^{\infty} f(x) dx \text{ называется: } \text{V.p.} \int_{-\infty}^{\infty} f(x) dx = \lim_{R \rightarrow +\infty} \int_{-R}^R f(x) dx.$$

Если существует несобственный интеграл $\int_{-\infty}^{\infty} f(x) dx$, то существует и интеграл в смысле главного значения (в смысле Коши) и оба интеграла равны. Из существования интеграла в смысле Коши не следует существования соответствующего несобственного интеграла. Например,

$$\text{V.p.} \int_{-\infty}^{\infty} x dx = \lim_{R \rightarrow +\infty} \int_{-R}^R x dx = \lim_{R \rightarrow +\infty} \left. \frac{x^2}{2} \right|_{-R}^R = 0,$$

но интеграл $\int_{-\infty}^{+\infty} x dx$, очевидно, не существует.

3.34. Найти интегралы в смысле главного значения:

$$1) \int_{-\infty}^{+\infty} \sin x dx; \quad 2) \int_{-\infty}^{+\infty} \operatorname{arctg} x dx; \quad 3) \int_{-\infty}^{+\infty} \left(\operatorname{arctg} x + \frac{1}{1+x^2} - \frac{\pi}{2} \right) dx; \quad 4) \int_{-\infty}^{+\infty} \frac{13+x}{17+x^2} dx; \quad 5) \int_{-\infty}^{+\infty} \frac{dx}{x}$$

Отв.: 1) 0; 2) 0; 3) π ; 4) $13\pi/\sqrt{17}$; 5) 0.

4. Интегралы, зависящие от параметра

4.1. Собственные интегралы, зависящие от параметра

Понятие собственного интеграла, зависящего от параметра. Дифференцирование и интегрирование по параметру под знаком интеграла.

Пусть функция $f(x, y)$ двух переменных x и y , где $x \in [a, b]$, $y \in [c, d]$, интегрируема по Риману на $[a, b]$. Тогда интеграл

$$F(y) = \int_a^b f(x, y) dx, \quad y \in [c, d], \quad (4.1)$$

называется *собственным интегралом, зависящим от параметра y* .

Наряду с интегралом вида (4.1) рассматривают интегралы более общего вида

$$\Phi(y) = \int_{a(y)}^{b(y)} f(x, y) dx. \quad (4.2)$$

Если функция $f(x, y)$ непрерывна в прямоугольнике $D = \{(x, y) | a \leq x \leq b, c \leq y \leq d\}$, то интеграл (4.1) является непрерывной функцией по параметру y на отрезке $[c, d]$. В этом случае справедлива формула

$$\lim_{y \rightarrow y_0} \int_a^b f(x, y) dx = \int_a^b \left(\lim_{y \rightarrow y_0} f(x, y) \right) dx = \int_a^b f(x, y_0) dx, \quad y_0 \in [c, d]. \quad (4.3)$$

4.1. Вычислить интеграл $I(y) = \lim_{y \rightarrow 0} \int_0^2 x^3 \cos(xy) dx$.

Δ Подынтегральная функция непрерывна в прямоугольнике $D = \{(x, y) | 0 \leq x \leq 2, 0 \leq y \leq d\}$, где $d > 0$. Тогда искомым предел $I(y)$ равен

$$I = \int_0^2 \left(\lim_{y \rightarrow 0} x^3 \cos(xy) \right) dx = \int_0^2 x^3 dx = 4. \quad \blacktriangle$$

4.2. Доказать, что функция $F(y) = \int_0^1 \sin^2(yx^2) dx$ непрерывна на \mathbb{R} .

4.3. Найти пределы:

1) $\lim_{y \rightarrow 0} \int_0^1 \sqrt{1+x^4 y^2} dx.$ Отв.: 1.

2) $\lim_{y \rightarrow 0} \int_{-1}^1 \sqrt{x^2 + y^2} dx.$ Отв.: 1.

3) $\lim_{y \rightarrow 1} \int_2^4 \frac{xdx}{1+x^2+y^6}.$ Отв.: $(\ln 3)/2$.

$$4) \lim_{y \rightarrow 1} \int_0^1 x^2 e^{yx^3} dx. \quad \text{Отв.: } (e-1)/3.$$

$$5) \lim_{y \rightarrow 0} \int_{-\pi}^0 x \cos(x(1+y)) dx. \quad \text{Отв.: } -2.$$

$$6) \lim_{y \rightarrow 0} \int_{-\pi}^{\pi} (x + \cos xy) e^{x \sin y} dx. \quad \text{Отв.: } 2\pi.$$

4.4. Пусть функция $f(x)$ непрерывна на отрезке $[a, b]$ и $a < a_0 < x < b$. Доказать, что

$$\lim_{\alpha \rightarrow 0} \frac{1}{\alpha} \int_{a_0}^x [f(t+\alpha) - f(t)] dt = f(x) - f(a_0).$$

Если функция $f(x, y)$ непрерывна в прямоугольнике D , то интеграл (4.1) является функцией, интегрируемой на отрезке $[y_1, y_2] \subseteq [c, d]$ по параметру y , и справедливо равенство

$$\int_{y_1}^{y_2} \left(\int_a^b f(x, y) dx \right) dy = \int_a^b \left(\int_{y_1}^{y_2} f(x, y) dy \right) dx. \quad (4.4)$$

Если функция $f(x, y)$ и $\frac{\partial f(x, y)}{\partial y}$ непрерывны в прямоугольнике D , то справедлива формула Лейбница дифференцирования интеграла (4.1) под знаком интеграла:

$$F'(y) = \int_a^b \frac{\partial f(x, y)}{\partial y} dx. \quad (4.5)$$

Если функции $f(x, y)$ и $\frac{\partial f(x, y)}{\partial y}$ непрерывны в прямоугольнике D , функции $a(y)$ и $b(y)$ дифференцируемы на отрезке $[y_1, y_2] \subseteq [c, d]$, а их значения принадлежат отрезку $[a, b]$, то интеграл (4.2) – функция, дифференцируемая на $[c, d]$, причем

$$\Phi'(y) = \int_{a(y)}^{b(y)} \frac{\partial f(x, y)}{\partial y} dx + f(b(y), y) \cdot b'(y) - f(a(y), y) \cdot a'(y). \quad (4.6)$$

Дифференцирование и интегрирование по параметру в собственных интегралах с параметрами, позволяет вычислить некоторые интегралы.

4.5. Вычислить интегралы:

$$а) I = \int_0^1 \frac{x^{\alpha_2} - x^{\alpha_1}}{\ln x} dx, \quad 0 < \alpha_1 \leq \alpha_2; \quad б) I = \int_0^1 \sin\left(\ln \frac{1}{x}\right) \frac{x}{\ln x} (x^2 - 1) dx.$$

Δ а) Введем в рассмотрение функцию $f(x, \alpha) = x^\alpha$, непрерывную в прямоугольнике $D_1 = \{(x, \alpha) \mid 0 \leq x \leq 1, \alpha_1 \leq \alpha \leq \alpha_2\}$, $\alpha_1 > 0$. Применяя формулу (4.4), получим

$$\int_{\alpha_1}^{\alpha_2} \left(\int_0^1 x^\alpha dx \right) d\alpha = \int_0^1 \left(\int_{\alpha_1}^{\alpha_2} x^\alpha d\alpha \right) dx. \quad (4.7)$$

Так как $\int_0^1 x^\alpha dx = \frac{x^{\alpha+1}}{\alpha+1} \Big|_0^1 = \frac{1}{\alpha+1}$, то левая часть формулы (4.7) равна

$$\int_{\alpha_1}^{\alpha_2} \frac{d\alpha}{\alpha+1} = \ln(1+\alpha) \Big|_{\alpha_1}^{\alpha_2} = \ln \frac{1+\alpha_2}{1+\alpha_1}.$$

Правая же часть формулы (4.7) равна I, так как $\int_{\alpha_1}^{\alpha_2} x^\alpha d\alpha = \frac{x^{\alpha_2} - x^{\alpha_1}}{\ln x}$.

Значит, $I = \ln \frac{1+\alpha_2}{1+\alpha_1}$.

б) Заметим, что интеграл I преобразуется к виду

$$I = - \int_0^1 \sin(\ln x) \frac{x^3 - x}{\ln x} dx.$$

Далее, так как $\frac{x^3 - x}{\ln x} = \int_1^3 x^y dy$, то, согласно формуле (4.4), получаем

$$I = - \int_0^1 \sin(\ln x) \left(\int_1^3 x^y dy \right) dx = - \int_1^3 dy \int_0^1 x^y \ln x dx. \quad (4.8)$$

Внутренний несобственный интеграл справа в (4.8) вычислим по частям:

$$\begin{aligned} I_1 &= \int_0^1 x^y \ln x dx = \left| \begin{array}{l} u = \sin \ln x \Rightarrow du = \cos \ln x / x; \\ dv = x^y dx \Rightarrow v = x^{y+1} / y+1 \end{array} \right| = \frac{x^{y+1}}{y+1} \sin \ln x \Big|_{x=0}^{x=1} - \\ &- \frac{1}{y+1} \int_0^1 x^y \cos(\ln x) dx = - \lim_{\varepsilon \rightarrow +0} \frac{\varepsilon^{y+1}}{y+1} \sin \ln \varepsilon - \frac{1}{y+1} \int_0^1 x^y \cos \ln x dx = \\ &= - \frac{1}{y+1} \int_0^1 x^y \cos \ln x dx, \end{aligned} \quad (4.9)$$

как внеинтегральный член обращается в ноль как предел произведения м.ф. при $\varepsilon \rightarrow +0$ величины ε^{y+1} и ограниченной величины $\sin \ln \varepsilon$. Еще раз интегрируя по частям, из равенства (4.9) получаем

$$\begin{aligned} &= \frac{1}{y+1} \int_0^1 x^y \cos \ln x dx = \left| \begin{array}{l} u = \cos \ln x \Rightarrow du = -\sin \ln x / x; \\ dv = x^y \Rightarrow v = x^{y+1} / (y+1) \end{array} \right| = - \frac{1}{y+1} \left[\frac{x^{y+1}}{y+1} \cos \ln x \Big|_{x=0}^{x=1} \right] + \\ &+ \frac{1}{y+1} \int_0^1 x^y \sin \ln x dx = - \frac{1}{y+1} \left(\frac{1}{y+1} + \frac{1}{y+1} I_1 \right) = - \frac{1}{(y+1)^2} - \frac{1}{(y+1)^2} I_1. \end{aligned}$$

Из полученного уравнения относительно интеграла I_1 находим, что

$$I_1 = \int_0^1 x^y \sin \ln x dx = -\frac{1}{y^2 + 2y + 2} = -\frac{1}{1 + (y+1)^2}.$$

Подставив теперь I_1 в интеграл (4.8), окончательно получим, что

$$I = \int_1^3 \frac{dy}{1 + (1+y)^2} = \arctg(y+1) \Big|_1^3 = \arctg 4 - \arctg 2 = \arctg(2/9). \quad \blacktriangle$$

4.6. Найти производные интегралов по параметру ρ :

$$\text{а) } I(\rho) = \int_1^2 e^{\rho x^2} \frac{dx}{x}; \quad \text{б) } I(\rho) = \int_{\cos \rho}^{\sin \rho} sh \rho x^2 dx.$$

Δ а) По формуле (4.5) получаем

$$I'(\rho) = \int_1^2 x e^{\rho x^2} dx = \frac{e^{\rho x^2}}{2\rho} \Big|_{x=1}^{x=2} = \frac{e^{4\rho} - e^{\rho}}{2\rho}.$$

б) По формуле (4.6) находим

$$I'(\rho) = \int_{\cos \rho}^{\sin \rho} x^2 ch \rho x^2 dx + \cos \rho sh(\rho \sin^2 \rho) + \sin \rho sh(\rho \cos^2 \rho). \quad \blacktriangle$$

4.7. Применить дифференцирование по параметру, вычислить интегралы:

$$\text{а) } I(a) = \int_0^{\pi/2} \frac{\arctg(atgx)}{tgx} dx.$$

$$\text{б) } I(a, b) = \int_0^{\pi/2} \ln(a^2 \sin^2 x + b^2 \cos^2 x) dx.$$

Δ а) Дифференцируя по параметру a , находим

$$I'(a) = \int_0^{\pi/2} \frac{dx}{1 + a^2 tg^2 x}.$$

Нетрудно получить, что

$$\int \frac{dx}{1 + a^2 tg^2 x} = \frac{1}{1 - a^2} (x - |a| \arctg(|a| tgx)).$$

Поэтому

$$I'(a) = \frac{1}{1 - a^2} (x - |a| \arctg(|a| tgx)) \Big|_0^{\pi/2} = \frac{\pi}{2} \cdot \frac{1}{1 + |a|}.$$

Отсюда

$$I(a) = \frac{\pi}{2} \int \frac{da}{1 + |a|} + C = \begin{cases} C + \frac{\pi}{2} \ln(1 + a), & a > 0, \\ C - \frac{\pi}{2} \ln(1 - a), & a < 0, \end{cases} = C + \frac{\pi}{2} \ln(1 + |a|) \operatorname{sign} a, \quad (4.10)$$

$$\text{где } \text{sign } a = \begin{cases} 1, & a > 0; \\ 0, & a = 0; \\ -1, & a < 0. \end{cases}$$

Так как, очевидно, $I(0) = 0$, то из равенства (4.10) получаем, что $C = 0$.

Таким образом, окончательно,

$$\int_0^{\pi/2} \frac{\text{arctg}(atgx)}{tgx} dx = \frac{\pi}{2} \ln(1+|a|) \text{sign} a.$$

б) Проинтегрировав данный интеграл, например, по параметру b , получим

$$I'_b(a, b) = \int_0^{\pi/2} \frac{2b \cos^2 x dx}{a^2 \sin^2 x + b^2 \cos^2 x} = 2b \int_0^{\pi/2} \frac{dx}{b^2 + a^2 \text{tg}^2 x}.$$

Нетрудно проверить, что

$$\int \frac{dx}{b^2 + a^2 \text{tg}^2 x} = \frac{1}{b^2 - a^2} \left(x - \left| \frac{a}{b} \right| \text{arctg} \left(\left| \frac{a}{b} \right| \text{tg} x \right) \right).$$

Поэтому

$$\begin{aligned} I'_b(a, b) &= \frac{2b}{b^2 - a^2} \left(x - \left| \frac{a}{b} \right| \text{arctg} \left(\left| \frac{a}{b} \right| \text{tg} x \right) \right) \Big|_0^{\pi/2} = \frac{2b}{b^2 - a^2} \left(\frac{\pi}{2} - \left| \frac{a}{b} \right| \frac{\pi}{2} \right) = \\ &= \frac{\pi(1 - |a/b|)}{b(1 - |a/b|^2)} = \frac{|b|}{b} \frac{\pi}{|a| + |b|} = \frac{\pi \text{sign } a}{|a| + |b|} = \frac{\pi \text{sign } a}{|a| + |b|}. \end{aligned}$$

В таком случае

$$I(a, b) = \pi \text{sign } b \int \frac{db}{|a| + |b|} + C(a), \quad (4.11)$$

где $C(a)$ - постоянная интегрирования, зависящая от a , так как интегрирование (4.11) ведется по переменной b .

Вычисляя в этом равенстве интеграл, получаем

$$I(a, b) = \pi \text{sign } b \begin{cases} \ln(|a| + b), & b > 0, \\ \ln(|a| - b), & b < 0, \end{cases} + C(a) = \pi \text{sign } b \ln(|a| + |b|) \text{sign } b + C(a) = \quad (4.12)$$

$$= \pi \ln(|a| + |b|) + C(a).$$

Так как $I(1, 1) = 0$, то из равенства (4.12) получаем

$$0 = \pi \ln 2 + C(a) \Rightarrow C(a) = -\pi \ln 2.$$

В итоге из формулы (4.12) имеем

$$I(a, b) = \pi \ln(|a| + |b|) - \ln 2 = \pi \ln \frac{|a| + |b|}{2}. \quad \blacktriangle$$

4.8.* Выяснить, равны ли интегралы

$$\int_0^1 \left(\int_0^1 f(x, y) dy \right) dx \quad \text{и} \quad \int_0^1 \left(\int_0^1 f(x, y) dx \right) dy,$$

если

а) $f(x, y) = \frac{a^2 - x^2}{(a^2 + x^2)^2}.$

Отв.: Нет.

б) $f(x, y) = \frac{a - x}{(a + x)^3}.$

Отв.: Нет.

4.9. Пользуясь формулой $\frac{\arctg x}{x} = \int_0^1 \frac{dy}{1 + x^2 y^2}$, вычислить интеграл

$$\int_0^1 \frac{\arctg x dx}{x \sqrt{1 - x^2}}.$$

Отв.: $\frac{\pi}{2} \ln(1 + \sqrt{2}).$

4.10.* Пользуясь формулой ($a > 0, b > 0$)

$$\frac{1}{\sin x} \ln \frac{a + b \sin x}{a - b \sin x} = 2ab \int_0^1 \frac{dt}{a^2 - b^2 t^2 \sin^2 x},$$

вычислить интеграл $\int_0^{\pi/2} \ln \frac{a + b \sin x}{a - b \sin x} \cdot \frac{dx}{x}.$

Отв.: $\pi \arcsin(b/a).$

4.11. Найти $I'(y)$, если:

а) $I(y) = \int_0^1 \sin(xy) dx.$

Отв.: $(y \sin y + \cos y - 1) / y^2.$

б) $I(y) = \int_1^3 \frac{\cos(yx^3)}{x} dx.$

Отв.: $(\cos 27y - \cos y) / 3y.$

в) $\int_1^2 e^{yx^2} \frac{dx}{x}.$

Отв.: $(e^{4y} - e^y) / (2y).$

4.12. Найти $\Phi'(\alpha)$, если:

а) $\Phi(\alpha) = \int_0^\alpha \frac{\ln(1+x)}{x} dx.$

Отв.: $\frac{2 \ln(1+\alpha)^2}{\alpha}.$

б) $\int_{\sin \alpha}^{\cos \alpha} e^{\alpha(1-x^2)} dx.$

Отв.: $\int_{\sin \alpha}^{\cos \alpha} \sqrt{1-x^2} e^{\alpha \sqrt{1-x^2}} dx - \sin \alpha e^{\alpha |\sin \alpha|} - \cos \alpha e^{\alpha |\cos \alpha|}.$

$$в) \int_{2e^{-\alpha}}^{2e^{\alpha}} \ln(1 + \alpha^2 x^2) dx.$$

Отв.:

$$4sh\alpha + \frac{2}{\alpha^2} (\arctg(\alpha^2 e^{-\alpha}) - \arctg(\alpha^2 e^{\alpha})) + (\alpha+1)e^{\alpha} \ln(1 + \alpha^4 e^{2\alpha}) - (\alpha-1)e^{-\alpha} \ln(1 + \alpha^4 e^{-2\alpha}).$$

4.13. Применяя дифференцирование по параметру α , вычислить интеграл $I(\alpha)$, если:

$$1) I(\alpha) = \int_0^{\pi/2} \ln(\alpha^2 - \sin^2 \varphi) d\varphi, \quad \alpha > 1. \quad \text{Отв.: } \pi \ln \frac{\alpha + \sqrt{\alpha^2 - 1}}{2}.$$

$$2) I(\alpha) = \int_0^{\pi} \ln(1 - 2\alpha \cos x + \alpha^2) dx, \quad |\alpha| < 1. \quad \text{Отв.: } 0.$$

$$3) I(\alpha) = \int_0^{\pi} \ln \frac{1 + \alpha \cos x}{1 - \alpha \cos x} \cdot \frac{dx}{\cos x}, \quad |\alpha| < 1. \quad \text{Отв.: } 2\pi \arcsin \alpha.$$

$$4) I(\alpha) = \int_0^{\pi/2} \frac{\arctg(\alpha \operatorname{tg} x)}{\operatorname{tg} x} dx. \quad \text{Отв.: } \frac{\pi}{2} \sin \alpha \ln(1 + |\alpha|).$$

4.2. Несобственные интегралы, зависящие от параметра

Понятие несобственного интеграла, зависящего от параметра. Равномерная сходимость по параметру. Признаки Вейерштрасса и Дирихле. Свойства равномерно сходящихся интегралов.

Пусть область $D_{\infty} = \{(x, y) | a \leq x < +\infty, c \leq y \leq d\}$, и пусть при фиксированном $y \in [c, d]$ существует несобственный интеграл $\int_a^{\infty} f(x, y) dx$, являющийся функцией, зависящей от y :

$$F(y) = \int_a^{\infty} f(x, y) dx, \quad y \in [c, d]. \quad (4.13)$$

Интеграл (4.13) называется *несобственным интегралом, зависящим от параметра y* .

Несобственный интеграл (4.13) называется *сходящимся в точке $y \in [c, d]$* , если существует конечный предел

$$\lim_{B \rightarrow \infty} \int_a^B f(x, y) dx.$$

Если интеграл (4.13) сходится в каждой точке отрезка $[c, d]$, то он называется *сходящимся на этом отрезке*.

Если сходится интеграл $\int_a^{\infty} f(x, y) dx$, то интеграл (4.13) называется *абсолютно сходящимся*.

4.14. Определить области сходимости несобственного интеграла:

$$а) I_1 = \int_0^{\infty} e^{-xy} dx; \quad б) I_2 = \int_0^{\infty} \frac{dx}{x^2 + 2ax + 2a^2}.$$

Δ а) По определению

$$I_1 = \lim_{B \rightarrow \infty} \int_0^B e^{-xy} dx = \lim_{B \rightarrow \infty} \left. \frac{-e^{-xy}}{y} \right|_{x=0}^{x=B} = \lim_{B \rightarrow \infty} \frac{1 - e^{-By}}{y}.$$

Этот предел, очевидно, существует и равен $1/y$, если $y > 0$. Таким образом, $I_1 = 1/y, y > 0$.

б)

$$\begin{aligned} I_2 &= \lim_{B \rightarrow \infty} \int_0^B \frac{dx}{x^2 + 2ax + 2a^2} = \lim_{B \rightarrow \infty} \int_0^B \frac{d(x+a)}{(x+a)^2 + a} = \lim_{B \rightarrow \infty} \frac{1}{a} \operatorname{arctg} \frac{x+a}{a} \Big|_{x=0}^{x=B} = \\ &= \lim_{B \rightarrow \infty} \frac{1}{a} \operatorname{arctg} \frac{B+a}{a} - \frac{1}{a} \operatorname{arctg} 1 = \frac{1}{a} \left(\frac{\pi}{2} - \frac{\pi}{4} \right) = \frac{\pi}{4a}, \quad a \neq 0. \quad \blacktriangle \end{aligned}$$

4.15.* Сходится ли несобственный интеграл:

$$а) \int_1^{\infty} \frac{\sin \omega x}{x^{\sigma}} dx, \quad \omega \neq 0, \sigma > 0. \quad \text{Отв.: Да.}$$

$$б) \int_0^{\infty} \sin x^2 dx. \quad (\text{Ввести подстановку } x = \sqrt{t}). \quad \text{Отв.: Да.}$$

Представим интеграл (4.13) в виде

$$F(y) = \int_a^B f(x, y) dx + \int_B^{\infty} f(x, y) dx = \int_a^B f(x, y) dx + R_f(B, y), \quad (4.14)$$

где $R_f(B, y) = \int_B^{\infty} f(x, y) dx$ называется *остатком* несобственного интеграла (4.13).

Интеграл (4.13) называется *равномерно сходящимся по параметру* $y \in [c, d]$ к функции $F(y)$, если для любого $\varepsilon > 0$ существует число $B_0 = B_0(\varepsilon)$, такое, что для всех $B \geq B_0$ выполнено неравенство

$$\left| F(y) - \int_a^B f(x, y) dx \right| = |R_f(B, y)| < \varepsilon, \quad \forall y \in [c, d]. \quad (4.15)$$

4.16. Исследовать на равномерную сходимость интегралы:

$$а) I_1 = \int_1^{\infty} \frac{\sin \alpha x}{x^2} dx; \quad б) I_2 = \int_1^{\infty} \frac{(y^2 - x^2) dx}{(x^2 + y^2)^2}.$$

Δ а) Для заданного $\varepsilon > 0$ оценим остаток интеграла $I_1(\alpha)$ по модулю:

$$\left| \int_B^\infty \frac{\sin \alpha x}{x^2} dx \right| \leq \int_B^\infty \frac{|\sin \alpha x|}{x^2} dx \leq \int_B^\infty \frac{dx}{x^2} = \frac{1}{B} < \varepsilon, \quad \forall \alpha \in \mathbf{R}.$$

Отсюда видно, что для выполнения неравенства (4.15) можно взять число $B_0 = 1/\varepsilon$. А это и означает равномерную сходимость интеграла $I_1(\alpha)$ для всех $\alpha \in \mathbf{R}$.

б) Заметим, что $\int \frac{y^2 - x^2}{(x^2 + y^2)^2} dx = \frac{x}{x^2 + y^2}$. Зададимся произвольным

$\varepsilon > 0$ и оценим остаток интеграла $I_2(y)$ по модулю:

$$\left| \int_B^\infty \frac{y^2 - x^2}{(x^2 + y^2)^2} dx \right| = \left| \frac{x}{x^2 + y^2} \right|_{x=B}^{x=\infty} = \frac{B}{B^2 + y^2} \leq \frac{1}{B} < \varepsilon, \quad \forall y \in \mathbf{R}.$$

В качестве B_0 можно взять число $B_0 = 1/\varepsilon$. Тогда при $B \geq 1/\varepsilon$ будет выполнено неравенство (4.15), что и доказывает равномерную сходимость интеграла $I_2(y)$ по параметру y , $\forall y \in \mathbf{R}$. ▲

На практике удобными для исследования несобственных сходимостей интегралов являются следующие признаки:

1. *Признак Вейерштрасса*. Если на промежутке $[a, +\infty)$ существует неотрицательная функция $g(x)$, такая, что

$$|f(x, y)| \leq g(x), \quad \forall x \in [c, d], \quad (4.16)$$

и несобственный интеграл $I = \int_a^\infty g(x) dx$ сходится, то собственный интеграл

$\int_a^d f(x, y) dx$ сходится абсолютно и равномерно по параметру y , $\forall y \in [c, d]$.

Функция $g(x)$, удовлетворяющая условию (4.16), называется *мажорантой* или *мажорантной функцией* для $f(x, y)$ на $[a, +\infty)$.

2. *Признак Дирихле*. Интеграл

$$\int_a^\infty f(x, y) g(x, y) dx$$

сходится равномерно по y , $y \in [c, d]$, если при каждом фиксированном $y \in [c, d]$ функции f, g, g'_x непрерывны по $x \in [a, +\infty)$ и удовлетворяют следующим условиям:

- 1) $g(x, y) \rightarrow 0$ при $x \rightarrow +\infty$ равномерно относительно $y \in [c, d]$;
- 2) функция $g'_x(x, y)$ для каждого фиксированного $y \in [c, d]$ не меняет знака при изменении x на $[a, +\infty)$;
- 3) функция f , $\forall y \in [c, d]$, имеет ограниченную первообразную, т.е. $M > 0$, такое, что

$$\left| \int_a^x f(t, y) dt \right| \leq M, \quad \forall x \in [a, +\infty), \quad \forall y \in [c, d].$$

4.17. Исследовать на равномерную сходимость интеграл:

$$\text{а) } I(\alpha) = \int_0^{\infty} \frac{\cos \alpha x}{1+x^2} dx; \quad \text{б*) } I(\beta) = \int_3^{\infty} \frac{\ln^{\beta} x}{x^{5/4}} dx.$$

Δ а) Так как $\left| \frac{\cos \alpha x}{1+x^2} \right| \leq \frac{1}{1+x^2} = g(x), \forall x \in \mathbf{R}$, а интеграл $\int_0^{\infty} \frac{dx}{1+x^2}$ сходится, то по признаку Вейерштрасса заключаем, что интеграл $I(\alpha)$ сходится равномерно по $\alpha, \forall \alpha \in \mathbf{R}$.

б) Покажем, что интеграл $I(\beta)$ сходится равномерно по β на $[0, 3]$. Действительно, если $\beta \in [0, 3], x \in [3, +\infty)$, то $0 \leq \ln^{\beta}(x) \leq \ln^2 x$, и поэтому

$$0 \leq \frac{\ln^{\beta} x}{x^{5/4}} \leq \frac{\ln^2 x}{x^{5/4}}. \quad (4.17)$$

Из сходимости интеграла $\int_3^{\infty} \frac{\ln^2 x}{x^{5/4}} dx$ (докажите это!), в силу оценки (4.17), по признаку Вейерштрасса и вытекает равномерная сходимость интеграла $I(\beta)$ по $\beta, \forall \beta \in [0, 3]$. \blacktriangle

4.18.* Доказать, что интеграл

$$I(\alpha) = \int_0^{\infty} \frac{\sin \alpha x}{x} dx$$

сходится равномерно по α на множестве $[b, +\infty)$, где $b > 0$.

Δ Пусть

$$F(x, \alpha) = \int_0^x \sin \alpha t dt = \frac{\cos \alpha x - 1}{\alpha}.$$

Ясно, что $|F(x, \alpha)| \leq 2/b, \forall x \in [0, +\infty)$, и $\forall \alpha \geq b$. Кроме того, $1/x \rightarrow 0$ при $x \rightarrow +\infty$, причем функция $1/x$ не зависит от α . По признаку Дирихле интеграл $I(\alpha)$ сходится равномерно по α для $\alpha \in [b, +\infty)$, где $b > 0$. \blacktriangle

4.19.* Доказать, что интеграл $I(\alpha)$ сходится равномерно на множестве E :

$$1) I(\alpha) = \int_1^{\infty} \frac{dx}{x^{\alpha}}, \quad E = [\alpha_0, +\infty), \alpha_0 > 1.$$

$$2) I(\alpha) = \int_2^{\infty} \frac{dx}{x \ln^{\alpha} x}, \quad E = [\alpha_0, +\infty), \alpha_0 > 1.$$

$$3) I(\alpha) = \int_0^{\infty} e^{-\alpha x^4} dx, \quad E = [\alpha_0, +\infty), \alpha_0 > 0.$$

$$4) I(\alpha) = \int_1^{\infty} x^{\alpha} e^{-2x} dx, \quad E = [1, 3].$$

$$5) I(\alpha) = \int_0^{\infty} e^{-\alpha x} \cos 2x dx, \quad E = [\alpha_0, +\infty], \quad \alpha_0 > 0.$$

$$6) I(\alpha) = \int_1^{\infty} \frac{\ln^3 x}{x^2 + \alpha^4} dx, \quad E = \mathbb{R}.$$

$$7) I(\alpha) = \int_0^{\infty} \frac{\ln(1+x) \operatorname{arctg} \alpha x}{x^2} dx, \quad E = [-a, a], \quad \alpha_0 > 0.$$

$$8) I(\alpha) = \int_2^{\infty} \frac{\cos \alpha x \ln x}{\sqrt{x}} dx, \quad E = [\alpha_0, +\infty], \quad \alpha_0 > 0.$$

$$9) I(\alpha) = \int_0^{\infty} \frac{\sin x}{x} e^{-\alpha x} dx, \quad E = [0, +\infty].$$

$$10) I(\alpha) = \int_0^{\infty} \frac{\alpha \cos(\alpha^2 x)}{1 + \alpha^2} dx, \quad E = [3, 5].$$

$$11) I(\alpha) = \int_0^{\infty} \sin 2x \sin \frac{\alpha}{x} dx, \quad E = [0, 1/2].$$

$$12) I(\alpha) = \int_0^{\infty} (\alpha^5 + x^3) e^{-\alpha^4 x} dx, \quad E = [1, 4].$$

Равномерно сходящиеся несобственные интегралы, зависящие от параметра, обладают следующими свойствами.

1°. (Непрерывность несобственного интеграла по параметру). Если функция $f(x, y)$ непрерывна в области D и интеграл $F(y) = \int_a^{\infty} f(x, y) dx$ сходится равномерно по y $[c, d]$, то функция $F(y)$ непрерывна на $[c, d]$.

4.20.* Доказать, что функция $F(y)$ непрерывна на множестве E , если:

$$1) F(y) = \int_0^{\infty} e^{-(x-y)^2} dx, \quad E = \mathbb{R}.$$

$$2) F(y) = \int_0^{\infty} \sin(yx^2) dx, \quad E = [1, +\infty].$$

$$3) F(y) = \int_0^{\infty} \sin \frac{y}{x^2} \sqrt{\ln x} dx, \quad E = \mathbb{R}.$$

2°. (Интегрируемость несобственного интеграла по параметру). Если функция $f(x, y)$ непрерывна в области D и интеграл $F(y) = \int_a^{\infty} f(x, y) dx$ сходит-

дится равномерно по y на $[c, d]$, то на этом отрезке функция $F(y)$ интегрируема и

$$\int_c^d F(y) dy = \int_c^d \int_a^\infty f(x, y) dx = \int_a^\infty \int_c^d f(x, y) dy. \quad (4.18)$$

3°. (Дифференцируемость несобственного интеграла по параметру)

Пусть функция $f(x, y)$ имеет непрерывную по y производную $\frac{\partial f(x, y)}{\partial y}$ и интеграл $F(y)$ сходится, а интеграл $\int_a^\infty \frac{\partial f(x, y)}{\partial y} dx$ сходится равномерно по $y \in [c, d]$. Тогда

$$F'(y) = \int_a^\infty \frac{\partial f(x, y)}{\partial y} dx. \quad (4.19)$$

4.21.* Вычислить несобственный интеграл Дирихле

$$F(a) = \int_0^\infty \frac{\sin ax}{x} dx. \quad (4.20)$$

Δ Интеграл $F(a)$ сходится по признаку Абеля—Дирихле, но непосредственно его нельзя дифференцировать по параметру a , так как это приводит к расходящемуся интегралу $\int_0^\infty \cos ax dx$. Рассмотрим вспомогательный интеграл

$$I(k, a) = \int_0^\infty e^{-kx} \frac{\sin ax}{x} dx, \text{ отличающийся от данного «множителем сходимости»}$$

e^{-kx} , $k > 0$. Покажем, что $I(k, a)$ является непрерывной функцией по k , где $k \geq 0$; для этого убедимся, что интеграл $I(k, a)$ сходится равномерно. В самом деле, интегрируя по частям в остатке

$$\int_B^\infty e^{-kx} \frac{\sin ax}{x} dx \quad (u = 1/x, dv = e^{-kx} \sin ax dx),$$

получаем

$$\int_B^\infty e^{-kx} \frac{\sin ax}{x} dx = -\frac{e^{-kx}(\sin ax + \varphi)}{x\sqrt{k^2 + a^2}} \Big|_{x=B}^{x=\infty} - \int_B^\infty \frac{e^{-kx} \sin(ax + \varphi)}{x^2 \sqrt{k^2 + a^2}} dx,$$

где φ — вспомогательный угол, определяемый соотношениями

$$\cos \varphi = \frac{k}{\sqrt{k^2 + a^2}}, \quad \sin \varphi = \frac{a}{\sqrt{k^2 + a^2}},$$

$$\left(v = \int e^{-kx} \sin ax dx = -\frac{e^{-kx}(k \sin ax + a \cos ax)}{k^2 + a^2} = -\frac{e^{-kx} \sin(ax + \varphi)}{\sqrt{k^2 + a^2}} \right).$$

Так как $\left| \frac{e^{-kx} \sin(ax + \varphi)}{\sqrt{k^2 + a^2}} \right| \leq \frac{1}{|a|}$ при $a \neq 0$ и $x > 0$, то

$$\left| e^{-kx} \frac{\sin ax}{x} dx \right| \leq \frac{1}{B|a|} + \frac{1}{|a|} \int_B^{\infty} \frac{dx}{x^2} = \frac{2}{B|a|} < \varepsilon \text{ при } B > \frac{2}{|a|\varepsilon} = B_0 \text{ сразу для всех}$$

$\varepsilon > 0$, что и означает равномерную сходимость интеграла $I(k, a)$ по k . Тем самым доказано, что

$$F(a) = \lim_{k \rightarrow 0} I(k, a).$$

Дифференцируя $I(k, a)$ по параметру a , получаем

$$I_a(k, a) = \int_0^{\infty} e^{-kx} \cos ax dx \quad (4.21)$$

Дифференцирование по a здесь возможно, так как функции $I(k, a) = e^{-kx} \frac{\sin ax}{x}$ и $F'_a = e^{-kx} \cos ax$ непрерывны при $x \geq 0$ и интеграл

$\int_0^{\infty} e^{-kx} \sin ax dx$ сходится равномерно, ибо $|e^{-kx} \cos ax| \leq e^{-kx}$, а $\int_0^{\infty} e^{-kx} dx$ — сходящийся интеграл при $k > 0$).

Дважды проинтегрировав интеграл (4.21), найдем, что $I'_a(k, a) = \frac{k}{k^2 + a^2}$,

откуда интегрированием по a получим

$$I(k, a) = \text{arctg} \frac{a}{k} + C, \quad (4.22)$$

где C — постоянная интегрирования.

Так как $I(k, 0) = 0$, то отсюда и из (4.22) при $a = 0$ получаем $0 = \text{arctg} 0 + C \Rightarrow C = 0$.

Таким образом,

$$I(k, a) = \int_0^{\infty} e^{-kx} \frac{\sin ax}{x} dx = \text{arctg} \frac{a}{k}.$$

Отсюда в пределе при $k \rightarrow +0$ имеем

$$\int_0^{\infty} \frac{\sin ax}{x} dx = \lim_{k \rightarrow +0} \text{arctg} \frac{a}{k} = \begin{cases} \pi/2, & a > 0, \\ 0, & a = 0, \\ -\pi/2, & a < 0. \end{cases}$$

$$\int_0^{\infty} \frac{\sin ax}{x} dx = \frac{\pi}{2} \text{sign } a. \quad (4.23)$$

В частности, $\int_0^{\infty} \frac{\sin x}{x} dx = \frac{\pi}{2}$. ▲

4.22.* Исходя из равенства (4.23) найти интеграл

$$I = \int_0^{\infty} \frac{\cos ax - \cos bx}{x^2} dx, \quad b > a > 0.$$

Δ Имеем

$$\int_a^b \frac{\sin yx}{x} dy = -\frac{\cos yx}{x^2} \Big|_{y=a}^{y=b} = \frac{\cos ax - \cos bx}{x^2}.$$

Поэтому искомый интеграл I можно представить в виде

$$I = \int_0^{\infty} dx \int_a^b \frac{\sin yx}{x} dy = \int_a^b dy \int_0^{\infty} \frac{\sin yx}{x} dx = \frac{\pi}{2} \operatorname{sign} y \int_a^b dy = \frac{\pi}{2} (b-a) \operatorname{sign} y = \frac{\pi}{2} (b-a).$$

В последнем равенстве перестановка порядка интегрирования законна, так как интеграл $\int_0^{\infty} \frac{\sin yx}{x} dx$ сходится равномерно по y , $y > 0$ (см. пример 4.18). ▲

4.23. Вычислить интеграл Эйлера-Пуассона $I = \int_0^{\infty} e^{-x^2} dx$.

Δ Интеграл I сходится по признаку сравнения, поскольку при $x > 1$ имеем $e^{-x^2} < e^{-x}$, а интеграл $\int_0^{\infty} e^{-x} dx$ сходящийся. Положим $x = yt$, где $y > 0$. Тогда

$dx = ydt$, $t \in [0, +\infty)$, и, следовательно, $\int_0^{\infty} e^{-x^2} dx = y \int_0^{\infty} e^{-y^2 t^2} dt$. Умножим обе части

этого равенства на $e^{-y^2} dy$ и проинтегрируем по y от 0 до $(+\infty)$. Получим

$$\begin{aligned} I^2 &= \int_0^{\infty} e^{-x^2} dx \int_0^{\infty} e^{-y^2} dy = \int_0^{\infty} e^{-y^2} y dy \int_0^{\infty} \int_0^{\infty} e^{-(1+t^2)y^2} y dy dt = \int_0^{\infty} \left[-\frac{1}{2(1+t^2)} e^{-(1+t^2)y^2} \right] dt = \\ &= \frac{1}{2} \int_0^{\infty} \frac{dt}{1+t^2} = \frac{1}{2} \operatorname{arctgt} \Big|_0^{\infty} = \frac{\pi}{4}. \end{aligned}$$

Отсюда следует, что

$$I = \int_0^{\infty} e^{-x^2} dx = \frac{\sqrt{\pi}}{2} \Rightarrow \int_{-\infty}^{\infty} e^{-x^2} dx = \sqrt{\pi}. \quad \blacktriangle$$

Если функция f непрерывна на $[0, +\infty)$ и для каждого $A > 0$ сходится интеграл $\int_A^{\infty} \frac{f(x)}{x} dx$, то при любых $a > 0$, $b > 0$ справедлива формула Фруллани:

$$\int_0^{\infty} \frac{f(ax) - f(bx)}{x} dx = f(0) \ln \frac{b}{a}. \quad (4.24)$$

Если функция f непрерывна на $[0, +\infty)$, а интеграл $\int_A^{\infty} \frac{f(x)}{x} dx$ расходится, то существует конечный $\lim_{x \rightarrow +\infty} f(x) = f(+\infty)$ и, кроме того, сходится интеграл

$\int_A^{\infty} \frac{f(x) - f(+\infty)}{x} dx$, то, применив формулу (4.24) к функции $f(x) = f(x) - f(+\infty)$, получим равенство

$$\int_0^{\infty} \frac{f(ax) - f(bx)}{x} dx = [f(0) - f(+\infty)] \ln \frac{b}{a}. \quad (4.25)$$

4.24. Вычислить интеграл

$$I = \int_0^{\infty} \frac{e^{-ax} - e^{-bx}}{x} dx, \quad 0 < a < b.$$

Δ Опуская доказательство сходимости несобственного интеграла $\int_0^{\infty} \frac{e^{-x}}{x} dx$, $A > 0$, по формуле Фрулиани (4.24) получаем

$$I = e^{-x} \Big|_{x=0} \cdot \ln \frac{b}{a} = \ln \frac{b}{a}. \quad \blacktriangle$$

4.25.* Используя интеграл Дирихле (4.23), вычислить интегралы:

1) $\int_0^{\infty} \frac{1 - \cos \alpha x}{x^2} dx.$ Отв.: $\pi |\alpha| / 2.$

2) $\int_0^{\infty} \left(\frac{\sin x}{x} \right)^2 dx.$ Отв.: $\frac{\pi}{2}.$

3) $\int_0^{\infty} \frac{\sin x^2}{x} dx.$ Отв.: $\pi / 4.$

4) $\int_0^{\infty} \frac{\sin x - x \cos x}{x^3} dx.$ Отв.: $3\pi / 16.$

5) $\int_0^{\infty} \frac{x - \sin x}{x^3} dx.$ Отв.: $5\pi / 32.$

6) $\int_0^{\infty} \frac{2 \sin \alpha x - \sin 2\alpha x}{x^3} dx.$ Отв.: $\pi \alpha |\alpha| / 2.$

7) $\int_0^{\infty} \frac{\cos \alpha x - \cos \beta x}{x^2} dx.$ Отв.: $\frac{(|\beta| - |\alpha|)\pi}{2}.$

8) $\int_0^{\infty} \frac{\sin^2 x \cos x}{x^2} dx.$ Отв.: $(2 - \alpha)\pi / 4$ если $\alpha < 2$; 0 при $\alpha > 2.$

4.26.* С помощью дифференцирования по параметру вычислить интегралы:

$$1) \int_0^{\infty} \frac{\operatorname{arctg} ax - \operatorname{arctg} bx}{x} dx, \quad 0 < a < b. \quad \text{Отв.: } \frac{\pi}{2} \ln \frac{b}{a}.$$

$$2) \int_0^{\infty} \frac{e^{-ax} - e^{-bx}}{x} \sin x dx. \quad \text{Отв.: } \operatorname{arctg} b - \operatorname{arctg} a.$$

$$3) \int_0^{\infty} \frac{e^{-ax} - e^{-bx}}{x} \cos x dx. \quad \text{Отв.: } \frac{1}{2} \ln \frac{a+b^2}{1+a^2}.$$

$$4) \int_0^{\infty} \frac{1 - e^{-ax^2}}{x^2} dx, \quad a > 0. \quad \text{Отв.: } \sqrt{\pi a}.$$

$$5) \int_0^{\infty} \left(e^{-a^2/x^2} - e^{-a^2/b^2} \right) dx. \quad \text{Отв.: } \sqrt{\pi} (b - a).$$

$$6) \int_0^{\infty} \frac{e^{-ax} - e^{-bx}}{x^2} \sin x dx. \quad \text{Отв.: } \frac{\pi}{2} (b - a) + \frac{1}{2} \ln \frac{1+b^2}{1+a^2} - b \operatorname{arctg} b + a \operatorname{arctg} a.$$

$$7) \int_0^{\infty} \frac{\ln(1 + \alpha^2 x^2)}{x^2 (x^2 + \beta^2)} dx. \quad \text{Отв.: } \frac{\pi}{2} (\alpha \beta - \ln(1 + \alpha \beta)).$$

4.27. Применив формулу Фруллани (4.24), вычислить интеграл ($a > 0, b > 0$):

$$1) \int_0^{\infty} \frac{\cos^2 ax - \cos^2 bx}{x} dx. \quad \text{Отв.: } \frac{1}{2} \ln \frac{b}{a}.$$

$$2) \int_0^{\infty} \frac{\sin^2 ax - \sin^2 bx}{x} dx. \quad \text{Отв.: } \frac{1}{2} \ln \frac{a}{b}.$$

$$3) \int_0^{\infty} \frac{e^{-ax^2} - e^{-bx^2}}{x} dx. \quad \text{Отв.: } \frac{1}{2} \ln \frac{b}{a}.$$

$$4) \int_0^1 \frac{x^a - x^b}{\ln x} dx. \quad \text{Отв.: } \ln \frac{a+b}{b+1}.$$

4.3. Интегралы Эйлера

Гамма-функция и ее свойства. Бета-функция и ее свойства

Гамма-функция $\Gamma(x)$ определяется на промежутке $(0, +\infty)$ равенством

$$\Gamma(x) = \int_0^{\infty} t^{x-1} e^{-t} dt, \quad x \geq 0. \quad (4.26)$$

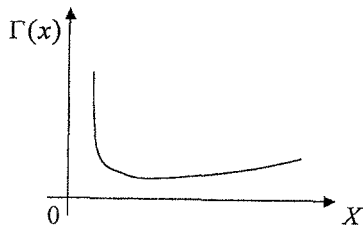


Рис.4.1

Основные свойства функции $\Gamma(x)$:

1°. Функция $\Gamma(x)$ — выпуклая вниз, имеющая положительный единственный минимум (рис.4.1).

4.28. Найти: а) $\Gamma(1)$; б) $\Gamma\left(\frac{1}{2}\right)$.

Δ а) Имеем по определению

$$\Gamma(1) = \int_0^{\infty} e^{-t} dt = e^{-t} \Big|_0^{\infty} = 1. \quad (4.27)$$

б) Имеем по определению

$$\begin{aligned} \Gamma\left(\frac{1}{2}\right) &= \int_0^{\infty} t^{-\frac{1}{2}} e^{-t} dt = \int_0^{\infty} \frac{e^{-t}}{\sqrt{t}} dt = \left| \sqrt{t} = s, t = s^2; t = 0 \Rightarrow s = 0; \right. \\ &\quad \left. dt = 2s ds; t = \infty \Rightarrow s = \infty. \right| = \\ &= 2 \int_0^{\infty} \frac{s e^{-s^2}}{s} ds = 2 \int_0^{\infty} e^{-s^2} ds = 2 \frac{\sqrt{\pi}}{2} = \sqrt{\pi}, \\ &\text{так как интеграл Эйлера } \int_0^{\infty} e^{-s^2} ds = \frac{\sqrt{\pi}}{2}. \end{aligned}$$

Таким образом,

$$\Gamma\left(\frac{1}{2}\right) = \sqrt{\pi}. \quad \blacktriangle \quad (4.28)$$

2°. Справедлива формула приведения

$$\Gamma(x+1) = x\Gamma(x). \quad (4.29)$$

Отсюда получим

$$3°. \quad \Gamma(n+1) = n!. \quad (4.30)$$

4°. Из (4.30) и (4.27) имеем

$$0! = \Gamma(1) = 1 \quad (4.31)$$

5°. Справедлива формула

$$\Gamma\left(n + \frac{1}{2}\right) = \frac{1 \cdot 3 \cdot 5 \dots (2n-3)(2n-1)}{2^n} \sqrt{\pi}. \quad (4.32)$$

6°. Формула дополнения:

$$\Gamma(x)\Gamma(1-x) = \frac{\pi}{\sin \pi x}, \quad x \in (0,1). \quad (4.33)$$

7°. Заменяя в (4.33) x на $x + \frac{1}{2}$, получим

$$\Gamma\left(x + \frac{1}{2}\right)\Gamma\left(\frac{1}{2} - x\right) = \frac{\pi}{\cos \pi x}, \quad x \in \left(-\frac{1}{2}, \frac{1}{2}\right). \quad (4.34)$$

8°.
$$\frac{\Gamma(x+1)}{x} \sim \frac{1}{x}, \quad x \rightarrow +0; \quad \lim_{x \rightarrow +\infty} \Gamma(x) = +\infty. \quad (4.35)$$

9°. Формула Лежандра:

$$\Gamma(x)\Gamma\left(x + \frac{1}{2}\right) = \frac{\sqrt{x}}{2^{2x-1}} \Gamma(2x). \quad (4.36)$$

4.29. Вычислить $\Gamma\left(\frac{5}{2}\right)$.

Δ Согласно (4.32), имеем

$$\Gamma\left(\frac{5}{2}\right) = \Gamma\left(2 + \frac{1}{2}\right) = \frac{1 \cdot 3}{2^2} \sqrt{\pi} = \frac{3}{4} \sqrt{\pi}.$$

Второе решение: по формулам (4.29) и (4.38) находим

$$\Gamma\left(\frac{5}{2}\right) = \left(\frac{5}{2} - 1\right)\Gamma\left(\frac{5}{2} - 1\right) = \frac{3}{2}\Gamma\left(\frac{3}{2}\right) = \frac{3}{2} \cdot \frac{1}{2}\Gamma\left(\frac{1}{2}\right) = \frac{3}{4}\sqrt{\pi}. \quad \blacktriangle$$

4.30.* Показать, что

$$\Gamma(x) = \lim_{n \rightarrow \infty} \frac{n! n^x}{x(x+1) \cdot K \cdot (x+n)} = \lim_{n \rightarrow \infty} \frac{n^x}{x(1+x) \left(1 + \frac{x}{2}\right) \dots \left(1 + \frac{x}{n}\right)}.$$

• Воспользоваться тем, что $e^{-t} = \lim_{n \rightarrow \infty} \left(1 - \frac{t}{n}\right)^n$, и вычислить по частям ин-

теграл
$$\int_0^n \left(1 - \frac{1}{t}\right)^n t^{x-1} dt.$$

4.31. Вычислить: а) $\Gamma(6)$; б) $\Gamma\left(\frac{7}{2}\right)$. Отв.: а) 120; б) $\frac{15}{8}\sqrt{\pi}$.

4.32. Доказать, что $\Gamma(x)$ — бесконечно дифференцируемая функция, причем

$$\Gamma^{(n)}(x) = \int_0^\infty t^{x-1} e^{-t} (\ln t)^n dt.$$

4.33.* Показать, что:

а)
$$\Gamma\left(-m + \frac{1}{2}\right) = \frac{(-2)^m}{(2m-1)!!} \sqrt{\pi};$$

б)
$$\Gamma\left(m + \frac{1}{2}\right) \cdot \Gamma\left(-m + \frac{1}{2}\right) = (-1)^m \pi, \quad m \in \mathbb{N}.$$

Бета-функцией называется несобственный интеграл

$$B(x, y) = \int_0^1 x^{t-1} (1-t)^{y-1} dt, \quad (4.37)$$

зависящий от двух параметров x и y . Подынтегральная функция в (4.37) имеет две особые точки $t=0$ и $t=1$. Бета-функция определена для всех положительных значений x и y , и для этих значений она непрерывна.

Отметим следующие свойства бета-функции:

1°. Заменой $t = z/(z+1)$ интеграл (4.37) сводится к интегралу

$$B(x, y) = \int_0^{\infty} \frac{x^{z-1} dz}{(1+z)^{x+y}}. \quad (4.38)$$

Выражение (4.38) является другим интегральным представлением бета-функции.

2°. При $x > 0$ и $y > 0$ справедлива формула

$$B(x, y) = \frac{\Gamma(x)\Gamma(y)}{\Gamma(x+y)}. \quad (4.39)$$

3°. $B(x, y) = B(y, x)$.

4°. Заменой $z = tg^2 \varphi$ интеграл (4.38) сводится к интегралу

$$B(x, y) = 2 \int_0^{\pi/2} \sin^{2y-1} \varphi d\varphi = \frac{1}{2} \frac{\Gamma(x)\Gamma(y)}{\Gamma(x+y)}. \quad (4.40)$$

Многие определенные интегралы вычисляются путем сведения их к интегралам Эйлера.

4.34. Вычислить интегралы:

$$а) I_1 = \int_0^a x^2 \sqrt{a^2 - x^2} dx, \quad a > 0. \quad б) I_2 = \int_0^{\infty} \frac{\sqrt[4]{x} dx}{(1+x)^2}.$$

$$в) I_3 = \int_0^{\pi/2} \sin^6 \varphi \cos^8 \varphi d\varphi. \quad г) I_4 = \int_0^1 \ln^p(1/x) dx.$$

Δ а) Введем замену $x = a\sqrt{t}$, $t > 0$, $\Rightarrow dx = adt/2\sqrt{t}$; $x=0 \Rightarrow t=0$; $x=a \Rightarrow t=1$.

Тогда, согласно (4.37), (4.32), (4.30), получим

$$I_1 = \frac{a^4}{2} \int_0^1 t^{1/2} (1-t)^{1/2} dt = \frac{a^4}{2} \int_0^1 t^{3/2-1} (1-t)^{3/2-1} dt = \frac{a^4}{2} B(3/2, 3/2) = \frac{a^4}{2} \frac{\Gamma(3/2)\Gamma(3/2)}{\Gamma(3)} =$$

$$= \frac{a^4 (1/2)^2 \Gamma^2(1/2)}{2 \cdot 2!} = \frac{\pi a^4}{16}, \quad \text{так как } \Gamma(1/2) = \sqrt{\pi}, \quad \Gamma(3) = 2!$$

б) Имеем

$$I_2 = \int_0^{\infty} \frac{x^{5/4-1} dx}{(1+x)^{5/4+3/4}} = B(5/4, 5/4) = \frac{\Gamma(5/4)\Gamma(3/4)}{\Gamma(2)} = \frac{1}{4} \Gamma(1/4)\Gamma(3/4) =$$

$$= \frac{1}{4} \Gamma(1/4) \Gamma(1-1/4) = \frac{1}{4} \frac{\pi}{\sin(\pi/4)} = \frac{\pi\sqrt{2}}{4},$$

согласно формулам (4.38), (4.39), (4.29) и (4.34).

в) Представим интеграл I_3 в виде (4.40) и воспользуемся формулами (4.32) и (4.30):

$$\begin{aligned} I_3 &= \int_0^{\pi/2} \sin^{2(7/2)-1} \varphi \cdot \cos^{2(9/2)-1} \varphi d\varphi = \frac{1}{2} \frac{\Gamma(7/2)\Gamma(9/2)}{\Gamma(8)} = \\ &= \frac{1}{2} \cdot \frac{1 \cdot 1 \cdot 3 \cdot 5}{7!} \sqrt{\pi} \cdot \frac{1 \cdot 3 \cdot 5 \cdot 7}{2^4} \sqrt{\pi} = \frac{5\pi}{2^{12}}. \end{aligned}$$

г) Введем замену $1/x = e^y$. Тогда

$$I_4 = \int_0^1 \ln^p(1/x) dx = \int_0^{\infty} y^p e^{-y} dy = \Gamma(p+1). \quad \blacktriangle$$

4.35. Вычислить:

1) $\int_0^{\pi} \frac{dt}{\sqrt{3-\cos t}}$. **Отв.:** $\frac{(3,6256)^2}{4\sqrt{\pi}}$. • Подстановка $\cos t = 1 - 2\sqrt{u}$.

2) $\int_0^1 \frac{dx}{\sqrt{1-\sqrt[5]{x^2}}}$. **Отв.:** $\frac{15\pi}{16}$. • Подстановка $x^{2/5} = t$.

3) $\int_0^{\pi/2} \sin^5 4x \cos^4 2x dx$. **Отв.:** $\frac{8}{105}$.

4) $\int_0^a x^{2n} \sqrt{a^2 - x^2} dx, a > 0$. **Отв.:** $\frac{(4n-1)!! \pi a^{2n+1}}{(2n+1)! 2^{2n+3}}$. • Замена $x^2/a^2 = t$.

5) $\int_0^{\infty} \frac{x^{a-1}}{1+x^6} dx$. **Отв.:** $\frac{\pi}{b \sin(a\pi/b)}$. • Подстановка $(1+x^b)/x^b = 1/y$.

6) $\int_0^{\pi/2} \sqrt{tgx} dx$. **Отв.:** $\frac{\pi}{\sqrt{2}}$. • Замена $tgx = u^2$.

4.36. Выразить $I = \int_0^{\pi/2} \sin^n x dx$ через гамма-функцию.

$$\text{Отв.}: I = \frac{\sqrt{\pi}}{2} \cdot \frac{\Gamma((n+1)/2)}{\Gamma((n+2)/2)}.$$

Самостоятельная работа
«Интегральное исчисление функций одной переменной»
Структура

1. Найти интегралы.
2. Вычислить определенные интегралы.
- 3-5. Найти площадь фигуры.
6. Найти объем тела вращения.
7. Найти поверхность тела вращения.
8. Найти центр тяжести линии.
9. Найти статические моменты кривой.
10. Задача с физическим содержанием.
- 11-12. Исследовать на сходимость несобственный интеграл и в случае сходимости вычислить его.
13. Найти главное значение несобственного интеграла.

Вариант 1

1. а) $\int \frac{(x^2 + 1)dx}{(x^3 + 3x + 1)^2}$; б) $\int \frac{\ln x dx}{x^2}$; в) $\int \sqrt{a^2 - x^2} x dx$;

г) $\int \frac{(x^3 + 1)}{x(x^2 + x + 1)^2} dx$; д) $\int \frac{\sqrt{x+1} + 1}{\sqrt{x+1} - 1} dx$; е) $\int \frac{\sqrt[3]{1+4x}}{\sqrt{x}} dx$;

ж) $\int \sqrt{4x^2 - 2x + 1} dx$; з) $\int \frac{dx}{\sin x + \cos x}$.

Отв.: а) $-1/(3(x^3 + 3x + 1)) + C$; б) $-\frac{1}{x} \ln x - \frac{1}{x} + C$; в) $-\frac{1}{3}(a^2 - x^2)^{3/2}$;

г) $\frac{2(1-x)}{3(x^2+x+1)} + \ln|x| - \frac{1}{2} \ln(x^2+x+1) - \frac{1}{3\sqrt{3}} \operatorname{arctg} \frac{2x+1}{\sqrt{3}} + C$;

д) $x + 4\sqrt{x+1} + 4 \ln|\sqrt{x+1} - 1| + C$; е) $\frac{3}{7} t^4 (4t^3 - 7) + C$, где

$t = \sqrt[3]{1+4x}$;

ж) $\left(x - \frac{1}{4}\right) \sqrt{x^2 - \frac{x}{2} + \frac{1}{4}} + \frac{3}{16} \ln \left|x - \frac{1}{4} + \sqrt{x^2 - \frac{x}{2} + \frac{1}{4}}\right| + C$;

з) $\frac{\sqrt{2}}{2} \ln \left| \operatorname{tg} \left(\frac{\pi}{8} + \frac{x}{2} \right) \right| + C$;

2. а) $\int_0^5 \sqrt{25 - x^2} dx$; б) $\int_0^a x^2 \sqrt{x^2 - a^2} dx$; в) $\int_0^{\pi/b} e^{ax} \sin bx dx$;

$$\Gamma) \int_0^{\pi/2} \sin 2x (\operatorname{arctg} \sin x) dx.$$

Отв.: а) $25\pi/4$; б) $\ln(4/3)$; в) $b(e^{a\pi/b} + 1)/(a^2 + b^2)$; г) $\pi/2 - 1$.

3. а) D - фигура ограниченная кривыми $y^2 = x$, $xy = 8$ и отрезком AB где $A = (8, 1)$ принадлежит гиперболе, а $B = (8, -\sqrt{2})$ - параболы.

б)* D - фигура, ограниченная дугой эвольвенты окружности $x = a(\cos t + t \sin t)$, $y = a(\sin t - t \cos t)$, $0 \leq t \leq 2\pi$, и с концами $(a, 0)$ и $(a, -2\pi a)$.

в) Найти площадь лемнискаты $\rho^2 = 2a^2 \cos 2\varphi$.

Отв.: а) $\frac{16}{3}(1 + 2\sqrt{2} + 1,5 \ln 2)$; б) $a^2(4\pi^3 + 3\pi)/3$; в) $2a^2$.

4. а) $y = \ln(x - \sqrt{x^2 - 1})$, $1 < a \leq x \leq b$;

б) $x = a \cos^3 t$, $y = b \sin^3 t$, $0 \leq t \leq t_0 \leq \pi/2$, $a \neq b$;

в) $\rho = a(1 - \cos \varphi)$, $-\pi/2 \leq \varphi \leq -\pi/6$.

Отв.: а) $\sqrt{b^2 - 1} - \sqrt{a^2 - 1}$; б) $\left((a^2 \cos^2 t_0 + b^2 \sin^2 t_0)^{3/2} - a^3 \right) / (b^2 - a^2)$

в) 2а.

5. $x = a(1 + \cos t)$, $y = a(t - \sin t)$, $z = 4a \sin(t/2)$, $0 \leq t \leq t_0$.

6. а) Тело образовано вращением вокруг оси X вокруг фигуры:

$$y = 1/\sqrt[4]{x}, \quad y = 0, \quad x = 1/4, \quad x = 1.$$

б) Тело образовано вращением вокруг оси Y фигуры:

$$y = 2x - x^2, \quad y = 0.$$

в) Тело образовано вращением вокруг полярного луча фигуры:

$$0 \leq \rho \leq a \cos^2 \varphi.$$

г) Тело образовано вращением вокруг оси X фигуры:

$$x = a(t - \sin t), \quad y = a(1 - \cos t), \quad 0 \leq t \leq 2\pi, \quad y = 0.$$

Отв. а) $\pi a^3/2$; б) $8\pi/3$; в) $4\pi a^3/21$; г) $5\pi^2 a^3$.

7. а) Кривая $x = \frac{1}{4}y^2 - \frac{1}{2} \ln y$, $1 \leq y \leq l$; вращается вокруг оси Y .

б) Кривая $y = \left(\arcsin x + x\sqrt{1-x^2} \right) / 2$, $0 \leq x \leq 1$, вращается вокруг оси X .

в) Кривая $x = a(3 \cos t - \cos 3t)$, $y = a(3 \sin t - \sin 3t)$, $0 \leq t \leq \pi/2$ вращается вокруг оси X .

Отв. а) $\pi(l^3 + 3l - 3)$; б) $2\pi(2\sqrt{2} - 1)/3$; в) $18\pi^2 a^2$.

8. Найти центр тяжести полуокружности $x^2 + y^2 = a^2$, расположенной над осью X .

Отв. $(0, 2a/5)$.

9. Найти статические моменты M_x и M_y кривой относительно осей X и Y соответственно:

- а) $y^2 = 2x, 0 \leq x \leq 2$;
 б) $x = \arcsin t, y = b \cos t, 0 \leq t \leq \pi/2, a > b$;
 в) $\rho = 2a \cos \varphi, 0 \leq \varphi \leq \pi/2$.

Отв. а) $M_x = 0, M_y = \frac{9\sqrt{5}}{4} + \frac{1}{2}(\ln 2 + \sqrt{5})$;

б) $M_x = \frac{ab}{2e}(e\sqrt{1-e^2} + \arcsin e), M_y = \frac{a^2}{2}\left(1 + \frac{1-e^2}{2e} \ln \frac{1+e}{1-e}\right)$;

в) $M_x = 2a^2, M_y = \pi a^2$.

10.* а) Вычислить работу, которую необходимо затратить на выкачивание воды из правильной четырехугольной пирамиды со стороной 5м (удельный вес воды $9,81 \text{ кН/м}^3, \pi = 3,14$); результат округлить до целого числа.

б) Вычислить силу давления воды на пластину, вертикально погруженную в воду (рис. П1) считая, что удельный вес воды равен $9,81 \text{ кН/м}^3$ результат округлить до целого числа.

Отв.: а) 245 кДж; б) 22кН.

11. а) $\int_{-\infty}^{\infty} \frac{dx}{x^2 + 2x + 5}$; б) $\int_1^2 \frac{dx}{\sqrt{4x - x^2 - 3}}$.

Отв.: а) $\pi/2$; б) $\pi/2$.

12. а) $\int_1^{\infty} \frac{1 - 4 \sin 2x}{x^3 + \sqrt[3]{x}} dx$; б) $\int_0^1 \frac{x^2 dx}{\sqrt[3]{(1-x^2)^5}}$.

Отв.: а) сх. абс.; б) расх.

13. а) $\int_0^{\pi} x \operatorname{tg} x dx$; б) $\int_{-\infty}^{\infty} \frac{13+x}{17+x^2} dx$.

Отв.: а) $-\pi \ln 2$; б) $13\pi/\sqrt{17}$

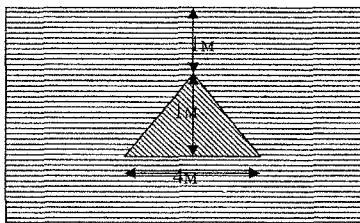


Рис. П 1

Вариант 2

1. а) $\int \frac{12x-14}{(3x^2-7x+11)^3} dx$; б) $\int \frac{x^2+1}{e^{2x}} dx$; в) $\int \frac{dx}{x\sqrt{x^2-1}}$;

г) $\int \frac{x^3+3}{(x+1)(x^2+1)^2} dx$; д) $\int \frac{\sqrt{x+1}+2}{(x+1)^2-\sqrt{x+1}} dx$;

е) $\int x^5 \sqrt{(1+x^3)^2} dx$; ж) $\int \sqrt{3+2x-x^2} dx$; з) $\int \frac{dx}{2\sin x + \cos x + 3}$.

Отв.: а) $-\frac{1}{(3x^2 - 7x + 11)^2} + C$; б) $C - e^{-2x} \left(\frac{x^2}{2} + \frac{x}{2} + \frac{3}{4} \right)$;

в) $\arccos \frac{1}{x} + C$; г) $\frac{x+2}{2(x^2+1)} + \frac{1}{2} \ln|x+1| - \frac{1}{4} \ln(x^2+1) + 2 \operatorname{arctg} x + C$;

д) $\ln \left| \frac{(\sqrt{x+1}-1)^2}{(x+2)+\sqrt{x+1}} \right| - \frac{2}{\sqrt{3}} \operatorname{arctg} \frac{2\sqrt{1+x}+1}{\sqrt{3}} + C$;

е) $\frac{1}{8} \sqrt[3]{(1+x^3)^8} - \frac{1}{5} \sqrt[3]{(1+x^3)^5} + C$;

ж) $-\frac{x-1}{2} \sqrt{3+2x-x^2} + 2 \arcsin \frac{x-1}{2} + C$; з) $\operatorname{arctg} \left(1 + \operatorname{tg} \frac{x}{2} \right) + C$.

2. а) $\int_0^2 \sqrt{4-x^2} dx$; б) $\int_1^{\sqrt{2}} \frac{x^2}{\sqrt{4-x^2}} dx$; в) $\int_{-3}^0 x \cos \frac{k\pi x}{3} dx$ ($k \in \mathbb{N}$);

г)* Решить уравнение: $\int_1^x \frac{dx}{\sqrt{2} x \sqrt{x^2-1}} = \frac{\pi}{12}$.

Отв.: а) π ; б) $\frac{\pi}{6} - 1 + \frac{\sqrt{3}}{2}$; в) $\frac{9}{(k\pi)^2} (1 - (-1)^k)$; г) $x = 2$.

3. а) D — фигура, ограниченная кривыми $y = \frac{4}{x}$; ... ; $y = 2x$

б) $\begin{cases} x = 3 \cos t, & y = 4\sqrt{3}; \\ y = 8 \sin t, \end{cases}$

в)* Вычислить площадь фигуры, ограниченной линиями:

$$x^2 + y^2 = 2y; \quad x^2 + y^2 = 4y; \quad y = x; \quad y = -x.$$

Отв.: а) 1,5; б) $4\pi - 6\sqrt{3}$; в) $\frac{3\pi}{2} + 3$.

4. а) Найти длину дуги кривой $y = \ln(1-x^2)$ (от начала координат до точки $B\left(\frac{1}{2}; \ln \frac{3}{4}\right)$).

б) $\begin{cases} x = R(\cos t + t \sin t), & 0 \leq t \leq \pi; \\ y = R(\sin t - t \cos t), \end{cases}$

в) Найти длину дуги гиперболической спирали $r = \frac{1}{\varphi}$ (от $\varphi_1 = \frac{3}{4}$

$\varphi_2 = \frac{4}{3}$).

Отв.: а) $\ln 3 - 0,5$; б) $\frac{\pi^2 R}{2}$; в) $\ln \frac{3}{2} + \frac{5}{12}$.

5. Найти длину первого витка винтовой линии $\begin{cases} x = a \cos t, & 0 \leq t \leq 2\pi. \\ y = a \sin t, \\ z = bt. \end{cases}$

Отв.: $2\pi\sqrt{a^2 + b^2}$.

6. а) Тело образовано вращением вокруг оси X фигуры

$$(x+1)^2 + y^2 = 4; y = x + 3;$$

б) Тело образовано вращением вокруг оси Y фигуры $y^2 = x^3$;

$$x + y = 2; x = 0;$$

в) Тело образовано вращением вокруг полярного луча фигуры

$$r = 2R \cos \varphi;$$

г) Тело образовано вращением вокруг оси X фигуры $x = t^2 - 1$;

$$y = t^3 - t.$$

Отв.: а) $\frac{8\pi}{3}$; б) $\frac{2\pi}{21}$; в) $\frac{4\pi}{3}R^3$; г) $\frac{\pi}{12}$.

7. а) Кривая $y^2 = 4 + x$ вращается вокруг оси X . (Дуга кривой отсекается прямой $x = 2$).

б) Кривая $x = chy(\ln 2 \leq y \leq \ln 3)$ вращается вокруг оси Y ;

в) Кривая $x = e^t \sin t; y = e^t \cos t; 0 \leq t \leq \frac{\pi}{2}$, вращается вокруг оси

X .

Отв.: а) $\frac{62\pi}{3}$; б) $\pi \left(185 + 144 \ln \frac{3}{2} \right) / 144$; в) $\frac{2\pi\sqrt{2}}{5}(e^\pi - 2)$.

8. Найти координаты центра тяжести дуги кривой $y = ach \frac{x}{a}$, содержащейся между точками $x_1 = -a, x_2 = a$.

Отв.: $x_c = 0, y_c = a \frac{e^4 + 4e^2 - 1}{4e(e^2 - 1)}$.

9. Найти статические моменты M_x и M_y кривой относительно осей X и Y соответственно:

а) $y^2 = 4x, 0 \leq x \leq 4$; б) $x = a \cos^3 t, y = a \sin^3 t; 0 \leq t \leq \pi$;

в) $\rho = 2a \sin \varphi, 0 \leq t \leq \pi$.

Отв.: а) $M_x = 0; M_y = 5\sqrt{5} + \frac{1}{2} \ln(4 + 2\sqrt{5})$; б) $M_x = \frac{3a^2}{5}; M_y = 0$;

в) $M_x = \pi a^2; M_y = 2a^2$.

10. а) Пластинка в форме прямоугольного треугольника с катетами a и b опущена вертикально в жидкость плотностью ρ так, что катет a находится на поверхности жидкости. Найти силу давления на пластинку.

б) Котел имеет форму параболоида вращения. Радиус его основания $R=3\text{ м}$, глубина $H=5\text{ м}$. Котел наполнен жидкостью, плотность которой $\rho=0,8\text{ г/см}^3$. Вычислить работу, которую нужно произвести, чтобы выкачать жидкость из котла.

Отв.: а) $\frac{\rho g a b^2}{6}$; б) $\approx 294300\text{ Дж}$.

11. а) $\int_{-\infty}^{\infty} \frac{dx}{x^2 + 2x + 2}$; б) $\int_2^6 \frac{dx}{\sqrt[3]{(4-x)^2}}$. Отв. а) π ; б) $6\sqrt[3]{2}$

12. Исследовать на сходимость несобственный интеграл:

а) $\int_2^{+\infty} \frac{\sin^3(2x)x^2}{x^4 - \sqrt[4]{x^5}} dx$; б) $\int_0^{\frac{\pi}{4}} \frac{\cos x}{x\sqrt{x}} dx$. Отв. а) сх.; б) сх.

13. а) $\int_{-\infty}^{+\infty} \frac{2x dx}{x^2 + 1}$; б) $\int_{-\pi}^{\pi} \frac{\sin\left(\frac{1}{4x}\right)}{x^2} dx$. Отв. а) 0; б) 0.

Вариант 3

1. а) $\int \frac{x-4}{(x^2-8x+25)^4} dx$; б) $\int x \ln(x-1) dx$; в) $\int \frac{dx}{x\sqrt{1-6\ln x}}$;

г) $\int \frac{dx}{x^3 - 4x^2 + 5x - 2}$; д) $\int \frac{dx}{\sqrt{x+1} + \sqrt{(x+1)^3}}$;

е) $\int \frac{dx}{\sqrt{x^3} \sqrt{1 + \sqrt[4]{x^3}}}$; ж) $\int \sqrt{2x^2 + 2x + 5} dx$; з) $\int \frac{dx}{5-3\cos x}$

Отв.: а) $\frac{-1}{6(x^2-8x+25)^3} + C$; б) $\frac{x^2-1}{2} \ln|x-1| - \frac{x^2}{4} - \frac{x}{2} + C$;

в) $\frac{-1}{3} \sqrt{1-6\ln x} + C$; г) $\frac{1}{x-1} + \ln \left| \frac{x-2}{x-1} \right| + C$; д) $2 \arctg \sqrt{x+1} + C$;

е) $2\sqrt[3]{\frac{\sqrt[4]{x^3+1}}{\sqrt[4]{x^3}}} + C$;

ж) $\frac{\sqrt{2}}{2} \left(x + \frac{1}{2} \right) \sqrt{x^2 + x + \frac{5}{2}} + \frac{9}{4} \ln \left(x + \frac{1}{2} + \sqrt{x^2 + x + \frac{5}{2}} \right) + C$, где $C = \sqrt{2}C_1$;

з) $\frac{1}{2} \arctg \left(2 \operatorname{tg} \frac{x}{2} \right) + C$.

$$2. \text{ а) } \int_0^4 \sqrt{16-x^2} dx. \quad \text{б) } \int_0^{3\sqrt{2}} x^2 \sqrt{18-x^2} dx. \quad \text{в) } \int_0^{\pi/4} x \operatorname{tg}^2 x dx.$$

г)* Решить уравнение: $\int_0^x \frac{x dx}{\sqrt{(x^2+9)^3}} = \frac{1}{12}.$

Отв.: а) 4π ; б) $\frac{9\pi}{4}$; в) $\frac{\pi}{4} + \ln \frac{\sqrt{2}}{2} - \frac{\pi^2}{32}$; г) $\sqrt{7}$.

3. а) D - фигура, ограниченная кривыми: $x = y^3$, $y = 2$, $x = 0$;
 б) $x = 3 \cos^3 t$, $y = 3 \sin^3 t$;
 в) $y^2 - 6y + x^2 = 0$, $y^2 - 10y + x^2 = 0$, $y = -x$, $x = 0$.

Отв.: а) 4; б) $\frac{27\pi}{8}$; в) $8\pi + 64$.

4. а) $x = \frac{1}{4}y^2 - \frac{1}{2}\ln y$ (от $y_1 = 1$ до $y_2 = e$);
 б) $x = 3(\cos t + t \sin t)$, $y = 3(\sin t - t \cos t)$, $0 \leq t \leq \pi/3$;
 в) $\rho = 2e^{4\varphi/3}$, $-\pi/2 \leq \varphi \leq \pi/2$.

Отв.: а) $\frac{1}{4}(e^2 + 1)$; б) $\frac{\pi^2}{6}$; в) $\frac{5}{2} \left(\frac{e^{4\pi/3} - 1}{e^{2\pi/3}} \right)$.

5. Найти длину кривой

$$\begin{cases} x = 4 \cos t, & 0 \leq t \leq 2\pi. \\ y = 4 \sin t, \\ z = t. \end{cases}$$

Отв.: $2\pi\sqrt{17}$.

6. а) Вокруг оси X : $y = 4x - x^2$, $y = x$;
 б) Вокруг оси Y : $x^2 - y^2 = 1$, $x = 2$;
 в) Вокруг полярной оси: $\rho = \sqrt{3} \cos 3\varphi$ (одного лепестка);
 г) Вокруг оси X : $x = \sqrt{3}t^2$, $y = \sqrt{3}(t - t^3/3)$.

Отв.: а) $21,6\pi$; б) $4\sqrt{3}\pi$; в) $\frac{\sqrt{2}\pi}{9}$; г) $4\sqrt{3}\pi$.

7. а) Вокруг оси X : $y = x^3$ ($0 \leq x \leq 1$).

б) Вокруг оси Y : $\frac{x^2}{16} + \frac{y^2}{4} = 1$.

в) Вокруг оси X : $x = 4 \cos t$, $y = 2 \sin t$.

Отв. а) $\pi(10^{3/2} - 1)/27$; б) $32\pi\sqrt{3} + 16\pi \ln(\sqrt{3} + 2)$; в) $8\pi + \frac{32\pi}{\sqrt{3}} \arcsin \frac{\sqrt{3}}{2}$.

8. Найти координаты центра тяжести дуги кривой $y = \pi ch \frac{x}{\pi}$,

$-\pi \leq x \leq \pi$. Отв.: $x_c = 0$, $y_c = \frac{\pi(e^4 + 4e^2 - 1)}{4e(e^2 - 1)}$.

9. Найти статические моменты M_x и M_y кривой относительно осей X и Y соответственно.

а) $6y = x^2$, $0 < y < 6$. Отв: $M_x = \frac{81\sqrt{5}}{4} - \frac{9}{8} \ln(6 + 3\sqrt{5})$, $M_y = 0$.

б) $x = \sqrt{3} \cos^3 t$, $y = \sqrt{3} \sin^3 t$, $0 \leq t \leq \pi/2$. Отв: $M_x = M_y = \frac{9}{5}$.

в) $\rho = 6 \cos \varphi$; $0 \leq \varphi \leq \frac{\pi}{4}$. Отв: $M_x = 9$, $M_y = \frac{9}{2}\pi + 9$.

10. а) Вычислить работу, которую надо затратить, чтобы выкачать воду из котла, имеющего форму параболоида вращения. Радиус основания 4м, высота 3м.

б) Определить давление воды на вертикальный прямоугольный шлюз с основанием 8м и высотой 6м. Определить также давление на нижнюю половину шлюза.

Отв.: а) 24π кДж; б) 144 гкН и 108 гкН.

11. а) $\int_1^{+\infty} \frac{dx}{x^2(x+1)}$; б) $\int_0^{2,5} \frac{dx}{x^2 - x + 6}$. Отв.: а) $1 - \ln 2$; б) расх.

12. а) $\int_1^{+\infty} \frac{\sqrt{x+1} - \sqrt{x-1}}{x} dx$; б) $\int_0^{4\pi} \frac{\cos x}{\sqrt[3]{x^2}} dx$. Отв. а) сх.; б) сх. абс.

13. а) $\int_2^6 \frac{dx}{(x-5)^5}$; б) $\int_{-\infty}^{+\infty} \frac{dx}{ch^2 x}$. Отв. а) $\frac{20}{81}$; б) 2.

Вариант 4

1. а) $\int \frac{2x - x^2}{(3x^2 - x^3)^4} dx$; б) $\int (x^2 - 2x + 5)^{-x} dx$; в) $\int \frac{dx}{x(2 + \ln x)}$;

г) $\int \frac{x^3 - 2x + 2}{(x-1)^2(x^2+1)} dx$; д) $\int \frac{x^2 + \sqrt{1+x}}{\sqrt[3]{1+x}} dx$; е) $\int \frac{dx}{x^2(2+x^3)^{5/3}}$;

ж) $\int \sqrt{5+4x-x^2} dx$; з) $\int \frac{dx}{3\sin x - 4\cos x}$.

Отв.: а) $\frac{-1}{6(3x^2 - x^3)^3} + C$; б) $-e^{-x}(x^2 + 5) + C$; в) $\ln|2 + \ln x| + C$;

$$\text{г)} \frac{-1}{2(x-1)} + \frac{1}{2} \ln(x^2 + 1) + \frac{3}{2} \operatorname{arctg} x + C; \quad \text{д)} \frac{1}{3}(1+x)^3 + (1+x)^2 + (1+x) + C;$$

$$\text{е)} -\frac{1}{8} \frac{4+3x^3}{x^3 \sqrt{(2+x^3)^2}} + C; \quad \text{ж)} \left(\frac{x-1}{2}\right) \sqrt{5+4x-\frac{x^2}{\sqrt{3}}} + \frac{9}{2} \arcsin \frac{x-2}{3} + C;$$

$$\text{з)} \frac{1}{5} \ln \left| \frac{\operatorname{tg} \frac{x-1}{2}}{\operatorname{tg} \frac{x}{2} + \frac{1}{2}} \right| + C.$$

$$2. \quad \text{а)} \int_0^{\sqrt{3}} \sqrt{3-x^2} dx. \quad \text{б)} \int_0^3 x^2 \sqrt{9-x^2} dx. \quad \text{в)} \int_{-25}^{25} x^2 \operatorname{arctg} x dx.$$

$$\text{г)* Решить уравнение: } \int_1^x \frac{dx}{\sqrt{2x-x^2}} = \frac{\pi}{6}.$$

$$\text{Отв.: а)} \frac{3\pi}{4}; \quad \text{б)} \frac{81\pi}{16}; \quad \text{в)} 0; \quad \text{г)} \frac{3}{2}.$$

$$3. \quad \text{а)} D - \text{фигура, ограниченная кривыми: } y = x^2 + 1; y = x + 3;$$

$$\text{б)} x = 2(t - \sin t), y = 2(1 - \cos t), y = 2;$$

$$\text{в)* } y^2 - 8y + x^2 = 0, y^2 - 10y + y^2 = 0, y = \frac{x}{\sqrt{3}}, y = \sqrt{3}x.$$

$$\text{Отв.: а)} 4,5; \quad \text{б)} 2\pi + 16; \quad \text{в)} 6\pi.$$

$$4. \quad \text{а)} y = \frac{x^2}{4} - \frac{\ln x}{2}, 1 \leq x \leq 2;$$

$$\text{б)} x = t, y = \ln(1-t^2), 0 \leq t \leq 0,5;$$

$$\text{в)} \rho = 2(1 + \sin \varphi), \pi/2 \leq \varphi \leq 3\pi/2.$$

$$\text{Отв.: а)} \frac{3}{4} + \frac{1}{2} \ln 2; \quad \text{б)} \ln 3 - 0,5; \quad \text{в)} 8.$$

$$5. x = R(1 + \cos t), y = R(t - \sin t), z = 4R \sin(t/2), 0 \leq t \leq 2\pi.$$

$$\text{Отв. } 4R\pi.$$

$$6. \quad \text{а)} \text{Вокруг оси } X: x^2 = 2y - 4, y = 4;$$

$$\text{б)} \text{Вокруг оси } Y: 4y = 4 - x^2, 2y = 3\sqrt{4 - x^2};$$

$$\text{в)} \text{Вокруг полярной оси: } \rho = 2R \cos^2 \varphi;$$

$$\text{г)} \text{Вокруг оси } X: x = \sqrt{2}(t - \sin t), y = \sqrt{2}(1 - \cos t) \text{ (одну арку).}$$

$$\text{Отв.: а)} 512\pi/15; \quad \text{б)} 6\pi; \quad \text{в)} \frac{32\pi}{21}; \quad \text{г)} 10\sqrt{2}\pi^2.$$

$$7. \quad \text{а)} \text{Вокруг оси } X: y = \sin x, 0 \leq x \leq \pi.$$

$$\text{б)} \text{Вокруг оси } Y: x = 2 + chy, 0 \leq y \leq 1.$$

в) Вокруг оси X : $x = \sqrt{5} \cos^3 t$, $y = \sqrt{5} \sin^3 t$, $0 \leq t \leq 2\pi$.

Отв.: а) $2\pi(\sqrt{2} + \ln(1 + \sqrt{2}))$; б) $\frac{\pi(8e^3 + e^4 + 4e^2 - 8e - 1)}{e^2}$; в) 12π .

8. Найти координаты центра тяжести дуги полуокружности относительно оси Y : $x^2 + y^2 = 25$. **Отв.:** $x_c = \frac{10}{\pi}$, $y_c = 0$.

9. Найти статические моменты относительно оси X и Y соответственно

а) $4y^3 = x$, $0 \leq y \leq 1$.

Отв.: $M_x = \frac{\sqrt{145}}{4} + \frac{1}{48} \ln\left(1 + \frac{\sqrt{145}}{12}\right)$, $M_y = \frac{1}{216}(145\sqrt{145} - 1)$.

б) $x = 3\cos t$, $y = 2\sin t$, $0 \leq t \leq \pi/2$.

Отв.: $M_x = 2 + \frac{9}{15} \arcsin \frac{\sqrt{5}}{3}$, $M_y = \frac{9\sqrt{5}}{2} + 6 \ln 4$.

в) $\rho = \sqrt{2} \cos \varphi$, $0 \leq \varphi \leq \pi/4$.

Отв.: $M_x = \frac{1}{2}$, $M_y = \frac{\pi}{4} + \frac{1}{2}$.

10. а) Найти работу, которую нужно затратить, чтобы выкачать жидкость плотностью 900 кг/м^3 из цистерны, боковая поверхность которой имеет форму параболического цилиндра, высота цистерны 2 м, длина 8 м, ширина 4 м.

б) Найти силу давления воды на вертикальный прямоугольный шлюз с основанием 18 м и высотой 6 м. Плотность воды $\rho = 1000 \text{ кг/м}^3$.

Отв.: а) 30720 Дж; б) $\approx 3178 \text{ кН}$.

11. а) $\int_{-\infty}^{+\infty} \frac{x^2 dx}{x^5 + 6}$; б) $\int_3^6 \frac{dx}{x^2 - 7x + 10}$. **Отв.:** а) $\frac{\pi}{3\sqrt{6}}$; б) рас

12. а) $\int_2^{+\infty} \frac{x dx}{\sqrt[3]{x^7 - x^5}}$; б) $\int_0^1 \sin \frac{1}{1-x} \frac{dx}{\sqrt{1-x}}$. **Отв.:** а) сх.; б) сх. абс.

13. а) $\int_1^3 \frac{dx}{(2x-3)^2}$; б) $\int_{-\infty}^{+\infty} \frac{y^3 dy}{3y^4 + 4}$. **Отв.:** а) 8/9; б) 0.

Вариант 5

1. а) $\int \frac{14x-7}{(1+x-2x^2)^3} dx$; б) $\int x \cos 3x dx$; в) $\int x \sqrt{2x^2 + 5} dx$;

г) $\int \frac{x^3 + 3}{(x+1)(x^2+1)^2} dx$; д) $\int \frac{x-1}{\sqrt{2x-1}} dx$; е) $\int x^3 (1+2x^2)^{-3/2} dx$;

ж) $\int \sqrt{x^2 + 4x} dx$; з) $\int \frac{\cos x dx}{(1 - \cos x)^2}$.

Отв.: а) $\frac{7}{2(x - 2x^2 + 1)^2} + C$; б) $\frac{1}{9}(3x \sin 3x + \cos 3x) + C$;

в) $\frac{1}{6}(2x^2 + 5)^{3/2} + C$; г) $\frac{x+2}{2(x^2+1)} + \frac{1}{2} \ln|x^2+1| + 2 \operatorname{arctg} x + C$;

д) $\frac{1}{2} \left(\frac{1}{3} \sqrt{(2x-1)^3} - \sqrt{2x-1} \right) + C$; е) $\frac{1}{2} \cdot \frac{1+x^2}{\sqrt{1+2x^2}} + C$;

ж) $\left(\frac{x}{2} + 1 \right) \sqrt{x^2 + 4x} - 2 \ln|x+2 + \sqrt{x^2 + 4x}| + C$; з) $\frac{1}{2} \operatorname{ctg} \frac{x}{2} - \frac{1}{6} \operatorname{ctg}^3 \frac{x}{2} + C$.

2. а) $\int_0^8 \sqrt{64 - x^2} dx$. б) $\int_0^{\sqrt{2}} \sqrt{2 - x^2} dx$. в) $\int_{\sqrt{2}}^3 x \ln(x^2 - 1) dx$.

г) Решить уравнение: $\int_1^x \frac{e^{\sqrt{x}}}{\sqrt{x}} dx = 2e(e-1)$.

Отв.: а) 16π ; б) $\frac{\pi}{4}$; в) $4 \ln 8 - 3,5$; г) 2.

3. а) D - фигура, ограниченная кривыми: $y = x^2 - 2x - 3$, $y = 0$;

б) $x = \sqrt{3}(t - \sin t)$, $y = \sqrt{3}(1 - \cos t)$, $y = \sqrt{3}$;

в)* $x^2 + y^2 = 2x$, $x^2 - 8x - y^2 = 0$, $y = x$, $y = -x$.

Отв. а) $10\frac{2}{3}$; **б)** $\frac{3\pi}{2} + 12$; **в)** $\frac{15\pi + 30}{2}$.

4. а) $y = \sqrt{x^3}$, $0 \leq x \leq 5$;

б) $x = 4(\cos t + t \sin t)$, $y = 4(\sin t - t \cos t)$, $0 \leq t \leq \pi$;

в) $r = 4e^\varphi$ (логарифмическая спираль; от $A(4;0)$ и $B(4e^\pi; \pi)$).

Отв. а) $\frac{335}{27}$; **б)** $2\pi^2$; **в)** $4\sqrt{2}(e^\pi - 1)$.

5. Найти длину кривой:

$$\begin{cases} x = \sqrt{2} \cos t, & 0 \leq t \leq \pi/6. \\ y = \sqrt{2} \sin t, \\ z = \sqrt{2} t. \end{cases}$$

Отв.: $\pi/3$.

6. а) Вокруг оси X : $y = e^x$, $x = 2$.

б) Вокруг оси Y : $y = 1/(1+x^2)$, $x = 1$, $x = 0$, $y = 0$.

в) Вокруг полярной оси: $\rho = 2\sqrt{3} \cos 3\varphi$ (одного лепестка).

г) Вокруг оси X : $x = \cos t$, $h = 2 \sin t$.

Отв.: а) $\pi(e^4 - 1)/2$; б) $\pi \ln 2$; в) $\frac{4\sqrt{3}}{3}\pi$; г) $\frac{16\pi}{3}$.

7. а) Вокруг оси $X: y = tg x, 0 \leq x \leq \pi/4$.

б) Вокруг оси $Y: \frac{x^2}{25} + \frac{y^2}{16} = 1$.

в) Вокруг оси $X: x = 3 \cos t - 3 \cos 3t, y = 2 \sin t - \sin 3t, 0 \leq t \leq \pi/2$.

Отв.: а) $\pi \left(\sqrt{5} - \sqrt{2} + \ln \frac{\sqrt{5}-1}{2\sqrt{2}-2} \right)$; б) $75\pi + 80\pi \cdot \ln 2$; в) $18\pi^2$.

8. Найти координаты центра тяжести дуги кривой (верхней части полуокружности: $x^2 + y^2 = 2$).

Отв.: $x_c = 0, y_c = \frac{2\sqrt{2}}{\pi}$.

9. а) $8y = x^2, 0 \leq y \leq 8$. Отв.: $M_x = 36\sqrt{5} - \frac{1}{2} \ln(8 + 4\sqrt{5}), M_y = 0$.

б) $x = \sqrt{5} \cos^3 t, y = \sqrt{5} \sin^3 t, 0 \leq t \leq \pi/2$. Отв. $M_x = M_y = 3$.

в) $\rho = 8 \cos \varphi, 0 \leq \varphi \leq \pi/4$. Отв. $M_x = 16, M_y = 8\pi + 16$.

10. а) Какую работу нужно затратить на выкачивание воды из цилиндрического бассейна с радиусом основания 0,5 м, если в начальный момент уровень воды бассейне был равным 2,8 м, что на 0,2 м ниже выпускающего водоструерия в цилиндре?

б) Определить давление воды на вертикальный параболический сегмент основания которого равно 4 м и расположено на поверхности воды, а вершина находится на глубине 4 м.

Отв.: а) $1200\pi g$ Дж; б) 167000 Н.

11. а) $\int_{-\infty}^{+\infty} x e^{2-3x^2} dx$; б) $\int_1^2 \frac{x dx}{\sqrt{x-1}}$. Отв.: а) 0; б) $8/3$.

12. а) $\int_0^{+\infty} \frac{x \sin \pi x}{x^2 + 2x + 2} dx$; б) $\int_0^{\pi/2} \frac{\sqrt{1 + \cos^2 x}}{\cos^2 x} dx$. Отв. а) см. усл.; б) расх.

13. а) $\int_0^2 \frac{x dx}{4x^2 - 1}$; б) $\int_{-\infty}^{+\infty} x^2 \cos x^3 dx$. Отв.: а) $\frac{1}{8} \ln 15$; б) не существует.

Вариант 6

1. а) $\int \frac{5x^2 - 1}{(5x^3 - 3x + 4)^2} dx$; б) $\int x^2 \ln(1+x) dx$;

в) $\int \frac{\ln x - 3}{x\sqrt{\ln x}} dx$;

г) $\int \frac{dx}{(x^2 - 2x)^2}$;

д) $\int \frac{dx}{\sqrt{2x+1} + \sqrt[3]{2x+1}}$;

е) $\int \frac{x^3 dx}{(a - bx^2)^{3/2}}$;

$$\text{ж)} \int \sqrt{2+4x-x^2};$$

$$\text{з)} \int \frac{dx}{2\sin x + \sin 2x}.$$

$$\text{Отв.: а)} \frac{-1}{3(5x^3-3x+4)} + C; \text{ б)} \frac{(x^2+1)\ln(1+x)}{3} - \frac{x^3}{9} + \frac{x^2}{6} - \frac{x}{3} + C;$$

$$\text{в)} \frac{2}{3}\sqrt{\ln^3|x|} - 6\sqrt{\ln|x|} + C; \text{ г)} \frac{1}{4}\ln\left|\frac{x}{x-2}\right| - \frac{1}{4x} - \frac{1}{4(x-2)} + C;$$

$$\text{д)} \sqrt{2x+1} - \frac{3}{2}\sqrt[3]{2x+1} + 3\sqrt[6]{2x+1} - 3\ln(1+\sqrt[6]{2x+1}) + C;$$

$$\text{е)} \frac{1}{b^2\sqrt{a^2-bx^2}} + C; \text{ ж)} \frac{2-x}{-\sqrt{6}}\sqrt{2+4x-x^2} - 3\arcsin\frac{2-x}{\sqrt{6}} + C;$$

$$\text{з)} \frac{1}{4}\ln\left|tg\frac{x}{2}\right| + \frac{1}{8}tg^2\frac{x}{2} + C;$$

$$2. \text{ а)} \int_0^{\sqrt{2}/2} \sqrt{\frac{1}{2}-x^2} dx.$$

$$\text{б)} \int_0^4 x^2\sqrt{16-x^2} dx.$$

$$\text{в)} \int_0^{\pi/2} \cos^3 x dx.$$

$$\text{г)* Решить уравнение: } \int \frac{dx}{x\sqrt{x^2-1}}.$$

$$\text{Отв.: а)} \frac{\pi}{8}; \text{ б)} 16\pi; \text{ в)} \frac{2}{3}; \text{ г)} \frac{2}{\sqrt{3}}.$$

$$3. \text{ а)} D - \text{фигура, ограниченная кривыми: } y^2 = 2x+1, x-y=1;$$

$$\text{б)} x=3\cos t, y=2\sin t, x=0 (x>0);$$

$$\text{в)* } x^2+y^2=2y, x^2+y^2=4y, y=x, y=0.$$

$$\text{Отв.: а)} 5\frac{1}{3}; \text{ б)} 3\pi; \text{ в)} \frac{3\pi-6}{4}.$$

$$4. \text{ а)} y = -\ln\cos x, 0 \leq t \leq \pi/2;$$

$$\text{б)} x = 3\cos^3\frac{t}{4}, y = \sin^3\frac{t}{4}, 0 \leq t \leq \pi/2;$$

$$\text{в)} \rho = 2\sin^3(\varphi/3) \text{ (всей кривой).}$$

$$\text{Отв.: а)} \ln 3; \text{ б)} \frac{9}{2}; \text{ в)} 3\pi.$$

5. Найти длину кривой:

$$x = \sqrt{3}\cos t, y = \sqrt{3}\sin t, z = t, 0 \leq t \leq \pi/4.$$

$$\text{Отв.: } \pi/2.$$

6. а) Вокруг оси X : $y = \sin x, y = 0$ (одна полуволна).

$$\text{б) Вокруг оси } Y: y = x^3, x = 2, y = 0.$$

$$\text{в) Вокруг полярной оси: } \rho = 3\cos^2\varphi.$$

$$\text{г) Вокруг оси } X: x = 2\cos^3 t, y = 2\sin^3 t.$$

Отв.: а) $\pi^2/2$; б) $12,8\pi$; в) $\frac{36\pi}{7}$; г) $\frac{188\pi}{35}$.

7. а) Вокруг оси $X: y = 2 + chx, 0 \leq x \leq 1$.

б) Вокруг оси $Y: x^2 = 4y; y = 3$.

в) Вокруг оси $X: x = 2 \cos^3 t, y = 2 \sin^3 t, 0 \leq t \leq 2\pi$.

Отв.: а) $\pi \left(2(e - e^{-1}) + \frac{e^4 - 1}{4e^2} + 1 \right)$; б) $\left(\frac{56}{3} \right) \pi$; в) $\frac{48\pi}{5}$.

8. Найти центр масс однородной арки циклоиды $x = 6(t - \sin t)$,
 $y = 6(1 - \cos t)$.

Отв.: $x_c = 6\pi, y_c = 8$.

9. Найти статические моменты кривой относительно осей X и Y соответственно:

а) $y = x^3, 0 \leq x \leq 1$.

Отв.: $M_x = \frac{5\sqrt{10}}{27} - \frac{1}{27}, M_y = \frac{\sqrt{10}}{4} + \frac{1}{12} \ln(3 + \sqrt{10})$.

б) $x = 4 \cos t, y = 2 \sin t, 0 \leq t \leq \pi/4$.

Отв.: $M_x = 2 + \frac{8\pi}{3\sqrt{3}}, M_y = 16\sqrt{3} + \frac{4\sqrt{3}}{3} \ln 5$.

в) $\rho = \sqrt{10} \cos \varphi, 0 \leq \varphi \leq \pi/2$.

Отв.: $M_x = 5, M_y = \frac{5\pi}{2}$.

10. а) Найти работу, которую необходимо затратить, чтобы выкачать жидкость плотностью 900 кг/м^3 из цистерны, боковая поверхность которой имеет форму параболического цилиндра, высота цистерны 8 м, длина 6 м, ширина 4 м.

б) Найти давление на пластинку в форме прямоугольного треугольника катетами 9 и 4 м, опущенную в жидкость с плотностью 1000 кг/м^3 так, что вершина 9 м находится на поверхности жидкости.

Отв.: а) 368640 Дж ; б) 24000 г, Н .

11. а) $\int_0^{+\infty} \frac{\arctg x \, dx}{(1+x^2)\sqrt{1+x^2}}$; б) $\int_0^2 \frac{dx}{x^2 - 4x + 3}$.

Отв.: а) $\pi/2 - 1$; б) расх.

12. а) $\int_3^{+\infty} \frac{\sqrt{2-3x^2}}{\sqrt[3]{8-x^3}} dx$; б) $\int_1^2 \frac{\sqrt{x^2-1}}{\sqrt[3]{16-x^4}} dx$.

Отв.: а) расх.; б) сх.

13. а) $\int_{-\pi}^{\pi} \frac{\sin(1/x)}{x^4} dx$; б) $\int_{-\infty}^{+\infty} \frac{1+x}{1+x^2} dx$.

Отв.: а) 0; б) π .

Вариант 7

1. а) $\int \frac{x+1}{(4x^2+8x-3)^2} dx$; б) $\int (x^2+1)e^{-2x} dx$; в) $\int \frac{x+3}{\sqrt{x^2-4}} dx$;

г) $\int \frac{dx}{x^4-x^2}$; д) $\int \frac{\sqrt{x} dx}{x(x+1)}$; е) $\int \frac{dx}{x^2 \sqrt{(1+x^2)^3}}$; ж) $\int \sqrt{x^2-2x-10} dx$;

з) $\int \frac{dx}{3 \cos^2 x + 4 \sin^2 x}$.

Отв.: а) $\frac{-1}{8(4x^2+8x-3)^2} + C$; б) $C - \left(\frac{x^2}{2} + \frac{x}{2} + \frac{3}{4} \right) e^{-2x}$;

в) $\sqrt{x^2-4} + 3 \ln|x + \sqrt{x^2-4}| + C$; г) $\frac{1}{x} + \frac{1}{2} \ln \left| \frac{x-1}{x+1} \right| + C$; д) $2 \operatorname{arctg} \sqrt{x} + C$;

е) $-\frac{2x^2+1}{x\sqrt{1+x^2}} + C$; ж) $\frac{x-1}{2} \sqrt{x^2-2x-10} - \frac{11}{2} \ln(\sqrt{x^2-2x-10} + x - 1) + C$;

з) $\frac{1}{2\sqrt{3}} \operatorname{arctg} \frac{2 \operatorname{tg} x}{\sqrt{3}} + C$.

2. а) $\int_0^7 \sqrt{49-x^2} dx$. б) $\int_0^{3/2} x^2 \sqrt{9-4x^2} dx$. в) $\int_{-1}^0 x \sin \frac{2\pi x}{3} dx$.

г) Решить уравнение $\int_0^x \frac{x dx}{\sqrt{x^2+4}} = 2\sqrt{5}$.

Отв.: а) $\frac{49\pi}{4}$; б) $\frac{81\pi}{128}$; в) $-\frac{3}{2\pi n} \cos \frac{2\pi n}{3} + \frac{9}{(2\pi n)^2} \sin \frac{2\pi n}{3}$; г) 4.

3. а) D – фигура, ограниченная кривыми: $y = \ln x$, $x=0$, $y = \ln a$, $y = \ln b$;

б) $x = 2 \cos t$, $y = 4 \sin^3 t$;

в)* $x^2 - y + y^2 = 0$; $x^2 - 10y + y^2 = 0$, $y = x$, $y = -x$.

Отв.: а) $b-a$; б) 6π ; в) $10,5\pi + 21$.

4. а) $y = \ln(1-x^2)$, $x_1 = 0$, $x_2 = \frac{1}{2}$;

б) $x = e^t \cos t$; $y = e^t \sin t$, $0 \leq t \leq \ln \pi$;

в) $\rho = 4(1 + \cos \varphi)$.

Отв.: а) $\ln\left(3 - \frac{1}{2}\right)$; б) $\sqrt{2}(\pi - 1)$; в) 32.

5. Найти длину первого витка винтовой линии:

$$\begin{cases} x = \cos t, & 0 \leq t \leq 2\pi. \\ y = \sin t, \\ z = 2t \end{cases}$$

Отв. $2\pi\sqrt{5}$.

6. а) Вокруг оси X : $\ln x$, $x=1$, $x=3$, $y=0$.

б) Вокруг оси Y : $y=1/x$, $x=2$, $x=4$, $y=0$.

в) Вокруг полярной оси: $\rho = a^2 \cos^2 \varphi$.

г) Вокруг оси X : $x = 2t^2$, $y = 2(t - t^3/3)$ (петля).

Отв.: а) $\pi(3\ln^2 3 - 6\ln 3 + 4)$; б) 4π ; в) $\frac{8\pi a^6}{21}$; г) $\frac{32\pi}{3}$.

7. а) Вокруг оси X : $y = e^{-x}$ ($0 \leq x \leq a$).

б) Вокруг оси Y : $y^2 = 2(x-1)$, $0 \leq y \leq 1$.

в) Вокруг оси X : $x = t^2 + 1$, $y = \frac{t}{3}(3 - t^2)$ (петля).

Отв.: а) $\pi\left(\sqrt{2} - \left(\sqrt{1+e^{-2a}}\right)e^{-a} - \ln \frac{e^{-a} + \sqrt{1+e^{-2a}}}{1+\sqrt{2}}\right)$;

б) $\pi(11\sqrt{2} + 7\ln(\sqrt{2} + 1))/8$; в) 3π .

8. Найти координаты центра тяжести кривой (однородной арки циклоиды) $x = 12(t - \sin t)$, $y = 12(1 - \cos t)$.

Отв.: $x_c = 12\pi$, $y_c = 16$.

9. а) $y = \frac{x^2}{2}$, $0 \leq y \leq 2$. Отв.: $M_x = \frac{9\sqrt{5}}{4} - \frac{1}{8}\ln(2 + \sqrt{5})$, $M_y = 0$.

б) $x = 3\cos^3 t$, $y = 3\sin^3 t$, $0 \leq t \leq \pi$. Отв.: $M_x = \frac{27}{5}$, $M_y = 0$.

в) $\rho = 4\cos \varphi$, $0 \leq \varphi \leq \pi/2$. Отв.: $M_x = 8$, $M_y = 4\pi$.

10. а) Вычислить работу, которую нужно затратить, чтобы выкачать воду из котла, имеющего форму параболоида вращения. Радиус основания 3 м, высота 7 м.

б) Найти силу давления, испытываемую полукругом радиусом 3 м, погруженным вертикально в воду так, что его диаметр совпадает с поверхностью воды.

Отв.: а) 735π кДж; б) $18H$.

11. а) $\int_1^{+\infty} \frac{dx}{x^2(x+1)}$; б) $\int_2^3 \frac{x dx}{\sqrt{x^2 - 4}}$. Отв.: а) $1 - \ln 2$; б) $\frac{2}{3}\sqrt{125}$.

12. а) $\int_1^{+\infty} \frac{tg \frac{1}{x}}{1+x^2\sqrt{x}} dx$; б) $\int_0^{4/\pi} \frac{dx}{\sin^2(4-\pi x)}$. Отв.: а) сж.; б) расх.

13. а) $\int_{1/2}^4 \frac{dx}{x \ln x}$; б) $\int_{-\infty}^{+\infty} \frac{e^x}{1+e^{2x}} dx$.

Отв.: а) $\ln 2$; б) $\pi/2$.

Вариант 8

1. а) $\int \frac{4x-18x^2}{(x+x^2-3x^3)^2} dx$; б) $\int \arctg \sqrt{2x-1} dx$; в) $\int \frac{dx}{x(x-1)}$;

г) $\int \frac{dx}{x^3+x}$; д) $\int \frac{x+\sqrt[3]{x^2}+\sqrt[6]{x}}{x(1+\sqrt[3]{x})} dx$; е) $\int x\sqrt{1+x^4} dx$; ж) $\int \sqrt{4x-x^2} dx$;

з) $\int \frac{dx}{3+\cos x}$.

Отв.: а) $-2/(x+x^2-3x^3)+C$; б) $x \arctg \sqrt{2x-1} - \frac{1}{2} \sqrt{2x-1} + C$;

в) $\ln \left| \frac{x-1}{x} \right| + C$; г) $\ln \frac{|x|}{\sqrt{x^2+1}} + C$; д) $\frac{3}{2} \sqrt[3]{x^2} + 6 \arctg \sqrt[6]{x} + C$;

е) $-\frac{1}{4x^2} \ln \left| \frac{\sqrt{1+x^4}-x^2}{\sqrt{1+x^4}+x^2} \right| - \frac{1}{8} \ln \frac{\sqrt{1+x^4}+x^2}{x^4 \sqrt{1+x^4}-x^2} - \frac{x^2}{\sqrt{1+x^4}} + C$;

ж) $\frac{2-x}{-2} \sqrt{4x-x^2} + 2 \arcsin \frac{(x-2)}{2} + C$; з) $\frac{1}{\sqrt{2}} \arctg \frac{\operatorname{tg} \frac{x}{2}}{\sqrt{2}} + C$.

2. а) $\int_0^1 \sqrt{1-x^2} dx$. б) $\int_0^{\sqrt{5}} x^2 \sqrt{5-x^2} dx$. в) $\int_0^{\pi/3} e^{\alpha x} \cos \beta x dx$.

г) Решить уравнение: $\int_{\ln 2}^x \frac{dx}{\sqrt{e^x-1}} = \frac{\pi}{6}$.

Отв.: а) $\frac{\pi}{4}$; б) $\frac{25\pi}{16}$; в) $-\frac{\alpha}{\alpha^2+\beta^2} \left(e^{\frac{\alpha\pi}{\beta}} + 1 \right)$; г) $\ln 4$.

3. а) D - фигура, ограниченная кривыми: $x = y^2 + 4y$, $y = x - 4$;

б) $x = 2 \cos^3 t$, $y = 2 \sin^3 t$, $y = 0$ ($y > 0$);

в)* $x^2 + y^2 = 4x$, $x^2 - 10x + y^2 = 0$, $y = 0$, $x = 0$.

Отв.: а) $20 \frac{5}{6}$; б) $\frac{3\pi}{2}$; в) $\frac{21\pi}{2}$.

4. а) $y = 1 - \ln \sin x$, $\frac{\pi}{3} \leq x \leq \frac{\pi}{2}$;

б) $x = 4 \cos^3 \frac{t}{4}$, $y = 4 \sin^3 \frac{t}{4}$, $0 \leq t \leq \frac{\pi}{2}$;

в) $\rho = 4\varphi$ (длину дуги первого витка архимедовой спирали).

Отв.: а) $\ln\sqrt{3}$; б) 6; в) $4\pi\sqrt{1+4\pi^2} + 2\ln(2\pi + \sqrt{1+4\pi^2})$.

5. Найти длину кривой: $x = 6\cos t$, $y = 6\sin t$, $z = 2t$, $0 \leq t \leq \pi/6$.

Отв.: $\frac{\sqrt{10}\pi}{3}$.

6. а) Вокруг оси X : $y = xe^x$, $x=1$, $y=0$.

б) Вокруг оси Y : $y = 3 - x^2$, $y = x^2 + 1$.

в) Вокруг полярной оси: $\rho = 2\cos 3\varphi$ (одного лепестка).

г) Вокруг оси X : $x = 2\cos t$, $y = \sin t$.

Отв.: а) $\pi(e^2 - 1)/4$; б) π ; в) $\frac{4\pi}{9}$; г) $\frac{8\pi}{3}$.

7. а) Вокруг оси X : $y = \frac{1}{x}$ ($1 \leq x \leq a$).

б) Вокруг оси Y : $\frac{x^2}{9} + y^2 = 1$.

в) Вокруг оси X : $x = \sqrt{x}(3\cos t - \cos 3t)$, $y = \sqrt{2}(3\sin t - \sin 3t)$,

$0 \leq t \leq \frac{\pi}{2}$.

Отв.: а) $\pi \left(\sqrt{2} - \frac{\sqrt{a^4 + 1}}{a^2} + \ln \frac{\sqrt{a^4 + 1} + a^2}{\sqrt{2} + 1} \right)$;

б) $18\sqrt{2}\pi + 3\pi \ln(\sqrt{2} + 1/2)$; в) $36\pi^2$.

8. Найти центр тяжести дуги астроида, расположенной в первой четверти:
ти: $x = 3\cos^3 t$, $y = 3\sin^3 t$.

Отв. $\frac{6}{5} = \frac{6}{5} = x_c = y_c$;

9. а) $6x = y^2$, $0 \leq x \leq 6$.

Отв.: $M_x =$

$M_y = 81/4 \cdot \sqrt{5} - 9/8 \cdot \ln(6 + 3\sqrt{5})$;

б) $x = (t - \sin t)$, $y = (1 - \cos t)$ (первой арки).

Отв.: $M_x = \frac{32}{3}$, $M_y = 8\pi$.

в) $\rho = 4\sin \varphi$, $0 \leq \varphi \leq \pi/4$.

Отв.: $M_x = 2\pi - 4$, $M_y = 4$.

10. а) Найти работу, необходимую для выкачивания нефтяного масла плотностью $\rho = 890 \text{ кг/м}^3$ из вертикального цилиндрического резерва высотой 3 м и радиусом основания 1 м.

б) Найти силу давления, испытываемую полукругом радиусом 4, погруженным вертикально в воду так, что его диаметр совпадает с поверхностью воды.

Отв.: а) 493 κДж; б) 128/3.

11. а) $\int_2^{+\infty} \frac{dx}{(x^2-1)^2}$; б) $\int_0^1 \frac{\ln x}{\sqrt{x}} dx$. Отв.: а) $\frac{1}{3} + \frac{1}{4} \ln 3$; б) -4.

12. а) $\int_0^{+\infty} \left(\frac{3}{2}\right)^{-x} \cos \pi x dx$; б) $\int_0^1 \frac{\cos x}{\sqrt{x} - \sin x} dx$.

Отв.: а) сх. абс.; б) сх.

13. а) $\int_{-1}^1 \frac{dx}{x^3}$; б) $\int_{-\infty}^{+\infty} \left(\operatorname{arctg} x + \frac{1}{1+x^2} - \frac{\pi}{2} \right) dx$. Отв.: а) 0; б) π .

Вариант 9

1. а) $\int \frac{-9x^2 - 2}{(3x^2 + 2x)^3} dx$; б) $\int \ln(5 + x^2) dx$; в) $\int \frac{2x-1}{\sqrt{9x^2-4}} dx$;

г) $\int \frac{dx}{(x+1)^2 \cdot (x^2+1)}$; д) $\int \frac{\sqrt{x}}{\sqrt[4]{x^3+1}} dx$; е) $\int \frac{dx}{x^4 \sqrt{1+x^3}}$;

ж) $\int \sqrt{x^2-6x-7} dx$; з) $\int \frac{dx}{8-4\sin x+7\cos x}$.

Отв.: а) $1/2(3x^3+2x)^2 + C$; б) $\ln(5+x^2)x - 2x + 2\sqrt{5} \operatorname{arctg} \frac{x}{\sqrt{5}} + C$;

в) $\frac{1}{9} \left(2\sqrt{9x^2-4} - 3\ln|3x+\sqrt{9x^2-4}| \right) + C$;

г) $C - \frac{1}{2(x+1)} + \frac{1}{2} \ln|x+1| - \frac{1}{4} \ln(x^2+1)$; д) $\frac{4}{3} \left(\sqrt[4]{x^3} - \ln(\sqrt[4]{x^3+1}) \right) + C$;

е) $\frac{1}{3} \left(\frac{1}{8} \ln \left| \frac{(\sqrt[4]{x-1})^9}{\sqrt[4]{x-1}} \right| - \frac{\sqrt[4]{x}}{\sqrt{x-1}} \right) + C$;

ж) $\frac{x-3}{2} \sqrt{x^2-6x-7} - 8 \ln|x-3+\sqrt{x^2-6x-7}| + C$; з) $\ln \frac{\operatorname{tg} \frac{x}{2} - 5}{\operatorname{tg} \frac{x}{2} - 3} + C$.

2. а) $\int_0^3 \sqrt{9-x^2} dx$. б) $\int_0^{\sqrt{3}} x^2 \sqrt{3-x^2} dx$. в) $\int_0^{1/2} \arcsin x dx$.

г)* Решить уравнение $\int_1^x \frac{dx}{x\sqrt{x^2-1}} = -\frac{\pi}{3}$.

Отв.: а) $\frac{9\pi}{4}$; б) $\frac{9\pi}{16}$; в) $\frac{\pi}{12} + \frac{\sqrt{3}}{2} - 1$; г) 2.

3. а) D – фигура, ограниченная кривыми $y = 2x - x^2$, $y = -x$;
 б) $x = 4 \cos^3 t$, $y = 4 \sin^3 t$; $y = 0$, $x = 0$ ($y > 0$, $x > 0$);
 в)* $x^2 - 2x + y^2 = 0$, $x^2 + y^2 = 6x$, $y = x/\sqrt{3}$, $y = x\sqrt{3}$.

Отв.: а) 4,5; б) $\frac{3}{2}\pi$; в) $\frac{4\pi}{3}$.

4. а) $y = \sqrt{1 - x^2} - \arccos x + 1$, $0 \leq x \leq 9$;
 б) $x = 2 \cos^3 t/4$, $y = 2 \sin \frac{3t}{4}$, $0 \leq t \leq \pi/2$;

в) $\rho = 2 \sin \varphi$ (от полюса до точки, для которой $\varphi = \frac{\pi}{3}$).

Отв.: а) $\ln 2,4$; б) 3; в) $2\pi/3$.

5. $x = 3(1 + \cos t)$, $y = 3(t - \sin t)$, $z = 12 \sin(t/2)$, $0 \leq t \leq \pi/4$. Отв. $\frac{3\pi}{2}$.

6. а) Вокруг оси X : $y = x^3$, $x = 2$, $y = 0$.
 б) Вокруг оси Y : $y^2 = 4ax$, $x = a$.
 в) Вокруг полярной оси: $0 \leq \rho \leq \sqrt{2} \cos^2 \varphi$.
 г) Вокруг оси X : $x = 3t^2$, $y = 3(t - t^3/3)$ (петля).

Отв.: а) $128\pi/7$; б) $16\pi a^3/5$; в) $\frac{8\sqrt{2}\pi}{21}$; г) 36π .

7. а) вокруг оси X : $y = \cos x$ ($0 \leq x \leq \frac{\pi}{2}$);
 б) вокруг оси Y : $x^2 = 2y$, $y = 3/2$;
 в) вокруг оси X : $x = 2\sqrt{2} \cos t$, $y = \sqrt{2} \sin t$.

Отв.: а) $\pi(\sqrt{2} + \ln(1 + \sqrt{2}))$; б) $\frac{14}{3}\pi$; в) $4\pi + \frac{16}{\sqrt{3}} \arcsin \frac{\sqrt{3}}{2}$.

8. Найти координаты центра тяжести дуги кривой (однородная арка циклоиды: $x = 15(t - \sin t)$, $y = 15(1 - \cos t)$). Отв.: $x_c = 15\pi$, $y_c = 20$.

9. а) $4y = x^2$, $0 \leq y \leq 4$. Отв.: $M_x = 5\sqrt{5} - \frac{1}{2} \ln(4 + 2\sqrt{5})$, $M_y = 0$.

б) $x = \sqrt{2} \cos^3 t$, $y = \sqrt{2} \sin^3 t$, $0 \leq t \leq \pi$. Отв.: $M_x = 6/5$, $M_y = 0$.

в) $\rho = 2 \cos \varphi$, $0 \leq \varphi \leq \pi/2$. Отв.: $M_x = 2$, $M_y = \pi$.

10. а) Какую работу необходимо затратить, чтобы выкачать воду, наполняющую полусферический резервуар радиусом $R = 0,6$ м?

б) Пластика, имеющая форму эллипса, наполовину погружена в жидкость вертикально так, что одна из осей длиной 8 лежит на поверхности. Найти

силу давления жидкости на каждую из сторон этой пластинки, если длина другой полуоси эллипса равна 3, а плотность жидкости 900.

Отв.: а) 1018 Дж; б) 216000.

11. а) $\int_{-\infty}^{+\infty} \frac{1 + \operatorname{arctg} x}{1 + x^2} dx$; б) $\int_{-1}^1 \frac{3x^2 + 2}{x^{2/3}} dx$. Отв.: а) π ; б) $14\frac{4}{7}$.

12. а) $\int_1^{+\infty} \frac{\operatorname{tg} \frac{1}{x} dx}{1 + \sqrt{x}}$; б) $\int_0^2 \frac{\ln(1+x)}{2-x} dx$. Отв.: а) расх.; б) расх.

13. а) $\int_{-1}^1 \frac{1}{x^5} dx$; б) $\int_{-\infty}^{+\infty} \frac{5x-3}{4x^2+3} dx$. Отв.: а) 0; б) $-\frac{\pi\sqrt{3}}{2}$.

Вариант 10

1. а) $\int \frac{-3x^2 - 8}{(x^3 - 8x + 4)^2} dx$; б) $\int (4x^3 + 6x - 7) \ln x dx$; в) $\int \frac{x - 2x^3}{4 + x^4} dx$;

г) $\int \frac{x^5 + 1}{16 - x^4} dx$; д) $\int \frac{1}{(1-x)^2} \sqrt{\frac{1-x}{1+x}} dx$; е) $\int \frac{\sqrt{(1+x^2)^5}}{x^6} dx$;

ж) $\int \sqrt{2 + 2x - x^2} dx$; з) $\int \frac{dx}{3 - 2\sin x + \cos x}$.

Отв.: а) $1/(x^3 - 8x + 4) + C$;

б) $(x^4 + 3x^2 - 7x) \ln x - \left(\frac{x^4}{4} + \frac{3x^2}{2} - 7x \right) + C$;

в) $\frac{1}{3} \ln |3x^2 - 2| - \frac{5}{2\sqrt{6}} \ln \left| \frac{x\sqrt{3} - \sqrt{2}}{x\sqrt{3} + \sqrt{2}} \right| + C$;

г) $\frac{1}{16} \operatorname{arctg} \frac{x}{2} + \ln(x^2 + 4) - \frac{33}{32} \ln|x - 2| - \frac{31}{32} \ln|x + 2| - \frac{x^2}{2} + C$;

д) $\sqrt{\frac{1+x}{1-x}} + C$; е) $\ln|x| - \frac{(x^2 + 1)^2}{4x^4} - \frac{x^2 + 1}{2x^2} + C$;

ж) $\frac{x-1}{\sqrt{3}} \sqrt{2+2x-x^2} + \frac{3}{2} \arcsin \frac{x-1}{\sqrt{3}} + C$; з) $\operatorname{arctg} \left(\operatorname{tg} \frac{x}{2} - 1 \right) + C$.

2. а) $\int_0^{10} \sqrt{100 - x^2} dx$; б) $\int_0^6 x^2 \sqrt{32 - x^2} dx$; в) $\int_{\frac{\pi}{2}}^{\pi} e^x \cos 2x dx$;

г)* Решить уравнение $\int_x^e \frac{dx}{x\sqrt{1 + \ln x}} = 2$.

Отв.: а) 25π ; б) $\frac{81\pi}{2}$; в) $-\frac{2}{5}sh\frac{\pi}{2}$; г) 1.

3. а) D – фигура, ограниченная кривыми $y = x^2/4$, $y = 3 - x^2/2$
б) $x = \sqrt{3} \cos t$, $y = \sqrt{2} \sin t$, $y = 0$, ($y > 0$);
в)* $x^2 - 2y + y^2 = 0$, $x^2 - 8y + y^2 = 0$, $y = x/\sqrt{3}$, $y = \sqrt{3}x$.

Отв.: а) 8; б) $\sqrt{\frac{2}{3}}\pi$; в) 5π .

4. а) $y^2 = x^3$ (от точки $O(0,0)$ до $A(4,8)$);
б) $x = (t^2 - 2)\sin t + 2t \cos t$; $y = (2 - t^2)\cos t + 2t \sin t$; $0 \leq t \leq \pi$
в) $\rho = 5e^\varphi$, $0 \leq \varphi \leq \pi$.

Отв.: а) $\frac{8}{27}(10\sqrt{10} - 1)$; б) $\frac{\pi^3}{81}$; в) $5\sqrt{2}(e^\pi - 1)$.

5. $x = 1 + \cos t$, $y = t - \sin t$, $z = 4 \sin\left(\frac{t}{2}\right)$, $0 \leq t \leq \pi$.

Отв.: $\frac{16}{3}$

6. а) Вокруг оси X : $y = 1/x$, $x = 2$, $x = 4$, $y = 0$.

б) Вокруг оси Y : $y = x^2$, $4x - y = 0$.

в) Вокруг полярного луча: $\rho = 2R \sin\left(\varphi + \frac{\pi}{2}\right)$.

г) Вокруг оси X : $x = t^2$, $y = t - t^3/3$.

Отв.: а) $\pi/4$; б) $20\pi/3$; в) $\frac{4\pi R^3}{3}$; г) $\frac{4\pi}{3}$.

7. а) Вокруг оси X : $y^2 = 12x$, $0 \leq x \leq 9$;

б) Вокруг оси Y : $x = \sqrt{x - x^2} + \arcsin \sqrt{x} - 4$;

в) Вокруг оси X : $x = \sqrt{2} \cos^3 t$, $y = \sqrt{2} \sin^3 t$, $0 \leq t \leq 2\pi$.

Отв.: а) 168π ; б) $\frac{\pi}{6} + \sqrt{3} - \frac{71}{32}$; в) $\frac{24\sqrt{2}}{5}\pi$.

8. Найти координаты центра тяжести дуги кривой $y = chx$, $-1 \leq x \leq 1$.

Отв.: $x_c = 0$; $y_c = \frac{e^4 + 4e^2 - 1}{4e(e^2 - 1)}$.

9. а) $\rho\sqrt{6} \cos \varphi$, $0 \leq \varphi \leq \pi/4$.

Отв.: $M_x = \frac{3}{2}$, $M_y = \frac{3}{4}\pi + \frac{3}{2}$

б) $x = 2(t - \sin t)$, $y = 2(1 - \cos t)$ (первой арки).

Отв.: $M_x = \frac{128}{3}$, $M_y = 32\pi$.

в) $2y^3 = x$, $0 \leq y \leq 1$.

Отв.: $M_x = \frac{\sqrt{37}}{4} + \frac{1}{24} \ln\left(1 + \frac{6}{\sqrt{37}}\right)$, $M_y = \frac{1}{216} \cdot (74\sqrt{37} - 1)$.

10. а) Вычислить работу, которую надо затратить, чтобы выкачать воду из котла, имеющего форму параболоида вращения. Радиус основания $R=6$ м, высота $H=5$ м.

б) Пластина, имеющая форму эллипса, наполовину вертикально погружена в жидкость так, что одна из осей длиной 4 м лежит на поверхности. Найдите силу давления жидкости на каждую из сторон этой пластинки, если длина другой полуоси эллипса равна 5 м, а плотность жидкости $\rho = 1000$ кг/м³.

Отв.: а) 150π кДж; б) ≈ 21333 .

11. а) $\int_{-\infty}^{+\infty} \frac{dx}{4x^2 + 12x + 13}$; б) $\int_2^5 \frac{dx}{\sqrt{(x-2)(5-x)}}$. Отв.: а) $\pi/4$; б) π .

12. а) $\int_0^{+\infty} \frac{\cos x + 2}{1 + \sqrt[3]{x^5}}$; б) $\int_{1/2}^3 \frac{x^2 e^{x^2} dx}{8x^3 - 1}$. Отв.: а) сж.; б) расх.

13. а) $\int_2^{15} \frac{dx}{x-10}$; б) $\int_{-\infty}^{+\infty} \frac{dx}{16+x^2}$. Отв.: а) $\ln \frac{5}{8}$; б) $\pi/4$.

Вариант 11

1. а) $\int \frac{3x-1}{(1+2x-x^2)^3} dx$; б) $\int x^2 \sin(4x-3) dx$; в) $\int \frac{\sqrt[3]{1+\ln x}}{x} dx$; г)

$\int \frac{2x^2 - 3x + 1}{x^3 + 1} dx$; д) $\int \frac{1}{x} \sqrt{\frac{x-2}{x}} dx$; е) $\int \frac{\sqrt[3]{1+\sqrt[4]{x}}}{\sqrt{x}} dx$; ж) $\int \sqrt{x^2 - 4x + 1} dx$;

з) $\int \frac{\sin x + \cos x}{3 + \sin 2x} dx$.

Отв.: а) $1/4(1+2x-3x^2)^2 + C$; б) $\frac{1-8x^2}{32} \cos(4x-3) + \frac{x}{8} \sin(4x-3) + C$;

в) $\frac{3}{4} \sqrt[3]{(1+\ln x)^4} + C$; г) $2 \ln|x+1| - \frac{2}{\sqrt{3}} \arctg \frac{2x+1}{\sqrt{3}} + C$;

$$д) -2\sqrt{\frac{x-2}{x}} - \ln \left| \frac{\sqrt{x-2} - \sqrt{x}}{\sqrt{x-2} + \sqrt{x}} \right| + C; \quad е) \frac{3}{7} (1 + \sqrt[4]{x})^{4/3} (4(1 + \sqrt[4]{x}) - 7) + C;$$

$$ж) \frac{x-2}{2} \sqrt{x^2 - 4} + 1 + \frac{3}{2} \ln |x - 2 + \sqrt{x^2 - 4}| + C;$$

$$з) \frac{1}{4} \ln \left| \frac{\sin x - \cos x + 2}{\sin x - \cos x - 2} \right| + C.$$

$$2. \text{ а) } \int_0^{\sqrt{5}} \sqrt{5-x^2} dx; \quad б) \int_0^{\pi} x^2 \sqrt{\pi^2 - x^2} dx; \quad в) \int_0^{T/2} m \cos \frac{2k\pi x}{T} dx, \quad k \in \mathbb{N};$$

$$г) \text{ Решить уравнение: } \int_{\frac{\pi}{2}}^x \frac{dx}{2 + \sin x} = \frac{\pi}{\sqrt{3}}.$$

$$\text{Отв.: а) } \frac{5\pi}{4}; \quad б) \frac{\pi^5}{16}; \quad в) 0; \quad г) \frac{\pi}{2}.$$

$$3. \text{ а) } D - \text{фигура, ограниченная кривыми } y = x^2, \quad xy = 8, \quad x = 6, \quad y = 0.$$

$$б) x = 2 \cos^3 t, \quad y = 2 \sin^3 t;$$

$$в)* x^2 + y^2 = 2x; \quad y^2 - 4x + x^2 = 0, \quad y = x, \quad y = 0.$$

$$\text{Отв.: а) } 8/3 + 16 \ln 2; \quad б) \frac{3\pi}{2}; \quad в) \frac{3\pi + 1}{4}.$$

$$4. \text{ а) } x = \ln \cos y, \quad (\text{от } y_1 = 0 \text{ до } y_2 = \pi/3);$$

$$б) x = 8 \cos^3 t, \quad y = 8 \sin^3 t, \quad 0 \leq t \leq \pi/6;$$

$$в) \rho = 12e^{12\varphi/5}, \quad 0 \leq \varphi \leq \pi/3.$$

$$\text{Отв.: а) } \ln(2 + \sqrt{3}); \quad б) 3; \quad в) 13(e^{4\pi/5} - 1).$$

$$5. \begin{cases} x = 2(1 + \cos \varphi), & 0 \leq \varphi \leq \pi/2. \\ y = 2(t - \sin \varphi), \\ z = 8 \sin \varphi/2. \end{cases}$$

Отв.: 4π .

$$6. \text{ а) Вокруг оси } X: y = 3 - x^2, \quad y = x^2 + 1.$$

$$б) \text{ Вокруг оси } Y: y^2 = 8x, \quad x = 2.$$

$$в) \text{ Вокруг полярного луча: } \rho = \sqrt{3} a \sin(\varphi - \cos t).$$

$$г) \text{ Вокруг оси } X: x = \sqrt{2}(t - \sin t), \quad y = \sqrt{2}(1 - \cos t).$$

$$\text{Отв.: а) } 32\pi/3; \quad б) \frac{128\pi}{5}; \quad в) \frac{\sqrt{3}}{2} a^3 \pi; \quad г) 10\sqrt{2}\pi^2.$$

$$7. \text{ а) Вокруг оси } X: y = chx - 2, \quad 0 \leq x \leq 1.$$

$$б) \text{ Вокруг оси } Y: \frac{x^2}{36} + \frac{y^2}{4} = 1.$$

в) Вокруг оси X : $x = 2 \cos t$, $y = \sin t$.

Отв.: а) $\pi \left(1 + \frac{e^4 - 1}{4e^2} - 2(e - e^{-1}) \right)$; б) $144\sqrt{2}\pi + 24\pi \ln(2\sqrt{2} + 3)$;

в) $2\pi + \frac{8\pi}{\sqrt{3}} \arcsin \frac{\sqrt{3}}{2}$.

8. Найти центр тяжести дуги астроида, расположенной в первой четвер-

$x = 2 \cos^3 t$, $y = 2 \sin^3 t$.

Отв.: $x_c = y_c = 4/5$.

9. а) $\rho = 4 \cos \varphi$, $0 \leq \varphi \leq \pi/4$.

Отв.: $M_x = 4$, $M_y = 2\pi + 4$.

б) $x = 3(t - \sin t)$, $y = 3(1 - \cos t)$ (первой арки).

Отв.: $M_x = 96$, $M_y = 72\pi$.

в) $y^2 = 8x$, $0 \leq x \leq 8$. **Отв.:** $M_x = 0$, $M_y = 36\sqrt{5} - \frac{1}{2} \ln(8 + 4\sqrt{5})$.

10. а) Какую работу нужно затратить на выкачивание воды из полушара радиусом $\sqrt{3}m$.

б) Вертикальная плотина имеет форму равнобокой трапеции. Вычислить силу давления воды плотностью $1000 \frac{кг}{м^3}$, если известно, что верхнее основание плотины 9 м, нижнее основание 3 м, высота плотины 6 м.

Отв.: а) $2250\pi g$ Дж; б) $90000 g H$.

11. а) $\int \frac{dx}{\sqrt{2} x \sqrt{x^2 - 1}}$; б) $\int_0^1 \frac{dx}{x^3 - 6x^2}$.

Отв.: а) $\pi/4$; б) расх.

12. а) $\int_2^{+\infty} \frac{4 + \arcsin \frac{1}{x}}{1 + x\sqrt{x}} dx$; б) $\int_0^3 \frac{x^2 dx}{\sqrt[3]{(9 - x^2)^5}}$.

Отв.: а) сж.; б) расх.

13. а) $\int_4^9 \frac{dx}{x - 6}$; б) $\int_{-\infty}^{+\infty} x^2 \sin x^3 dx$.

Отв.: а) $\ln \frac{3}{2}$; б) 0.

Вариант 12

1. а) $\int \frac{-2x - 3}{(x^2 + 3x)^4} dx$; б) $\int \arcsin \frac{x}{3} dx$; в) $\int \operatorname{tg}(3x + 4) dx$;

г) $\int \frac{2x dx}{(1+x)(1+x^2)^2}$; д) $\int x^2 \sqrt{4 - x^2} dx$; е) $\int \frac{dx}{\sqrt[4]{1+x^4}}$;

ж) $\int \sqrt{3+2x-x^2} dx$; з) $\int \frac{\sin x}{1 + \sin x} dx$.

Отв.: а) $1/3(x^2 + 3x)^3 + C$; б) $x \arcsin \frac{x}{3} + \sqrt{9 - x^2} + C$;

$$в) -\frac{1}{3} \ln |\cos(3x+4)| + C; \quad г) \frac{x-1}{2(x^2+1)} + \frac{1}{4} \ln(x^2+1) - \frac{1}{2} \ln|x+1| + C;$$

$$д) 2 \arcsin \frac{x}{2} - x + C;$$

$$е) \frac{1}{4} \operatorname{arctg} \frac{\sqrt[4]{1+x^4}}{x} + \frac{1}{16} \ln \left(1 + \frac{\sqrt{1+x^4}}{x^2} \right) + \frac{1}{4} \ln \left| \frac{\sqrt[4]{1+x^4} - x}{\sqrt[4]{1+x^4} + x} \right| + C;$$

$$ж) \frac{x-1}{2} \sqrt{3+2x-x^2} + 2 \arcsin \frac{x-1}{2} + C; \quad з) \frac{1}{\cos x} - \operatorname{tg} x + x + C.$$

$$2. а) \int_0^6 \sqrt{36-x^2} dx. \quad б) \int_0^{2\sqrt{2}} x^2 \sqrt{8-x^2} dx. \quad в) \int_0^{\pi/6} e^{2x} \sin 3x dx.$$

$$г) \text{ Решить уравнение: } \int_1^x \frac{dx}{\sqrt{2x-x^2}} = \frac{\pi}{6}.$$

$$\text{Отв.: а) } 9\pi; \quad б) 4\pi; \quad в) \frac{1}{13} (2e^{\pi/3} + 3); \quad г) 1.$$

3. а) D – фигура, ограниченная кривыми: $y = \cos x$, $y = x + 1$, $y = 0$

б) $x = t^2$, $y = \frac{t}{3} (3 - t^2)$ (фигура ограничена петлей указанно

линии);

$$в)* x^2 - 6x + y^2 = 0, \quad x^2 + y^2 = 10x, \quad y = x, \quad y = \sqrt{3}x.$$

$$\text{Отв.: а) } 1,5; \quad б) 8\sqrt{3/5}; \quad в) \left(\frac{\pi + 3\sqrt{3} - 6}{3} \right) 8.$$

$$4. а) y = ach \frac{x}{a} \quad (\text{от } x_1 = 0 \text{ до } x_2 = b);$$

$$б) x = 8 \cos^3 \frac{t}{4}, \quad y = 8 \sin^3 \frac{t}{4}, \quad 0 \leq t \leq \frac{\pi}{2};$$

$$в) \rho = 6e^{12\varphi/5}, \quad -\pi/2 \leq \varphi \leq \pi/2.$$

$$\text{Отв.: а) } ash \frac{b}{a}; \quad б) 12; \quad в) 6,5 (e^{6\pi/5} - e^{-6\pi/5}).$$

$$5. \begin{cases} x = 3 \operatorname{cost}, & 0 \leq t \leq 2\pi. \\ y = 3 \operatorname{cost}, \\ z = 3t. \end{cases}$$

$$\text{Отв.: } 6\pi\sqrt{2}.$$

6. а) Вокруг оси X : $xy = 4$, $x = 1$, $x = 2$, $y = 0$;

б) Вокруг оси Y : $y = x^3$, $x = 2$, $y = 0$;

в) Вокруг полярного луча $\rho = a^2 \cos \varphi$.

г) Вокруг оси X : $x = 2 \operatorname{cost}$, $y = 3 \sin t$.

Отв.: а) 8; б) $64\pi/5$; в) $\frac{a}{6}\pi$; г) 24π .

7. а) Вокруг оси X : $y = \sqrt{x - x^2} + \arcsin \sqrt{2} + 2$.

б) Вокруг оси Y : $x = 3 + chy$, $0 \leq y \leq 1$.

в) Вокруг оси X : $x = t^2$, $y = \frac{t}{3}(t^2 - 3)$, $-\sqrt{6} \leq t \leq \sqrt{6}$.

Отв.: а) $2 + \pi/6 + \sqrt{3} + \frac{57}{32}$; б) $\pi \left(3(e - e^{-1}) + \frac{e^4 - 1}{4e^2} + 1 \right)$; в) 12π .

8. Найти центр тяжести правой полуокружности $x^2 + y^2 = 16$.

Отв.: $x_c = \frac{8}{\pi}$, $y_c = 0$.

9. Найти статические моменты M_x и M_y кривой относительно осей X и Y соответственно.

а) $y = 4x^3$, $0 \leq x \leq 1$.

Отв.: $M_x = \frac{1}{216}(145\sqrt{145} - 1)$, $M_y = \frac{\sqrt{145}}{4} + \frac{1}{48} \ln \left(1 + \frac{\sqrt{145}}{12} \right)$.

б) $x = 5 \cos^3 t$, $y = 5 \sin^3 t$, $0 \leq t \leq \pi/2$.

Отв.: $M_x = M_y = 15$.

в) $\rho = \sqrt{2} \sin \varphi$, $0 \leq \varphi \leq \pi/4$.

Отв.: $M_x = \frac{\pi}{4} - \frac{1}{2}$, $M_y = \frac{1}{2}$.

10. а) Найти работу, которую нужно затратить, чтобы выкачать жидкость плотностью $\rho = 900 \text{ кг/м}^3$ из цистерны высотой 1,5 м, боковая поверхность которой имеет форму параболического цилиндра, длина цистерны 3 м, ширина 2 м.

б) Пластинка в форме прямоугольного треугольника с катетами 6 м и 4 м опущена вертикально в жидкость плотностью 900 кг/м^3 так, что катет 6 м находится на поверхности жидкости. Найти силу давления на пластинку.

Отв.: а) $\approx 31,75 \text{ Дж}$; б) 14400 гН .

11. а) $\int_{-1}^{+\infty} \frac{x+2}{x^2+2x+2} dx$; б) $\int_1^e \frac{dx}{x\sqrt{\ln x}}$.

Отв.: а) расх.; б) 2.

12. а) $\int_2^{+\infty} \frac{\sin 2x}{x^2 \ln x} dx$; б) $\int_0^2 \frac{\ln(\sqrt[4]{x}+1)}{e^{2\lg x} - 1} dx$.

Отв.: а) расх.; б) сх. абс.

13. а) $\int_2^5 \frac{dx}{(x-4)^3}$; б) $\int_{-\infty}^{+\infty} x \sin(x^2+6) dx$.

Отв.: а) $-3/8$; б) 0.

Вариант 13

1. а) $\int \frac{1+x^2}{(4+3x+x^3)^2} dx$; б) $\int (2x-3)\cos 3x dx$;

в) $\int \frac{\ln x - 3}{x\sqrt{\ln x}} dx$; г) $\int \frac{dx}{(x^2+9)^3}$; д) $\int \frac{1}{(x+1)^2} \left(\frac{x-3}{x+1}\right)^{3/4} dx$

е)* $\int \frac{\sqrt[3]{1+\sqrt{x}}}{x} dx$; ж) $\int \sqrt{2x^2+3x+1} dx$; з) $\int \frac{dx}{5+4\sin x}$.

Отв.: а) $-1/3(4+3x+x^3)+C$; б) $\frac{1}{3}(2x-3)\sin 3x + \frac{2}{9}\cos 3x + C$;

в) $\frac{2}{3}\sqrt{\ln^3|x|} - 6\sqrt{|\ln|x||} + C$; г) $\frac{x}{216(x^2+9x)} + \frac{x}{36(x^2+9)^2} + \frac{1}{648}\operatorname{arctg}\frac{x}{3} + C$;

ж) $\frac{1}{8}\left((4x+3)\sqrt{2x^2+3x+1} - \frac{\sqrt{2}}{4}\ln(4x+3+2\sqrt{2}\sqrt{2x^2+3x+1})\right) + C$;

д) $\frac{1}{7^4}\sqrt[4]{\left(\frac{x-3}{x+1}\right)^7} + C$;

е) $6\sqrt[3]{1+\sqrt{x}} + 2\ln|\sqrt[3]{1+x} - 1| - \frac{1}{2}\ln\left(\sqrt[3]{(1+\sqrt{x})^2} + \sqrt[3]{1+\sqrt{x}} + 1\right) -$

$-\frac{7}{\sqrt{3}}\operatorname{arctg}\frac{2\sqrt[3]{1+\sqrt{x}}+1}{\sqrt{3}} + C$; з) $\frac{2}{3}\operatorname{arctg}\frac{5tg\frac{x}{2}+4}{3} + C$.

2. а) $\int_0^{\sqrt{8}} \sqrt{8-x^2} dx$; б) $\int_0^2 x^2\sqrt{4-x^2} dx$; в) $\int_1^e (1+\ln x)^2 dx$.

г)* Решить уравнение $\int_0^x xe^{x^2} dx = \frac{1}{2}(e-1)$.

Отв.: а) 2π ; б) π ; в) $2e-1$; г) 1.

3. а) D - фигура, ограниченная кривыми $y = (x-2)^2$, $x=3$, $x=0$, $y=0$

б) $x = \sqrt{2}(t - \sin t)$, $y = \sqrt{2}(1 - \cos t)$, $y = \sqrt{2}$;

в)* $x^2 - 4y + y^2 = 0$, $x^2 - 8y + y^2 = 0$, $y = \frac{x}{\sqrt{3}}$, $y = 0$.

Отв.: а) 3; б) $\pi + 8$; в) $2\pi - 3\sqrt{3}$.

4. а) $y = 1 - e^x$, между точками $O(0,0)$ и $B(2, 1 - e^2)$;

б) $x = 5(t - \sin t)$, $y = 5(1 - \cos t)$, $0 \leq t \leq \pi$;

в) $\rho = 2(1 - \cos \varphi)$ (длину всей кардиоиды).

Отв.: а) $\approx 6,789$; б) $10\sqrt{2}$; в) 16.

5. $x = 4(1 + \cos t)$, $y = 4(t - \sin t)$, $z = 16 \sin(t/2)$, $0 \leq t \leq \pi/6$. **Отв.:** $\frac{4\pi}{3}$.

6. а) вокруг оси X : $y = 4x - x^2$, $y = x$;

б) вокруг оси Y : $y^2 = 4x$, $x = 1$;

в) вокруг полярного луча: $\rho = 2\sqrt{3} \sin\left(\varphi + \frac{\pi}{2}\right)$.

г) вокруг оси X : $x = 2 \cos^3 t$, $y = 2 \sin^3 t$.

Отв.: а) $21,6\pi$; б) $16\pi/5$; в) $4\sqrt{3}\pi$; г) $\frac{256}{105}\pi$.

7. а) Вокруг оси X : $y = 1 + \arcsin \sqrt{x} + \sqrt{x - x^2}$.

б) Вокруг оси Y : $x = 1 + chy$, $0 \leq y \leq 1$.

в) Вокруг оси X : $x = t - \sin t$, $y = 1 - \cos t$.

Отв.: а) $\left(\sqrt{3} + \frac{89}{32} + \frac{\pi}{6}\right)$; б) $\pi \left((e - e^{-1}) + \frac{e^4 - 1}{4e^2} + 1 \right)$; в) $\frac{64}{3}\pi$.

8. Найти центр тяжести однородной арки циклоиды $x = 9(t - \sin t)$,
 $y = 9(1 - \cos t)$. **Отв.:** $x_c = 9\pi$, $y_c = 12$.

9. а) $10x = y^2$, $0 \leq x \leq 10$. **Отв.:** $M_x = 0$, $M_y = 255\sqrt{5} - \frac{25}{2} \ln(10 + 5\sqrt{5})$.

б) $x = 5 \cos t$, $y = 3 \sin t$, $0 \leq t \leq \frac{\pi}{2}$.

Отв.: $M_x = \frac{9}{2} + \frac{75}{8} \arcsin \frac{4}{5}$, $M_y = 50 + \frac{45}{8} \ln 6$.

в) $\rho = 6 \sin \varphi$, $0 \leq \varphi \leq \pi/4$. **Отв.:** $M_x = \frac{9}{2}\pi - 9$, $M_y = 9$.

10. а) Вычислить работу, которую необходимо затратить, чтобы поднять материальную точку массой 50 кг с поверхности земли на высоту 8 м. Радиус земли $R \approx 6400$ км.

б) Найти силу давления воды на вертикальный шлюз, сечение которого имеет форму полукруга с диаметром 6 м, совпадающим с поверхностью

Отв.: а) ≈ 400 г Дж; б) $\approx 174,4$ кН.

11. а) $\int_{-\infty}^{+\infty} \frac{dx}{x^2 + 6x + 13}$; б) $\int_2^3 \frac{dx}{(x-1)\ln(x-1)}$. **Отв.:** а) $\pi/2$; б) расх.

12. а) $\int_1^{+\infty} \frac{dx}{x + \sin^2 \pi x}$; б) $\int_{-16}^{16} \frac{\cos \pi x}{\sqrt[3]{16-x}} dx$. **Отв.:** а) расх.; б) сч. абс.

$$13. \text{ а) } \int_0^3 \frac{dx}{x-1};$$

$$\text{ б) } \int_{-\infty}^{+\infty} \frac{2x dx}{x^2+4}.$$

Отв.: а) $\ln 2$; б) 0.

Вариант 14

$$1. \text{ а) } \int \frac{6x^2 dx}{(x^3-4)^3}; \text{ б) } \int x \sin 2x dx; \text{ в) } \int e^x \sqrt{k - me^x} dx; \text{ г) } \int \frac{(x^3+1) dx}{(x^2-4x+5)^2}$$

$$\text{ д) } \int \frac{\sqrt{y^2-2}}{y^4} dy; \text{ е) } \int \frac{dx}{x^2 \sqrt{x^2-1}}; \text{ ж) } \int \sqrt{2+x-x^2} dx; \text{ з) } \int \frac{dx}{3 \cos x - 4 \sin x}$$

Отв.: а) $-1(x^3-4)^2 + C$; б) $C - \frac{x}{2} \cos 2x + \frac{1}{4} \sin 2x$;

в) $C - \frac{2}{3m} \sqrt{k - me^x} dx$;

г) $\frac{3x-17}{2(x^2-4x+5)} + \frac{1}{2} \ln(x^2-4x+5) + \frac{15}{2} \operatorname{arctg}(x-2) + C$;

д) $\frac{1}{6} \cos^3 \left(\arcsin \frac{\sqrt{2}}{7} \right) + C$; е) $\frac{\sqrt{x^2-1}}{x} + C$;

ж) $\frac{1}{8} \left(2(2x-1)\sqrt{2+x-x^2} + 9 \arcsin \frac{2x-1}{3} \right) + C$; з) $\frac{1}{5} \ln \left| \frac{3 \operatorname{tg} \frac{x}{2} + 9}{3 \operatorname{tg} \frac{x}{2} - 1} \right| + C$

2. а) $\int_0^2 \sqrt{2-x^2} dx$; б) $\int_0^1 x^2 - \sqrt{1-x^2} dx$; в) $\int_0^a \cos ax dx$;

г)* решить уравнение: $\int_2^x \frac{dx}{x\sqrt{x-1}} = -\frac{\pi}{6}$.

Отв.: а) $\frac{\pi}{2}$; б) $\frac{\pi}{16}$; в) $-\frac{4\pi}{a^3}$; г) 4.

3. а) D- фигура, ограниченная кривыми: $y = x^2 + 6x + 10$, $y = -x$; $x = y = 5$;

б) $x = 4 \cos t$, $y = 8 \sin t$; $y = 0$, $x = 0$ ($x > 0$, $y > 0$);

в) $x + y = y$; $x^2 - 2y + y^2 = 0$; $y = \frac{x}{\sqrt{3}}$; $y = x$.

Отв.: а) $21\frac{1}{3}$; б) 8π ; в) $\frac{\pi}{12} - \frac{3-3\sqrt{3}}{2}$.

4. а) $y = \sqrt{x-x} - \arccos \sqrt{x}$, $0 \leq x \leq \frac{1}{4}$;

б) $x = e^t \cos t, x = e^t \sin t, 0 \leq t \leq \ln 4;$

в) $\delta = \varphi$ (длину дуги первого витка архимедовой спирали).

Отв. а) 1; б) $3\sqrt{2}$; в) $\pi\sqrt{1+4\pi^2} + \frac{1}{2}\ln(2\pi + \sqrt{1+4\pi^2})$.

5.
$$\begin{cases} x = \cos t, & 0 \leq t \leq \pi/2. \\ y = \sin t, \\ z = 7t, \end{cases}$$

Отв. $2,5\sqrt{2\pi}$.

6. а) Вокруг оси $X: xy = 4, 2x + y - 6 = 0$.

б) Вокруг оси $Y: y^2 = 12x, x = 3$.

в) Вокруг полярного луча $\delta = a \cos \varphi$.

г) Вокруг оси $X: x = 2(t - \sin t), y = 2(1 - \cos t)$, (одну арку), $y = 0$.

Отв.: а) $4\pi/3$ б) $\frac{432\pi}{5}$ в) $\frac{a^3\pi}{24}$ г) $40\pi^2$.

7. а) Вокруг оси $X: y = 1 - e^x, 0 \leq x \leq 2$.

б) Вокруг оси $Y: x^2 = 12y, y = 9$.

в) Вокруг оси $X: x = \sqrt{3}(3 \cos t - \cos 3t), y = \sqrt{3}(3 \sin t - \sin 3t),$

$0 \leq t \leq \frac{\pi}{2}$.

Отв.: а) $\frac{1}{2}(e^2\sqrt{e^4+1} + \ln(e^2 + \sqrt{e^4+1}) - (\sqrt{2} + \ln(1 + \sqrt{2})))$; б) 1168π ;

в) $54\pi^2$.

8. Найти центр тяжести дуги астроиды, расположенной в первой четверти

ж: $x = 4 \cos^3 t, y = 4 \sin^3 t$.

Отв.: $x_e = y_e = 8/5$.

9. а) $\rho = 8 \sin \varphi, 0 \leq \varphi \leq \pi/4$

Отв.: $M_x = 8\pi - 16, M_y = 16$;

б) $x = \sqrt{3}(t - \sin t), y = \sqrt{3}(1 - \cos t)$ (первой арки).

Отв.: $M_x = 32, M_y = 24\pi$.

в) $x^2 = 10y, 0 \leq y \leq 10$. **Отв.: $M_x = 225\sqrt{5} - \frac{25}{2}\ln(10 - 5\sqrt{5}), M_y = 0$.**

10. а) Вычислить работу, которую нужно затратить на выкачивание воды из полушара радиусом 2 м.

б) Сечение вертикальной плотины имеет форму равнобокой трапеции, верхнее основание равно 46 м, нижнее – 34 м, высота – 8 м. Найти силу давления воды на плотину при условии, что верхнее основание трапеции совпадает с поверхностью воды ($\rho = 1000 \text{ кг/м}^3$).

Отв. а) $4000\pi \text{ Дж}$; б) $11916,8 \text{ кг}$.

11. а) $\int_0^{+\infty} x \sin 2x dx$; б) $\int_{-3/4}^0 \frac{xdx}{\sqrt{3+4x}}$.

Отв.: а) расх.; б) $-\sqrt{7}/3$.

12. а) $\int_0^{+\infty} \frac{dx}{\sin^2 x + \sqrt[3]{(x+1)^7}}$; б) $2 \int_0^2 \frac{\sqrt{x} dx}{\sqrt{16-x^4}}$. Отв.: а) сж.; б) сж.

13. а) $\int_{1/2}^2 \frac{dx}{x \ln x}$; б) $\int_{-\infty}^{+\infty} \operatorname{sh} x dx$. Отв.: а) 0; б) сж.

Вариант 15

1. а) $\int \frac{-4-3x^2}{(4x+x^3)^2} dx$; б) $\int \frac{x \cos x}{\sin^3 x} dx$; в) $\int \frac{t dt}{\sqrt{a^2-t^4}}$; г) $\int \frac{3x+5}{(x^2+2x+2)^2} dx$.

д) $\int \frac{dx}{(1-x^2)\sqrt{1+x^2}}$; е) $\int \frac{\sqrt{2-\sqrt[3]{x}}}{\sqrt[3]{x}} dx$; ж) $\int \sqrt{x^2-2x+2} dx$; з) $\int \frac{dx}{(\sin x + \cos x)^2}$.

Отв.: а) $\frac{1}{2}(4x+x^3)+C$; б) $C - \frac{1}{2}(-\frac{x}{\sin^2 x} + \operatorname{ctg} x)$; в) $\frac{1}{2} \arcsin \frac{t^2}{a} + C$.

г) $\frac{2x-1}{2(x^2+2x+2)} + \operatorname{arctg}(x+1) + C$; д) $-\frac{1}{2\sqrt{2}} \ln \left| \frac{\sqrt{2} \sin(\operatorname{arctg} x) - 1}{\sqrt{2} \sin(\operatorname{arctg} x) + 1} \right| + C$;

е) $-4\sqrt{(1-\sqrt[3]{x})^3} + \frac{6}{5}\sqrt{(1-\sqrt[3]{x})^5} + C$;

ж) $(x-1)\sqrt{x^2-2x+1} + \frac{1}{2} \ln(x-1 + \sqrt{x^2-2x+2}) + C$; з) $-\frac{1}{1+\operatorname{tg} x} + C$.

2. а) $\int_0^{\sqrt{10}} \sqrt{10-x^2} dx$. б) $\int_0^{\sqrt{6}} x^2 \sqrt{6-x^2} dx$. в) $\int_0^{\pi/2} \sin^3 x dx$;

г)* Решить уравнение: $\int_{1/4}^x \frac{dx}{(4x+1)\sqrt{x}} = \frac{\pi}{12}$.

Отв.: а) $\frac{5\pi}{2}$; б) $\frac{9\pi}{4}$; в) $\frac{2}{3}$; г) $\frac{3}{4}$.

3. а) D – фигура, ограниченная кривыми: $x = y^2$, $x = \frac{3}{4}y^2 + 1$;

б) $x = 2 \cos t$, $y = 3 \sin t$, $y = 0$, ($y > 0$);

в) $x^2 - y + y^2 = 0$, $x^2 - 6y + y^2 = 0$, $y = \sqrt{3x}$, $Y = X$.

Отв.: а) $8/3$; б) 3π ; в) $\frac{35\pi}{48} + \frac{35(2-\sqrt{3})}{8}$.

4. а) $y = \ln x$ (между точками $A(\sqrt{3}, 0,5 \ln 3)$ и $B(\sqrt{8}, 1,5 \ln 2)$);

б) $x = (t^2 - 2) \sin t + 2t \cos t$; $y = (2-t^2) \cos t + 2t \sin t$; $0 \leq t \leq \pi$;

в) $\rho = 3e^\varphi$; $0 \leq \varphi \leq \pi$.

Отв.: а) $1 + 0,5 \ln 1,5$; б) $\pi^3/3$; в) $3\sqrt{2}(e^\pi - 1)$.

5. Найти длину первого витка винтовой линии

$$\begin{cases} x = 2 \cos \varphi, & 0 \leq \varphi \leq 2\pi. \\ y = 2 \sin \varphi, \\ z = \varphi. \end{cases}$$

Отв. $2\pi\sqrt{5}$.

6. а) Вокруг оси X : $y^2 = x^3$; $x=1$, $y=0$.

б) Вокруг оси Y : $y = x^2$; $y^2 = 8x$.

в) Вокруг полярного луча: $\rho = \sqrt{3} \cos \varphi$.

г) Вокруг оси X : $x = 2t^2$, $y = 2(t - t^3/3)$ (фигура ограничена петлей).

Отв.: а) $\pi/4$ б) $24\pi/5$ в) $\frac{\sqrt{3}\pi}{2}$ г) $\frac{32\pi a^3}{3}$.

7. а) Вокруг оси X : $y^2 = 8x$; $0 \leq x \leq 6$.

б) Вокруг оси Y : $x = chy$; $\ln 2 \leq y \leq \ln 3$.

в) Вокруг оси X : $x = 2(t^2 + 1)$; $y = \frac{2t}{3}(3 - t^2)$ (петля).

Отв.: а) $\frac{224\pi}{3}$; б) $\pi(185 + 144 \ln 1,5)/144$; в) 12π .

8. Найти координаты центра тяжести дуги кривой

$$y = 2ch \frac{x}{2}; \quad -2 \leq x \leq 2 \quad \text{Отв. } x_e = 0; \quad y_e = \frac{2(e + 4e^2 - 1)}{2e(e^2 - 1)}.$$

9. а) $y = 2x^3$; $0 \leq x \leq 1$

$$\text{Отв.: } M_x = \frac{1}{216}(74\sqrt{37} - 1); \quad M_y = \frac{\sqrt{37}}{4} + \frac{1}{24} \left(\ln(1 + \frac{6}{\sqrt{37}}) \right).$$

$$\text{б) } x = 6 \cos t; \quad y = 2 \sin t; \quad 0 \leq t \leq \frac{\pi}{2}.$$

$$\text{Отв.: } M_x = 2 + \frac{9}{\sqrt{2}} \arcsin \frac{\sqrt{2}}{3}; \quad M_y = 72\sqrt{2} + \frac{27\sqrt{2}}{2} \ln 7.$$

$$\text{в) } \rho = \sqrt{6} \sin \varphi \quad 0 \leq \varphi \leq \pi/4. \quad \text{Отв.: } M_x = \frac{3\pi}{4} - \frac{3}{2}; \quad M_e = \frac{3}{2}.$$

10. а) Какую работу нужно затратить, чтобы выкачать воду из полушара радиусом 3 м?

б) Вычислить силу давления на плотину, имеющую форму равнобокой трапеции, верхнее основание которой 6,4 м, нижнее — 4,2 м, а высота — 3 м, плотность воды $\rho = 1000 \text{ кг/м}^3$.

Отв.: а) $20250\pi \text{ Дж}$; б) 22200 г Н .

$$11. \text{ а) } \int_{-\infty}^{+\infty} \frac{x^3 dx}{3x^4 + 4}; \quad \text{б) } \int_{-1}^1 \frac{dx}{\sqrt{1-x}(2-x)}.$$

Отв. а) расх.; б) $\pi/\sqrt{3}$.

$$12. \text{ а) } \int_1^{+\infty} \frac{\cos x dx}{\ln(1+x)}; \text{ б) } \int_0^1 \frac{dx}{x+4x^2+\sqrt{x}}.$$

Отв. а) сх. условно; б) сх.

$$13. \text{ а) } \int_{-2}^6 \frac{dx}{x-4}; \text{ б) } \int_{-\infty}^{+\infty} \frac{\operatorname{arctg} x}{1+x^2} dx.$$

Отв. а) $-\ln 3$; б) $\pi^2/4$.

Литература

1. Жевняк Р.М., Карпук А.А. Высшая математика: Функции многих переменных. Интегральное исчисление функций одной и многих переменных. Векторный анализ: Учебник – Мн.: Выш.шк., 1993. – 411 с.

2. Кудрявцев Л.Д., Кутасов А.Д., Чехлов В.И., Шабунин М.И. Сборник задач по математическому анализу: Интегралы. Ряды: Учеб. пособие для в-зов/Под ред. Л.Д. Кудрявцева. – М.: Наука. Гл. ред. физ.-мат. лит., 1986. – 528 с.

3. Марон И.А. Дифференциальное и интегральное исчисление в примерах и задачах: Функции одной переменной. – М.: Наука. Гл. ред., физ.-мат. лит., 1973. – 400 с.

4. Рябушко А.П., Бархатов В.В., Державец В.В., Юреть И.Е. Сборник индивидуальных заданий по высшей математике: Учеб. пособие. В 3ч. Ч. 2/Общ. ред. А.П. Рябушко. – Мн.: Выш. шк., 1991. – 352 с.

Содержание

Введение	3
1. Неопределенный интеграл	3
1.1. Первообразная и неопределенный интеграл	3
1.2. Интегрирование рациональных функций	10
1.3. Интегрирование иррациональных функций	17
1.4. Интегрирование тригонометрических выражений	26
2. Определенный интеграл	35
2.1. Интеграл Римана	35
2.2. Формула Ньютона – Лейбница	38
2.3. Приближенные методы вычисления определенных интегралов	45
2.4. Геометрические приложения определенных интегралов	49
2.5. Физические применения определенного интеграла	65
3. Несобственные интегралы	75
3.1. Несобственные интегралы от неограниченных функций	75
3.2. Несобственные интегралы с бесконечными пределами интегрирования (1-го рода)	84
4. Интегралы, зависящие от параметра	93
4.1. Собственные интегралы, зависящие от параметра	93
4.2. Несобственные интегралы, зависящие от параметра	99
4.3. Интегралы Эйлера	108
Приложение. Самостоятельная работа «Интегральное исчисление функций одной переменной». Структура	113
Литература	146